

Prénom : _____

Plan de travail 05

Tu dois rendre ton plan de travail le : _____

- Tu as dépassé ton objectif
- Tu as atteint ton objectif
- Tu n'as pas fini ton PDT

Signature

Compétence travaillées : les compétences coloriées sont celles que tu as réussies et que tu peux colorier sur ton suivi.

G1b C1c V2b O1c N1a N3b N4b Ca1b

G1b

Combien y a-t-il de phrases sans ce texte.

Depuis que Martin a un masque et des palmes, on ne le voit plus. Il part tôt pour la mer et ne revient que pour déjeuner. Puis il retourne à la plage et ne rentre que le soir. Il s'est fait des tas d'amis qui, comme lui, nagent sous l'eau.

Dans ce texte, il y a ___ phrases.

à corriger
à revoir



C1c

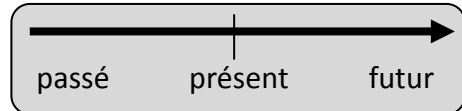
Ecris passé, présent ou futur :

J'écris la date sur mon cahier. _____

Tu as descendu les escaliers. _____

Elle terminera son travail. _____

Nous avons fait du cheval en forêt. _____



à corriger
à revoir



V2b

Réécrit cette liste de mots dans l'ordre alphabétique

1 potiron – carotte – navet – aubergine – fenouil




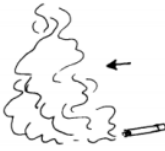




2 cheval – écureuil – sanglier - mouton - âne

à corriger
à revoir



O1c

Complète avec f ou v :

				
une _ée	un che_al	un _ilm	la _umée	une élè_e
	9			
un na_ire	neu_	elle rê_e	elle se la_e	la _orêt

à corriger
à revoir



N1aEcris ces nombres en chiffres

quatorze : _____

vingt-neuf : _____

soixante : _____

quarante-six : _____

douze : _____

dix-huit : _____

trente-sept : _____

cinquante-trois : _____

cinq : _____

à corriger
 à revoir
**N3b**Complète ces suites numériques de 2 en 2

① 12 - 14 - _____ - _____ - _____ - _____ - _____ - _____ - 30

② 37 - 39 - _____ - _____ - _____ - _____ - _____ - _____ - 55

③ 46 - 48 - _____ - _____ - _____ - _____ - _____ - _____ - 64

à corriger
 à revoir
**N4b**Décompose comme le modèle. $36 = 30 + 6 = 3 \text{ d} + 6 \text{ u}$

39 : _____

23 : _____

14 : _____

8 : _____

45 : _____

à corriger
 à revoir
**Ca1b**Pose et calcule ces additions :

$25 + 18 = \underline{\quad}$

$36 + 9 = \underline{\quad}$

$42 + 53 = \underline{\quad}$

$$\begin{array}{r}
 \square \square \\
 + \square \square \\
 \hline
 \square \square
 \end{array}$$

$$\begin{array}{r}
 \square \square \\
 + \square \square \\
 \hline
 \square \square
 \end{array}$$

$$\begin{array}{r}
 \square \square \\
 + \square \square \\
 \hline
 \square \square
 \end{array}$$

à corriger
 à revoir
