



Orthographe

Je complète avec M ou N (attention, on se rappelle de la règle M/P/B). Je regarde bien la lettre derrière le trait.

Du came__bert - une la____pe - un po__t-
Un ro____d - une bo____be - une pa____thère -
Un sa____glier - une a____balance - un ti____bre
Un pi____ceau - une ti____bale - un po____pe
To____ber - ro____fler _ po____per



Orthographe

Je réponds aux devinettes. Chaque mot doit contenir le son u.



Je suis un animal. Je peux vivre sur la terre ou dans la mer. Je suis lente.



Je suis un métier. Je peux utiliser une scie ou une tronçonneuse.



Vocabulaire

Je range les mots dans l'ordre alphabétique:



tomber - danser - attraper - manger - lire

trier - déchirer - colorier - peindre - relier




Vocabulaire

Je range les mots dans l'ordre alphabétique; attention, je ne regarde que la 2ème lettre

poule - pantalon - pelote- pile - pluie

mer - maire - moulin - mine - mur



9

Écriture

Je copie la phrase:



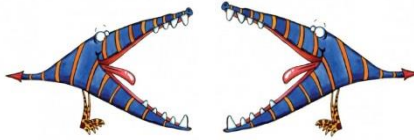
Vendredi, c'est la fin de semaine mais c'est aussi le jour de la piscine.

Handwriting practice grid with 10 columns and 4 rows.

1 0

Numération

Je compare les nombres



41..... 54	36.....24
69.... 70	84....96
87....53	100....70
65..... 68	68....69
99.... 23	91.....78
98....78	95.....65

80 + 10	70 + 10
60 + 20	90
90	80 + 20
50 + 50	90
70	50 + 10
60 + 40	80
90 + 10	60 + 30
70.....	80 + 10

1 1

Numération

Je range dans l'ordre croissant

65-98-74-100-97-71

Ordering exercise with six empty boxes of increasing size.

88-64 -72-93-73-83

Ordering exercise with six empty boxes of increasing size.

1 2

Géométrie

Je me repère sur le quadrillage et je complète



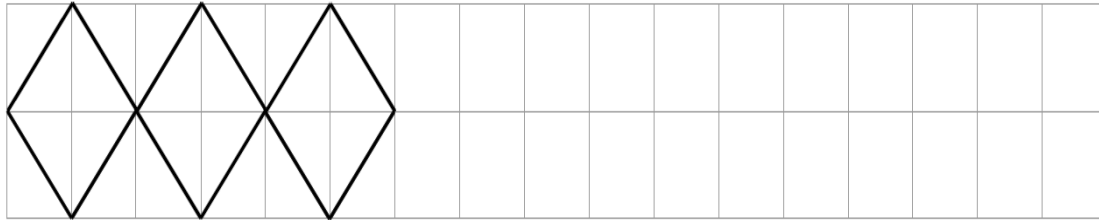
- (...;...)
- (...;...)
- (...;...)
- (...;...)
- (...;...)

	A	B	C	D
1				
2				
3				
4				



Géométrie

Je continue la frise et je colorie avec deux couleurs:



Mesures

Je trace à la règle les segments demandés à partir de la croix:

AB = 6 cm



CD = 4 cm




EF = 8 cm



Opérations

Je calcule les additions:



	6	8
+	5	9
<hr/>		

	7	6
+	8	4
<hr/>		



Calcul

Je calcule en ligne et je m'aide des doubles pour calculer vite:

$5 + 6 + 5 = \underline{\quad}$

$8 + 8 + 4 = \underline{\quad}$

$7 + 5 + 7 = \underline{\quad}$

$9 + 9 + 3 = \underline{\quad}$

$6 + 6 + 5 = \underline{\quad}$

$4 + 8 + 4 = \underline{\quad}$

$3 + 9 + 3 = \underline{\quad}$

$2 + 2 + 2 + 2 = \underline{\quad}$

$4 + 4 + 4 + 4 = \underline{\quad}$

