

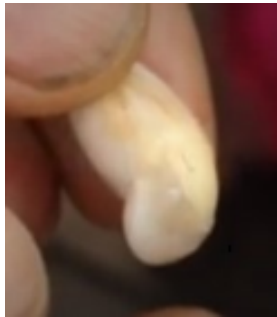


Séance 3 : Comment la graine fait-elle pour fabriquer une future plante ?



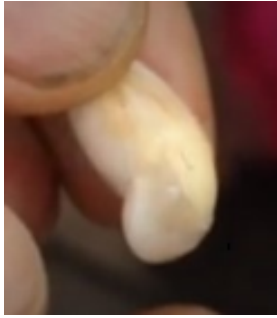
Dans quelles conditions doit-elle être pour donner naissance à une plante ?

Exercice 1 Découpe et colle ces photos au bon endroit dans tes résumés.



Exercice 1

Découpe et colle ces photos au bon endroit dans tes résumés.



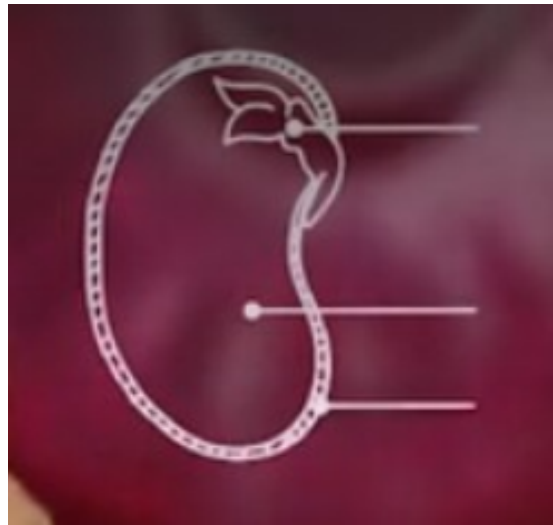
Séance 3 : Comment la graine fait-elle pour fabriquer une future plante ?

Dans quelles conditions doit-elle être pour donner naissance à une plante ?



Exercice 2

Reproduis et légende ce schéma du début de la germination d'un haricot.



De la graine au fruit.exe

cycle-de-vie-d-un-plant-de-haricot-FLUVORE.mp4