

c	d	u
1	3	1



Chiffre des dizaines

Combien de dizaines **seules** ?  
Dans la colonne des dizaines

c	d	u
1	3	1

Nombre de dizaines

Combien de dizaines **en tout** ?  
Il y en a dans les centaines aussi



# Nombres : les bases

10 chiffres


0, 1, 2, 3, 4, 5, 6, 7, 8, 9

nombre

1 ou plusieurs chiffres

croissant

Du + petit au + grand



décroissant

Du + grand au + petit

