

plan de révision 14

Semaine du 14 décembre au 18 décembre 2015



Étude de la langue : vocabulaire

1 Écris si le mot en gras est employé au sens propre ou au sens figuré.

- a. Comme jeudi est un jour férié, nous avons fait le **pont** vendredi.
Je suis passée sur le **pont** Mirabeau où j'ai vu couler la Seine !
- b. Je reprendrai bien un **doigt** de café avec mon dessert.
Montrer quelqu'un du **doigt** n'est pas très poli.
- c. Nous adorons observer les **étoiles** dans le ciel.
Cette ballerine est une **étoile** de l'opéra de Paris.
- d. Ses résultats scolaires sont bien **maigres**, il faut qu'il travaille davantage.
Damien ne mange pas assez, il est **maigre** comme un clou.

2 **Souligne** en bleu les définitions du nom *fond* qui sont au sens propre et en rouge celles qui sont au sens figuré.


- e. Partie essentielle, fondamentale. *Il y a un fond de vérité dans ce qu'il dit.*
- f. Ce sur quoi se détachent les motifs. *Une robe à pois verts sur fond jaune.*
- g. L'endroit le plus reculé, le plus éloigné. *S'installer au fond de la classe.*
- h. Nature profonde d'une personne. *Quelquefois Zoé est moqueuse, mais elle a un bon fond.*
- i. La partie la plus basse, la plus profonde de quelque chose. *Il reste du sucre au fond de ma tasse.*

Dictionnaire *super major*, Larousse.




Grandeurs et mesures

4 **Calcule** le périmètre des figures suivantes.



8 cm



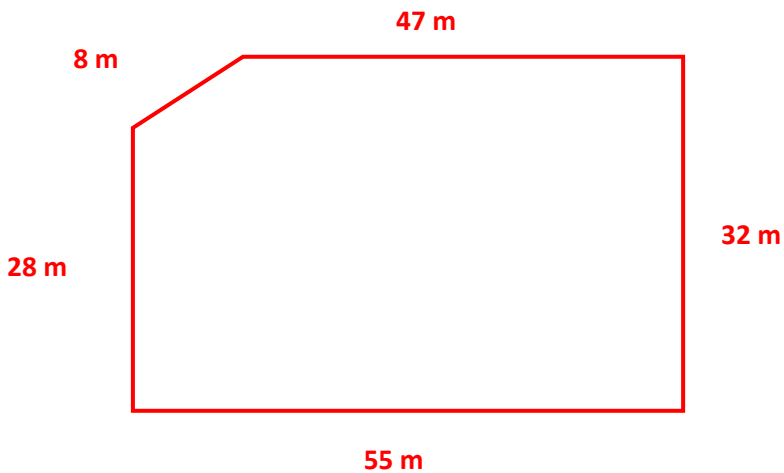
12 cm

5 Complète le tableau suivant.

Carré	
côté	périmètre
12 m	...
...	24 m
30 cm	...

Rectangle		
longueur	largeur	périmètre
...	12 m	44 m
35 cm	...	120 cm
50 m	30 m	...

6 Résous le problème suivant.



M. Durand veut clôturer son terrain avec du grillage. Il a réalisé un schéma pour l'aider à connaître la longueur qu'il devra acheter. Réponds aux questions.

1. Quelle longueur de grillage devra-t-il acheter ?

2. Le grillage coûte 16€ le mètre. Combien devra-t-il dépenser pour sa clôture ?
