

Prénom:

Date:

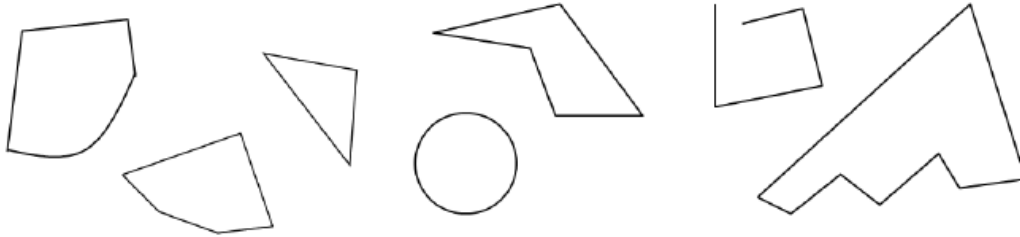
Evaluation de géométrie - CE2

/10

Je sais reconnaître, décrire et nommer ces figures



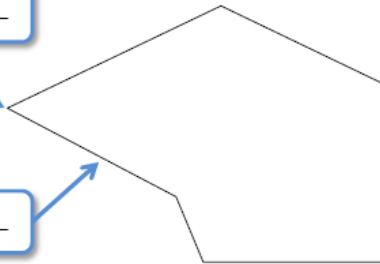
Exercice 1: Parmi les figures suivantes, colorie les polygones en jaune.




Exercice 2: Complète avec les bons mots.

Un polygone qui a 3 côtés est un _____.

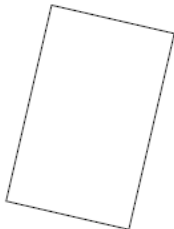
Un polygone qui a 4 côtés est un _____.



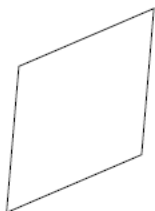
Exercice 3: Indique la nature des ces figures et écris les propriétés associées.



Cette figure est un
Propriétés:
.....
.....



Cette figure est un
Propriétés:
.....
.....



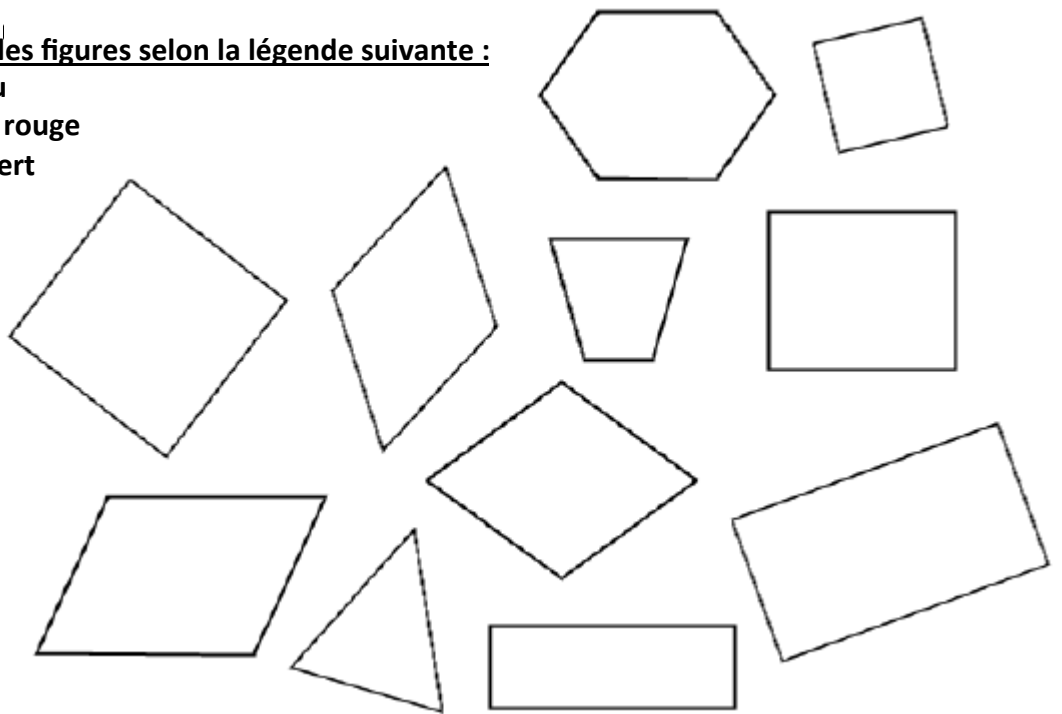
Cette figure est un
Propriétés:
.....
.....

Prénom:

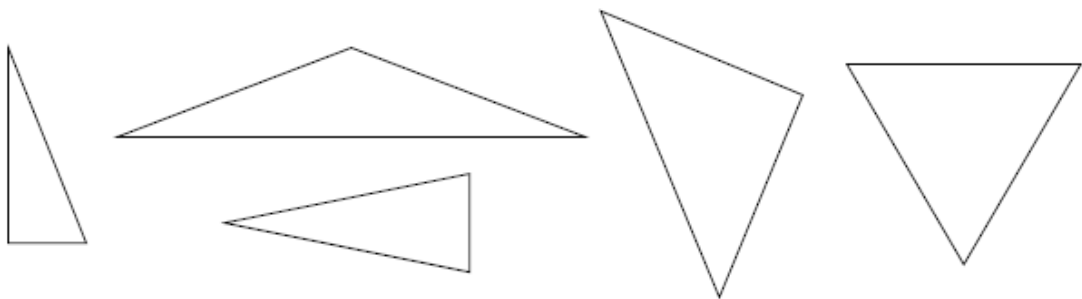
Date:

Exercice 4: Colorie les figures selon la légende suivante :

- Les carrés : en **bleu**
- Les rectangles : en **rouge**
- Les losanges : en **vert**



Exercice 5: Colorie les triangles rectangles en jaune.



Exercice 6: Reproduis ce losange.

