



Exercice 1 : Combien cela fait-il ?



★ a)

Cela fait ____ € ____ .



★ b)

Cela fait ____ € ____ .

Exercice 2 : Compose avec les billets puis dessine.

★ a) 32€10 ★★ b) 62€35

Exercice 3 : Compare < ou >.

★ a) 7 € 50 ____ 7 €

★ b) 2 € 80 ____ 3 €

★ c) 2 € 50 ____ 2 €

Exercice 4 : Additionne.

★ a) 5 € + 2 € 30

★★ b) 12 € + 3 € 20

★★★★ c) 7 € 50 + 8 € 20



Exercice 1 : Combien cela fait-il ?



★ a)

Cela fait ____ € ____ .



★ b)

Cela fait ____ € ____ .

Exercice 2 : Compose avec les billets puis dessine.

★ a) 45€15 ★★ b) 39€70

Exercice 3 : Compare < ou >.

★ a) 11 € ____ 7 € 80

★ b) 2 € ____ 3 € 50

★ c) 55 € ____ 5 € 55

Exercice 4 : Additionne.

★ a) 10 € + 2 € 30

★★ b) 15 € + 3 € 20

★★★★ c) 6 € 50 + 8 € 40



Exercice 1 : Combien cela fait-il ?



★ a)



Cela fait ____ € ____ .

★ b)



Cela fait ____ € ____ .

Exercice 2 : Compose avec les billets puis dessine.

★ a) 75€20 ★★ b) 47€50

Exercice 3 : Compare < ou >.

★ a) 80 € 80 ____ 80 € 90

★ b) 5 € ____ 5 € 10

★ c) 20 € ____ 20 € 35

Exercice 4 : Additionne.

★ a) 6 € 50 € + 2 € 30

★★ b) 10 € 50 + 3 € 20

★★★★ c) 8 € 50 + 13 € 10



Exercice 1 : Combien cela fait-il ?



★ a)



Cela fait ____ € ____ .

★ b)



Cela fait ____ € ____ .

Exercice 2 : Compose avec les billets puis dessine.

★ a) 63€80 ★★ b) 40€30

Exercice 3 : Compare < ou >.

★ a) 1 € 90 ____ 19 €

★ b) 6 € 40 ____ 6 € 35

★ c) 65 € ____ 6 € 50

Exercice 4 : Additionne.

★ a) 3 € + 80 € 30

★★ b) 5 € + 7 € 60

★★★★ c) 7 € 10 + 2 € 20



Exercice 1 : Combien cela fait-il ?



Cela fait ____ € ____.



Cela fait ____ € ____.

Exercice 2 : Compose avec les billets puis dessine.

★ a) 27€70 ★★ b) 65€30

Exercice 3 : Compare < ou >.

- ★ a) 47 € ____ 7 € 90
- ★ b) 55 € ____ 50 € 00
- ★ c) 7 € 45 ____ 7 € 05

Exercice 4 : Poustrais.

- ★ a) 9 € 50 - 2 € 30
- ★★ b) 12 € 40 - 2 € 20
- ★★★★ c) 7 € 50 - 1 € 20



Exercice 1 : Combien cela fait-il ?



Cela fait ____ € ____.



Cela fait ____ € ____.

Exercice 2 : Compose avec les billets puis dessine.

★ a) 28€40 ★★ b) 88€10

Exercice 3 : Compare < ou >.

- ★ a) 13 € 45 ____ 134 € 50
- ★ b) 5 € 65 ____ 5 € 55
- ★ c) 2 € 25 ____ 25 € 20

Exercice 4 : Poustrais.

- ★ a) 15 € 70 - 5 € 20
- ★★ b) 19 € 90 - 2 € 10
- ★★★★ c) 35 € 10 - 5 € 10



Exercice 1 : Combien cela fait-il ?



★ a)

Cela fait ____ € ____.



★ b)

Cela fait ____ € ____.

Exercice 2 : Compose avec les billets puis dessine.

★ a) 46€50 ★★ b) 73€60

Exercice 3 : Compare < ou >.

★ a) 6 € 50 ____ 5 € 60

★ b) 5 € 90 ____ 7 €

★ c) 8 € ____ 7 € 90

Exercice 4 : Soustrais.

★ a) 20 € 60 - 2 € 30

★★ b) 12 € 70 - 4 € 10

★★★★ c) 9 € 50 - 8 € 50



Exercice 1 : Combien cela fait-il ?



★ a)

Cela fait ____ € ____.



★ b)

Cela fait ____ € ____.

Exercice 2 : Compose avec les billets puis dessine.

★ a) 11€75 ★★ b) 94€20

Exercice 3 : Compare < ou >.

★ a) 42 € 10 ____ 43 €

★ b) 2 € 70 ____ 5 €

★ c) 5 € 45 ____ 45 €

Exercice 4 : Soustrais.

★ a) 8 € 60 - 4 € 30

★★ b) 17 € 20 - 3 € 10

★★★★ c) 25 € 50 - 5 € 20



Exercice 1 : Quelle heure est-il ?



★ a)

Il est _____.



★ b)

Il est _____.



★★ c)

Il est _____.



★★★★ d)

Il est _____.

Exercice 2 : Ecris en lettres.

★ a)

1 h 15

★ b)

2 h 30

★★ c)

14 h 45

★★★★ d)

3 h 00



Exercice 1 : Quelle heure est-il ?



★ a)

Il est _____.



★ b)

Il est _____.



★★ c)

Il est _____.



★★★★ d)

Il est _____.

Exercice 2 : Ecris en lettres.

★ a)

13 h 00

★ b)

12 h 30

★★ c)

00 h 00

★★★★ d)

16 h 15

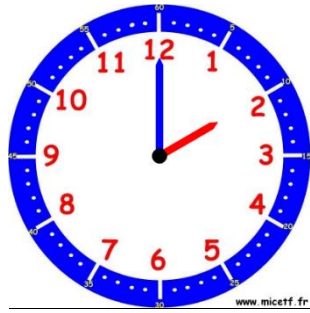


Exercice 1 : Quelle heure est-il ?



★ a)

Il est _____.



★ b)

Il est _____.



★★ c)

Il est _____.



★★★★ d)

Il est _____.

Exercice 2 : Ecris en lettres.

★ a)

3 h 30

★ b)

11 h 15

★★ c)

17 h 00

★★★★ d)

9 h 45



Exercice 1 : Quelle heure est-il ?



★ a)

Il est _____.



★ b)

Il est _____.



★★ c)

Il est _____.



★★★★ d)

Il est _____.

Exercice 2 : Ecris en lettres.

★ a)

15 h 00

★ b)

1 h 15

★★ c)

6 h 30

★★★★ d)

8 h 45



Exercice 1 : Quelle heure est-il ?



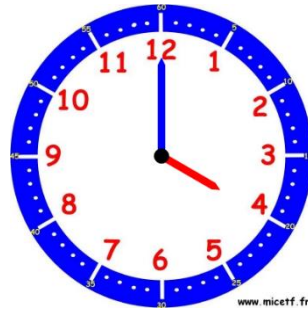
★ a)

Il est _____.



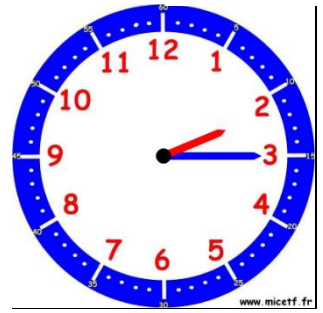
★ b)

Il est _____.



★★ c)

Il est _____.



★★★★ d)

Il est _____.

Exercice 2 : Ecris en lettres.

★ a)

8 h 15

★ b)

10 h 00

★★ c)

23 h 45

★★★★ d)

4 h 30



Exercice 1 : Quelle heure est-il ?



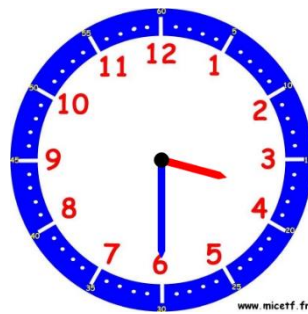
★ a)

Il est _____.



★ b)

Il est _____.



★★ c)

Il est _____.



★★★★ d)

Il est _____.

Exercice 2 : Ecris en lettres.

★ a)

7 h 00

★ b)

18 h 30

★★ c)

14 h 15

★★★★ d)

9 h 45

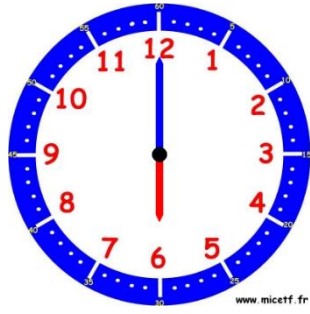


Exercice 1 : Quelle heure est-il ?



★ a)

Il est _____.



★ b)

Il est _____.



★★ c)

Il est _____.



★★★★ d)

Il est _____.

Exercice 2 : Ecris en lettres.

★ a)

22 h 00

★ b)

12 h 45

★★ c)

6 h 15

★★★★ d)

9 h 30



Exercice 1 : Quelle heure est-il ?



★ a)

Il est _____.



★ b)

Il est _____.



★★ c)

Il est _____.



★★★★ d)

Il est _____.

Exercice 2 : Ecris en lettres.

★ a)

17 h 45

★ b)


6 h 00

★★ c)

19 h 30

★★★★ d)

13 h 15



Exercice 1 : Quelle heure est-il ?



★ a)

Il est _____.



★ b)

Il est _____.



★★ c)

Il est _____.



★★★★ d)

Il est _____.

Exercice 2 : Ecris en lettres.

★ a)

4 h 15

★ b)

16 h 45

★★ c)

15 h 30

★★★★ d)

8 h 00



Exercice 1 : Quelle heure est-il ?



★ a)

Il est _____.



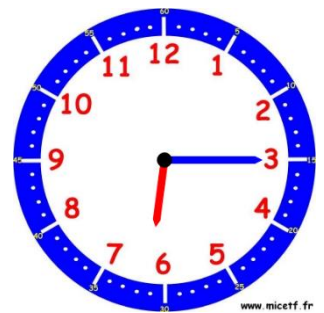
★ b)

Il est _____.



★★ c)

Il est _____.



★★★★ d)

Il est _____.

Exercice 2 : Ecris en lettres.

★ a)

9 h 45

★ b)

15 h 00

★★ c)

11 h 15

★★★★ d)

23 h 30



Exercice 1 : Quelle heure est-il ?



★ a)

Il est _____.



★ b)

Il est _____.



★★ c)

Il est _____.



★★★★ d)

Il est _____.

Exercice 2 : Ecris en lettres.

★ a)

5 h 00

★ b)

17 h 15

★★ c)

20 h 30

★★★★ d)

21 h 45



Exercice 1 : Quelle heure est-il ?



★ a)

Il est _____.



★ b)

Il est _____.



★★ c)

Il est _____.



★★★★ d)

Il est _____.

Exercice 2 : Ecris en lettres.

★ a)

6 h 45

★ b)

7 h 15

★★ c)

22 h 45

★★★★ d)

12 h 30



Exercice 1 :

★ a) Trace un segment de 5 cm et 8 mm.

★ b) Trace un segment de 65 mm.

★★ c) Trace un segment de 2 cm et 3 mm.

★★★★ d) Trace un segment de 38 mm.

Exercice 2 : Encadre $\rightarrow 8 \text{ cm} < \underline{8 \text{ cm } 6 \text{ mm}} < 9 \text{ cm}$

★ a)
3 cm 5 mm

★ b)
4 cm 3 mm

★★ c)
12 cm 7 mm

★★★★ d)
43 cm 2 mm



Exercice 1 :

★ a) Trace un segment de 12 cm et 3 mm.

★ b) Trace un segment de 47 mm.

★★ c) Trace un segment de 8 cm et 1 mm.

★★★★ d) Trace un segment de 76 mm.

Exercice 2 : Encadre $\rightarrow 8 \text{ cm} < \underline{8 \text{ cm } 6 \text{ mm}} < 9 \text{ cm}$

★ a)
4 cm 8 mm

★ b)
2 cm 9 mm

★★ c)
27 cm 4 mm

★★★★ d)
30 cm 7 mm



Exercice 1 :

★ a) Trace un segment de 9 cm et 2 mm.

★ b) Trace un segment de 55 mm.

★★ c) Trace un segment de 12 cm et 7 mm.

★★★★ d) Trace un segment de 67 mm.

Exercice 2 : Encadre $\rightarrow 8 \text{ cm} < \underline{8 \text{ cm } 6 \text{ mm}} < 9 \text{ cm}$

★ a)
15 cm 5 mm

★ b)
13 cm 3 mm

★★ c)
29 cm 7 mm

★★★★ d)
54 cm 2 mm



Exercice 1 :

★ a) Trace un segment de 7 cm et 4 mm.

★ b) Trace un segment de 69 mm.

★★ c) Trace un segment de 8 cm et 5 mm.

★★★★ d) Trace un segment de 37 mm.

Exercice 2 : Encadre $\rightarrow 8 \text{ cm} < \underline{8 \text{ cm } 6 \text{ mm}} < 9 \text{ cm}$

★ a)
7 cm 9 mm

★ b)
82 cm 3 mm

★★ c)
36 cm 3 mm

★★★★ d)
20 cm 2 mm



Exercice 1 :

★ a) Trace un segment de 15 cm et 3 mm.

★ b) Trace un segment de 88 mm.

★★ c) Trace un segment de 13 cm et 3 mm.

★★★★ d) Trace un segment de 62 mm.

Exercice 2 : Encadre $\rightarrow 8 \text{ cm} < \underline{8 \text{ cm } 6 \text{ mm}} < 9 \text{ cm}$

★ a)
4 cm 8 mm

★ b)
3 cm 3 mm

★★ c)
16 cm 4 mm

★★★★ d)
27 cm 2 mm



Exercice 1 :

★ a) Trace un segment de 10 cm et 3 mm.

★ b) Trace un segment de 42 mm.

★★ c) Trace un segment de 6 cm et 9 mm.

★★★★ d) Trace un segment de 82 mm.

Exercice 2 : Encadre $\rightarrow 8 \text{ cm} < \underline{8 \text{ cm } 6 \text{ mm}} < 9 \text{ cm}$

★ a)
5 cm 1 mm

★ b)
16 cm 0 mm

★★ c)
25 cm 2 mm

★★★★ d)
38 cm 5 mm