

Evaluation CE1 - Mesures Juin 2013

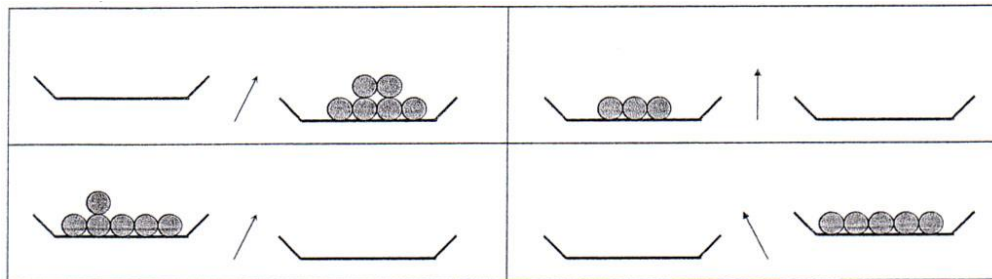
Je connais les unités usuelles : kg et g.
Je sais comparer et classer des objets selon leur masse.
Je connais la relation entre kilogramme et gramme.

NOTE SUR 10 : /10

Moyenne classe : /10

1 - Complète les plateaux vides en dessinant des balles.

/4




2 - Choisis la bonne réponse.

/6

	<input type="checkbox"/> Possible <input type="checkbox"/> Impossible
	<input type="checkbox"/> Possible <input type="checkbox"/> Impossible
	<input type="checkbox"/> Possible <input type="checkbox"/> Impossible
	<input type="checkbox"/> Possible <input type="checkbox"/> Impossible
	<input type="checkbox"/> Possible <input type="checkbox"/> Impossible


3 - Complète avec les mots léger et lourd.

/3



Théo

Rosa



Rosa


Lucas

Théo est plus _____ que Rosa.

Lucas est plus _____ que Rosa.


Théo est plus _____ que Lucas.

4-Entoure la bonne réponse.



Lucas

Théo




Lucas

Manon

- | | | |
|-----------------------------------|------|------|
| Théo est plus lourd que Lucas. | Vrai | Faux |
| Manon est aussi lourde que Lucas. | Vrai | Faux |
| Théo est plus léger que Manon. | Vrai | Faux |

5- Complète

Observe les balances puis calcule la masse des fruits et des légumes pesés.



Le raisin pèse _____g.

Les pommes de terre pèsent _____kg _____g.

Les cerises pèsent _____g.

Les carottes pèsent _____kg _____g

6- Complète

1kg = 1000g

1500g = _____kg _____g

2kg 200g = _____g

2750g = _____kg _____g

1kg 150g = _____g

78250g = _____kg _____g

13kg 350g = _____g