



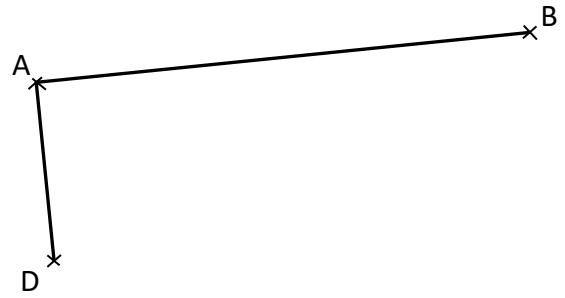
## Espace et géométrie : Les quadrilatères

Reproduire, représenter, construire des quadrilatères.

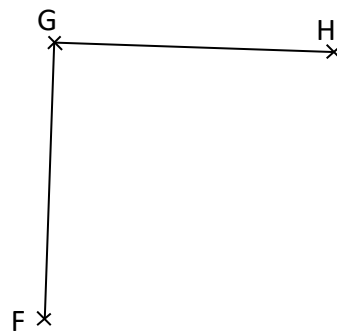
Fiche d'exercices n° 10  
Leçon 5



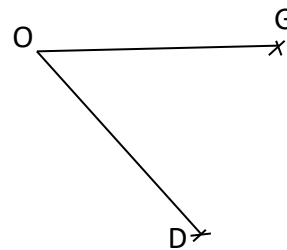
**Exercice 1** : On a commencé à tracer un rectangle ABCD.  
Termine la construction à l'aide des instruments de ton choix.  
N'oublie pas de placer le point C manquant.



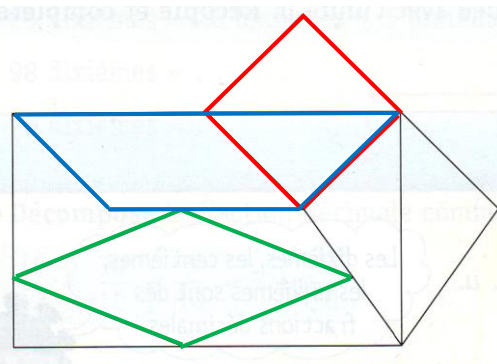
**Exercice 2** : On a commencé à tracer un carré FGHI.  
Termine la construction à l'aide des instruments de ton choix.  
N'oublie pas de placer le point I manquant.



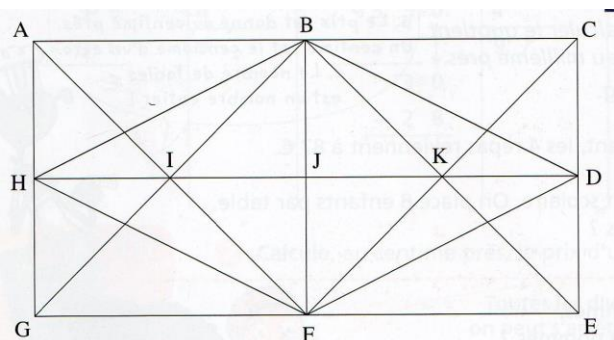
**Exercice 3** : On a commencé à tracer un losange OGVD.  
Termine la construction à l'aide des instruments de ton choix.  
N'oublie pas de placer le point V manquant.



**Exercice 4** : Dans cette figure, repère un carré en repassant ses côtés en rouge.  
Repère un losange en repassant ses côtés en vert.  
Repère un trapèze en repassant ses côtés en bleu.



**Exercice 5** : Dans cette figure, repère un carré,  
un rectangle, un losange et un parallélogramme.  
Nomme-les en utilisant les lettres qui désignent leurs  
quatre sommets.

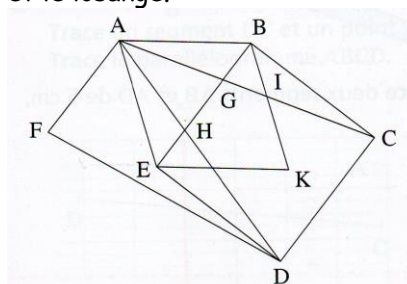


carré = BKFI  
Losange = BDFH

rectangle = ABJH  
parallélogramme = IKFG



**Exercice 6** : Dans cette figure, trouve le carré  
et le losange.



carré : BCDE  
losange : ABKE