

Fichier de mathématiques - CE2

Numération

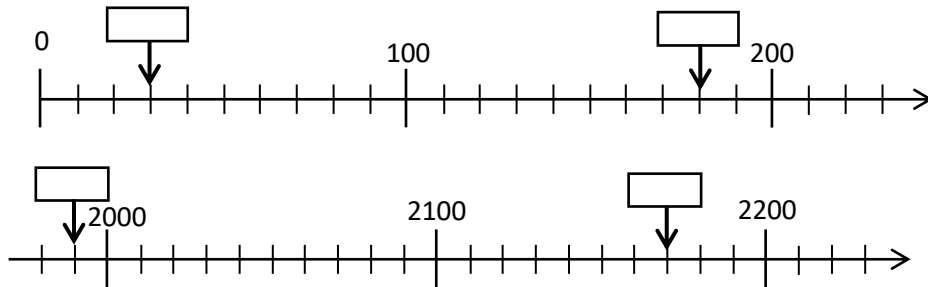
Exercice 1 : Écris les nombres suivants en chiffres.

Quatre-cent-quatre-vingt-deux
Trois-cent-neuf
Trois-mille-soixante-quinze

Exercice 2 : Écris les nombres suivants en lettres.

Attention aux mots vingt et cent qui s'écrivent parfois avec un -s.
392
5400
6702

Exercice 3 : Écris dans les cases les nombres correspondant aux points indiqués par les flèches.



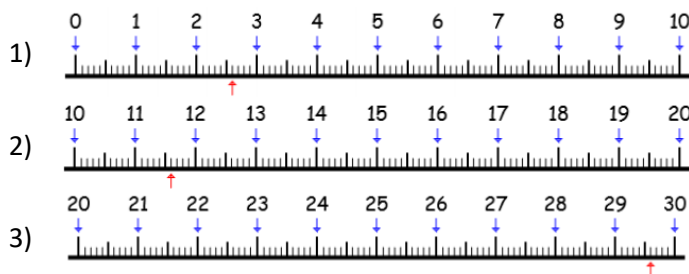
Exercice 4 : Problème

Léon a 20 billes. Sarah en a 10 de plus que lui. Combien les deux enfants ont-ils de billes en tout ?

Grandeurs et mesure

Exercice 1 : mesurer des longueurs

Quelle longueur, en cm et mm, chaque flèche indique-t-elle ?



Exercice 2 : Ecris les longueurs dans l'unité demandée

Souviens-toi : 1 km = 1000 m

3 km = m
5 km 600 m = m
8 km 200 m = m
4000 m = km
1790 m = km m
9050 m = km m

Exercice 3 : Problème

Léa a déjà parcouru 430 mètres depuis sa maison. Il lui reste encore 200 mètres pour arriver jusqu'à l'école. Quelle distance y a-t-il entre la maison de Léa et son école ?

Calcul

Exercice 1 : calcul en ligne.

Ecris le résultat de chaque calcul. Attention, tu dois calculer de tête, tu n'as pas le droit de poser le calcul.

95 + 200 = ?
200 + 300 = ?
400 - 10 = ?

Exercice 2 : calcul posé

Pose chaque opération et calcule le résultat.

N'oublie pas : on écrit un chiffre par carreau et on utilise la règle pour tracer le trait.

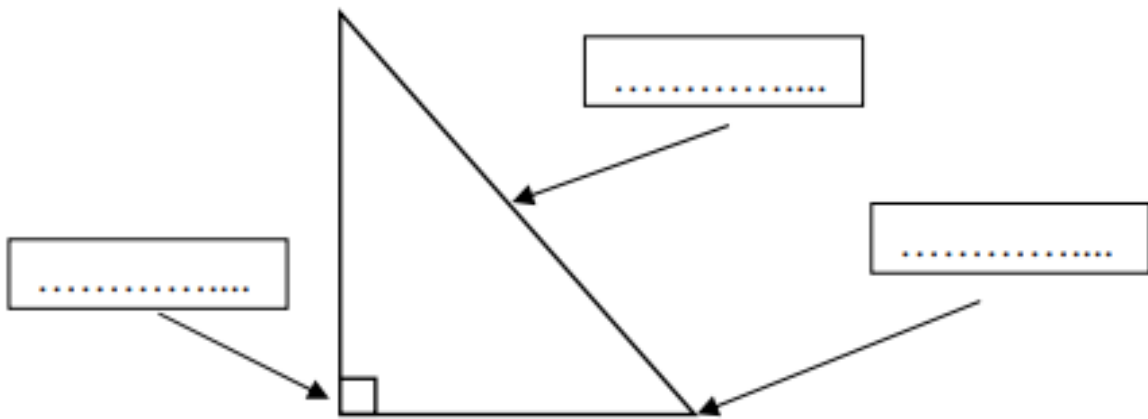
58 962 + 9 203 8 620 x 4
65 809 - 6 523 1 689 x 25

Exercice 3 : Problème

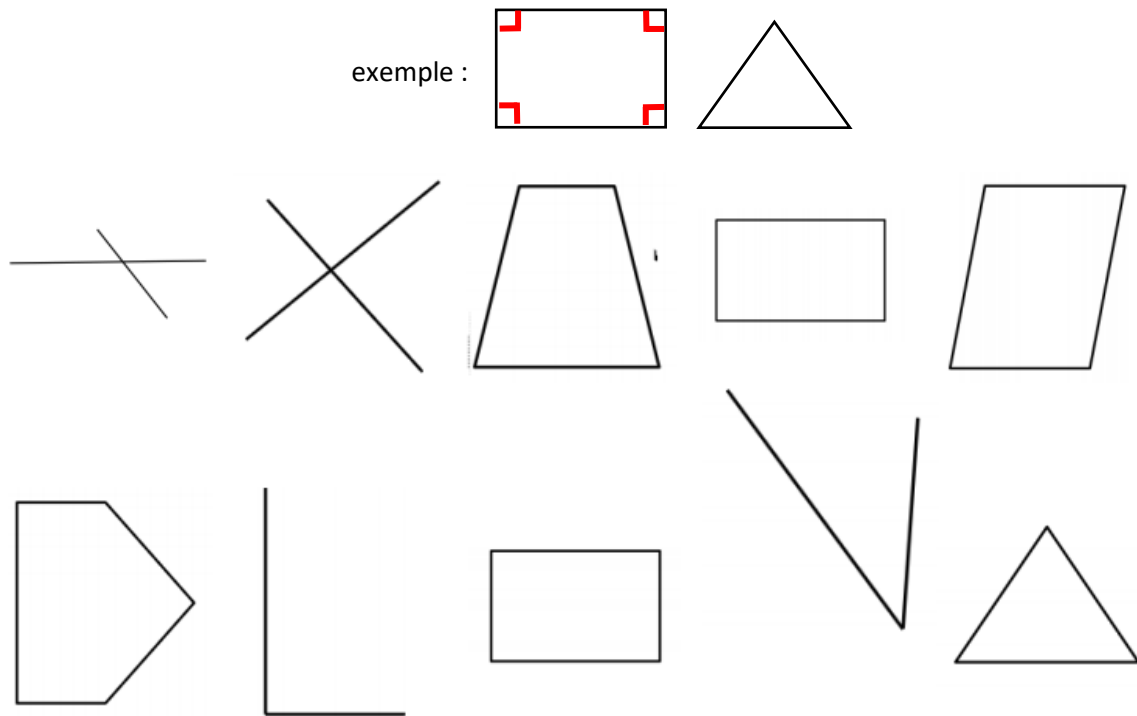
Pour préparer la prochaine rentrée, la directrice de l'école achète 265 livres et 50 calculatrices. Chaque livre coûte 3€ et chaque calculatrice coûte 12€. Combien a-t-elle dépensé en tout ?

Géométrie

Exercice 1 : Complète le schéma avec les mots *un sommet* – *un angle droit* – *un côté*



Exercice 2 : Marque tous les angles droits comme dans l'exemple.



Exercice 3 : Entoure les triangles rectangles et marque les angles droits.

