

Pour lire l'heure, on regarde les aiguilles:

- La **petite aiguille** indique les **heures**
- La **grande aiguille** indique les **minutes**
- La **trotteuse** indique les **secondes**

1 heure = 60 minutes

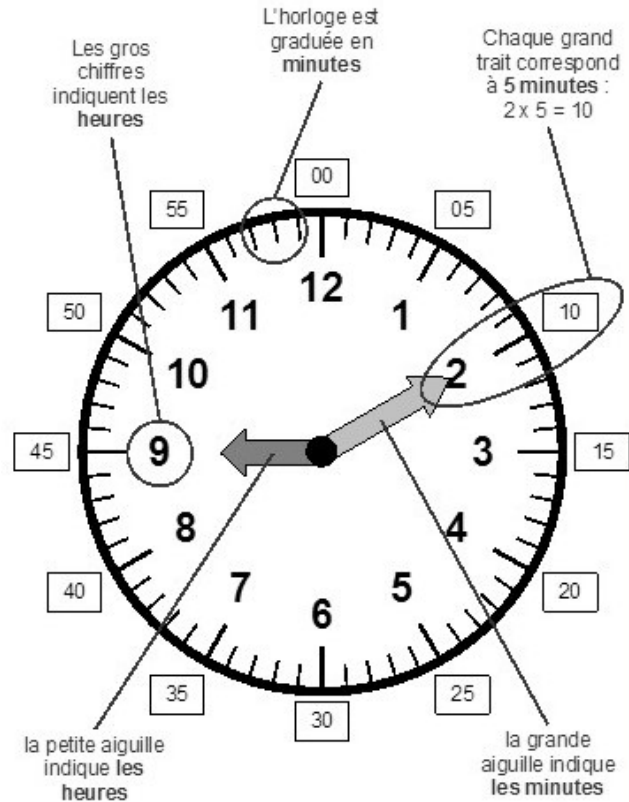
1 minute = 60 secondes

10h15 se lit aussi 10 heures et quart.

10h30 se lit aussi 10 heures et demie.

10h45 se lit aussi 11 heures moins le quart.

- La journée commence à minuit (00h00) et dure 24 heures. De **minuit à midi**, on lit les heures de **0 à 12h**.  
**midi à minuit**, on lit les heures de **12 à 24h**.




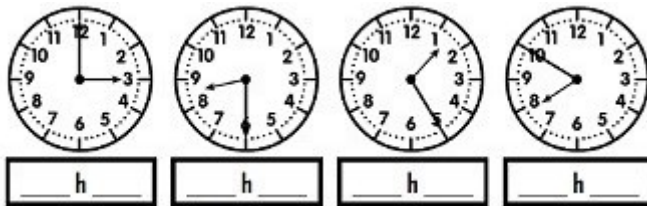
Il est 9 heures et 10 minutes.

As-tu compris ?

CM1

Ecris l'heure de la nuit ou du matin.

Trace les aiguilles (rouge pour les heures et bleu pour les minutes)



As-tu compris ?

CM2

Ecris l'heure de la nuit ou du matin.  
pour

Trace les aiguilles (rouge pour les heures et bleu pour les minutes)

