




Du dessin au plan

Observe le dessin.

Reconnais les différents dessins et colorie-les de la bonne couleur. Complète aussi la **légende** avec les mêmes couleurs.

La rivière en bleu, la route en gris, les champs cultivés en jaune, les prairies en vert clair et les bois en vert foncé.

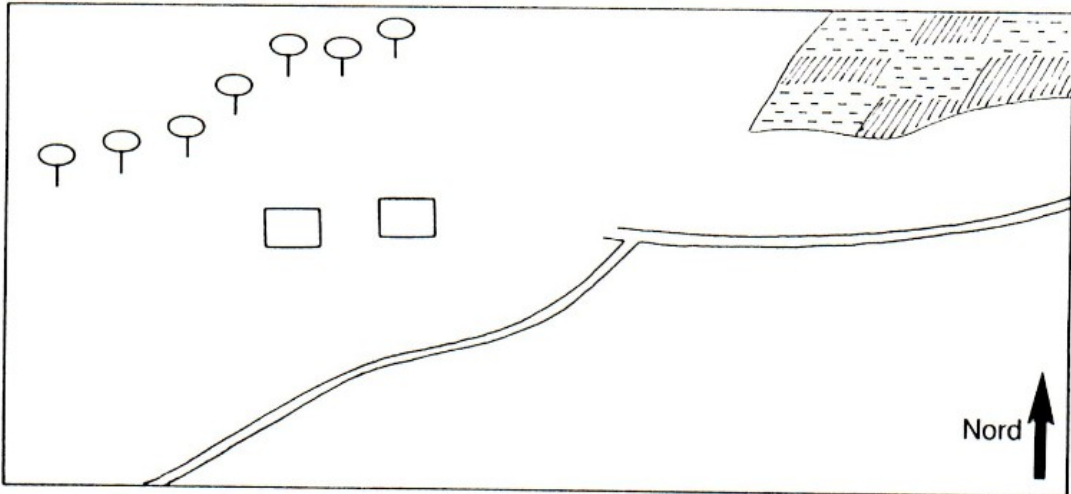


- rivière
- route
- prairies
- bois
- champs cultivés

Pour simplifier ce dessin, on va utiliser des signes conventionnels c'est-à-dire que tout le monde va utiliser les mêmes.

rivière	bois	route	chemin de fer	champs cultivés	prairies	maison	église	pont

Continue de dessiner le plan ci-dessous en utilisant les signes.





Le plan

Colorie la bonne réponse :



Le plan est un dessin exact d'un lieu

vu de dessus
vu de dessous

Sur un plan, les choses sont

plus petites
plus grandes

Un plan est souvent accompagné : *légende ou échelle ?*

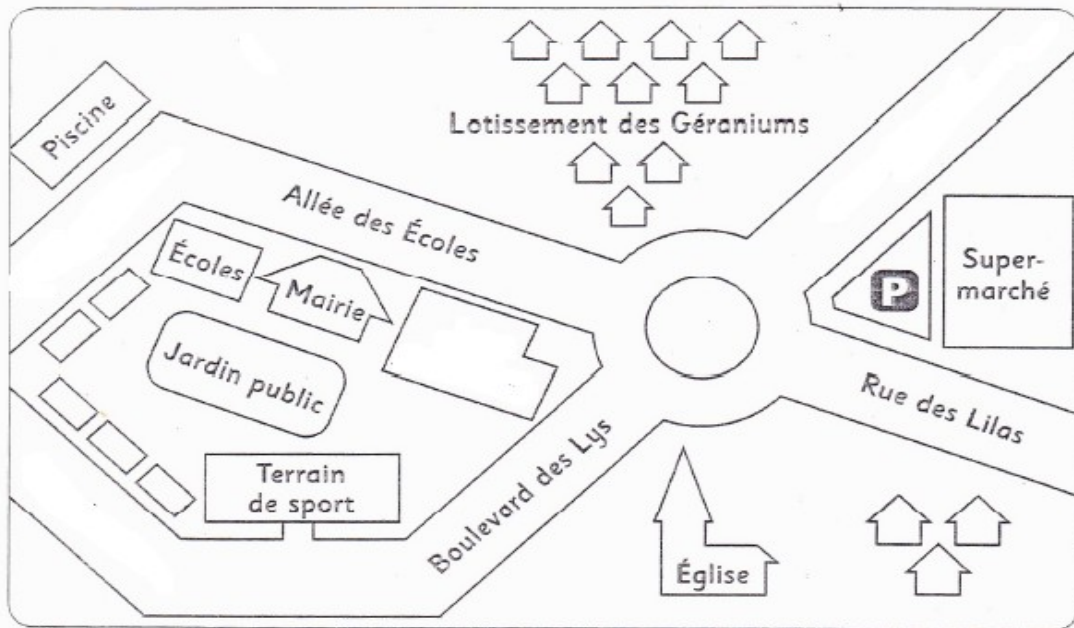


d'une _____ et d'une _____

Se déplacer sur un plan

Laurent quitte le terrain de sport pour rejoindre sa sœur à la piscine. Avant, il va acheter des bonbons au supermarché.

Trace son parcours.



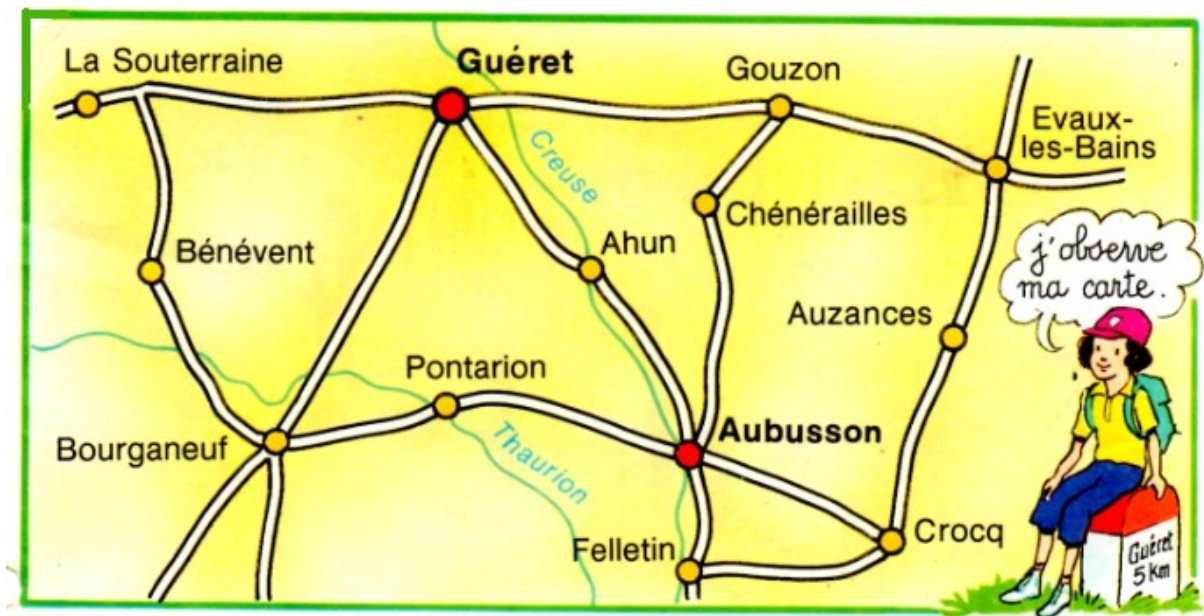
Sur le plan, colorie :

- en rouge, les lieux publics (accessibles à tout le monde)
- en bleu, les habitations privées (les maisons, appartements,...)
- en jaune, les voies de circulation (les rues, les boulevards, les allées...)

Du plan à la carte



On a vu que pour simplifier le dessin d'un village, on pouvait faire un plan. Mais pour représenter des lieux plus grands (départements, régions, pays, ...), on va utiliser une carte.



Ecris le nom de 4 villages

... et de 2 rivières :

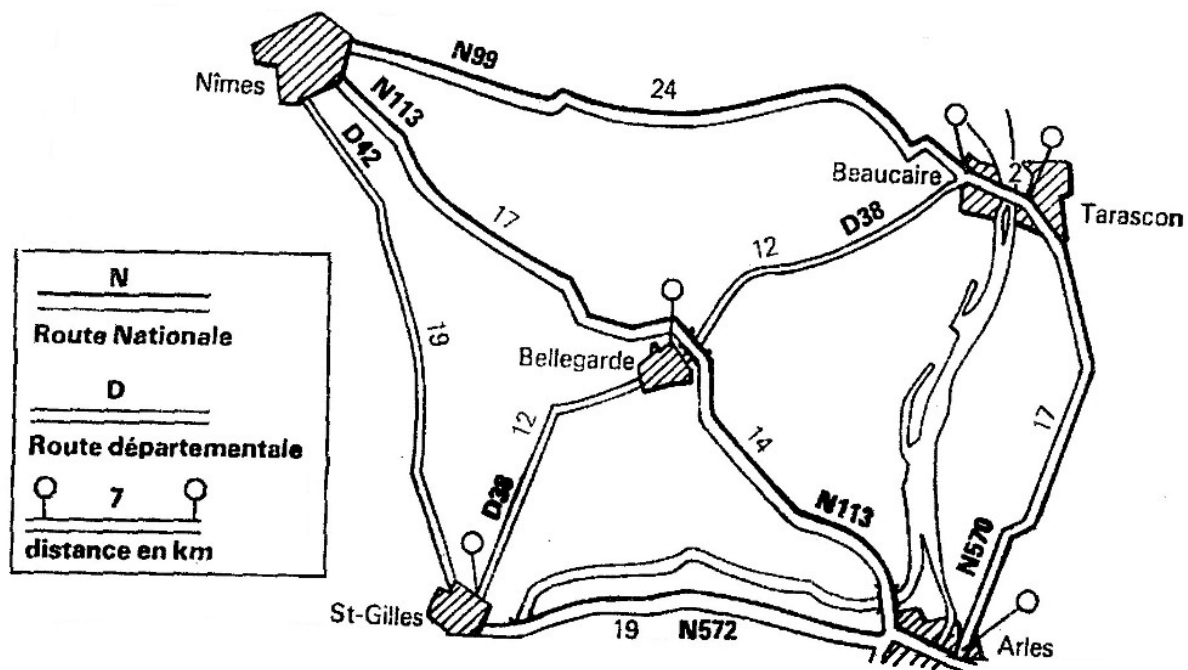
★ Emilie fait une balade en vélo et suit l'itinéraire suivant.
Trace son chemin.

Guéret → Gouzon → Chénérailles → Aubusson →
Pontarion → Bourganeuf → Guéret



La carte routière

Sur cette carte routière, colorie les routes nationales en rouge et les départementales en jaune. *N'oublie pas la légende !*



Ecris les distances entre les villes suivantes :

Nîmes – Bellegarde km

St-Gilles – Bellegarde km

Arles – Tarascon km

Nîmes – Arles km

Quelle route doit-on prendre pour aller de Nîmes à Arles ?

.....



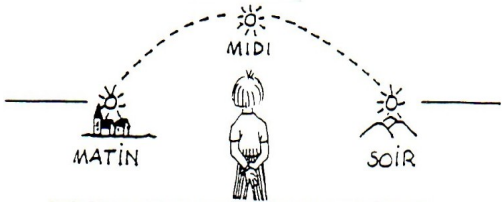
S'orienter sur une carte

S'orienter, c'est reconnaître la direction des points cardinaux.
Ecris le nom des 4 points cardinaux sur cette rose des vents :



On peut s'orienter grâce

... au soleil



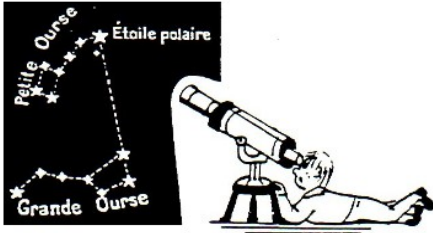
Le matin, le soleil se lève

et le soir il se couche

... aux étoiles

L'étoile polaire est une étoile qui indique toujours le

.....



... à une boussole



L'aiguille aimantée d'une boussole se tourne toujours vers le

Sur une carte,
le est
toujours en haut.



Evaluation sur l'Espace

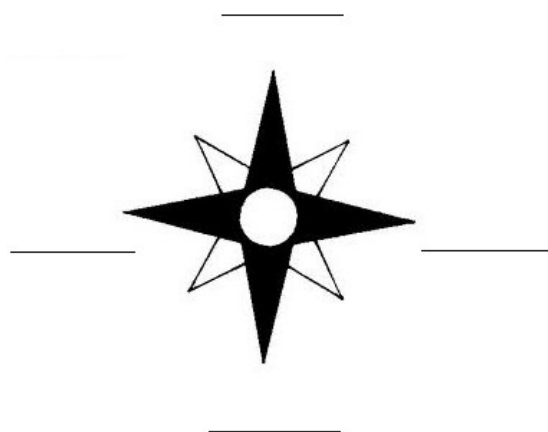
Le plan

Sur les 2 dessins, colorie :

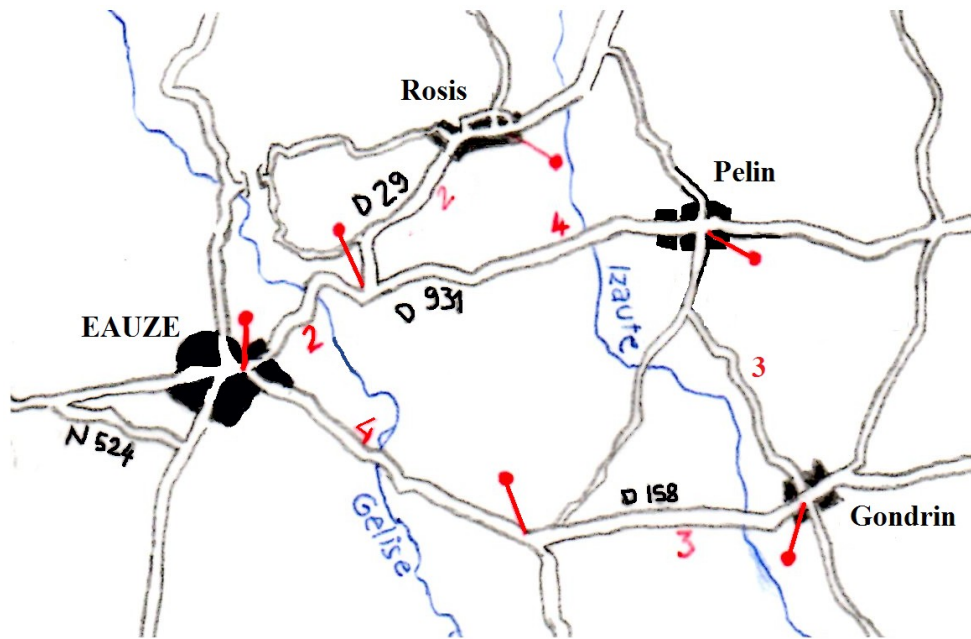
- en marron, le toit de l'église et le clocher
- en rouge, les toits des maisons
- en vert, les arbres
- en jaune, la rue



Complète cette rose des vents :



Observe la carte suivante :



★ Comment s'appelle la route entre Eauze et Pelin ?

★ Combien y a-t-il de kilomètres entre Eauze et Rosis ?

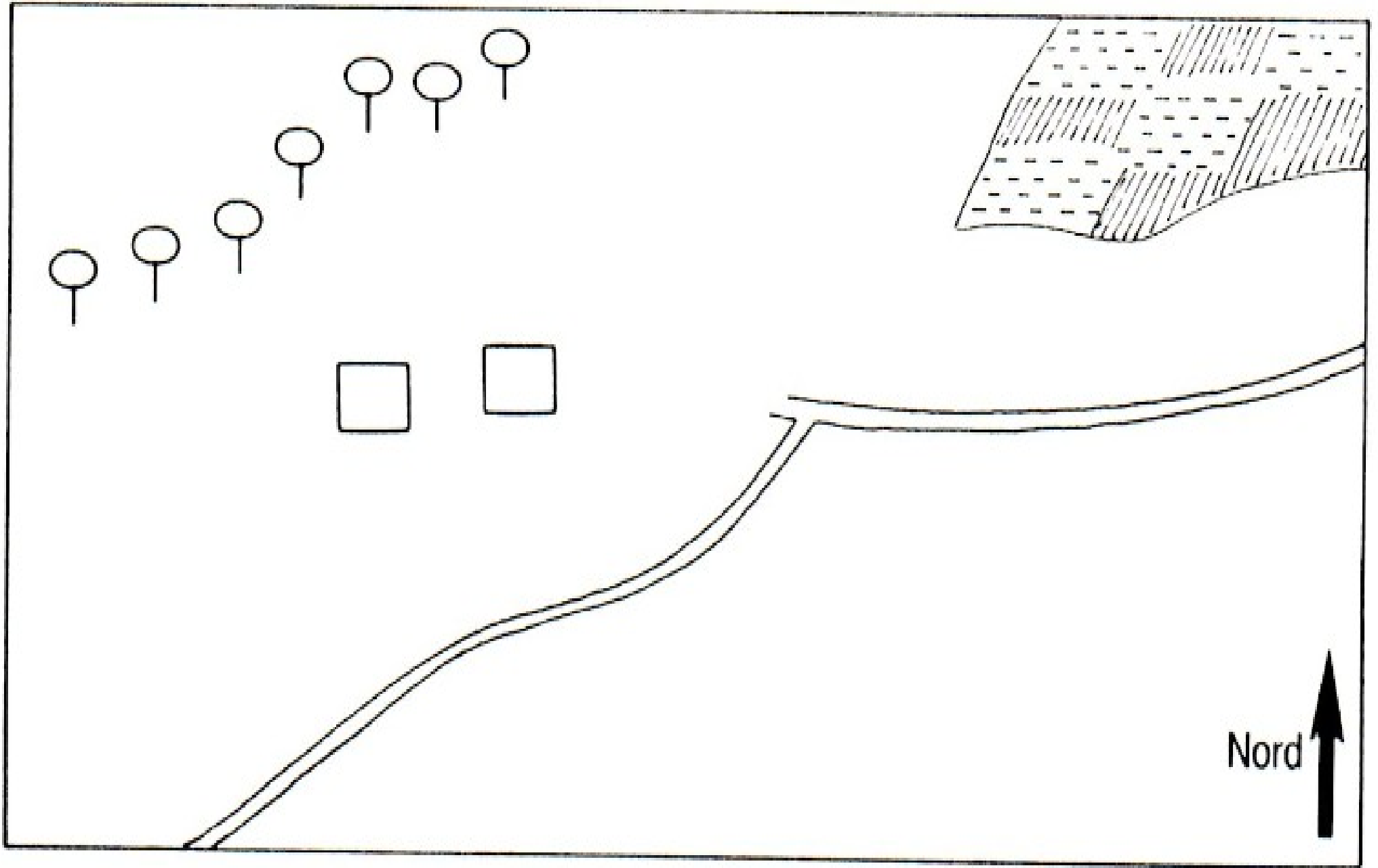
..... + = → Il y a km

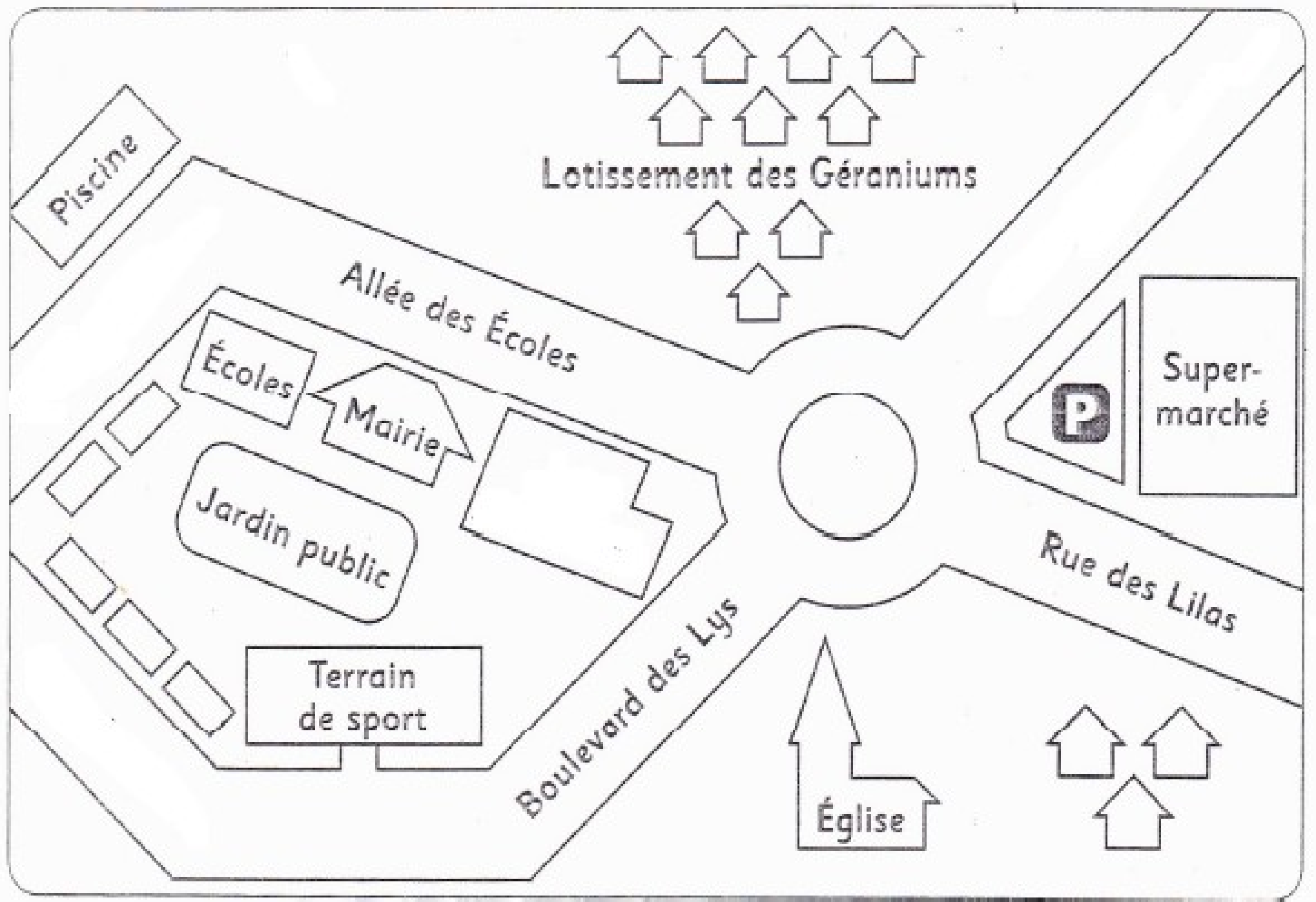
★ Ecris le nom des 2 rivières :

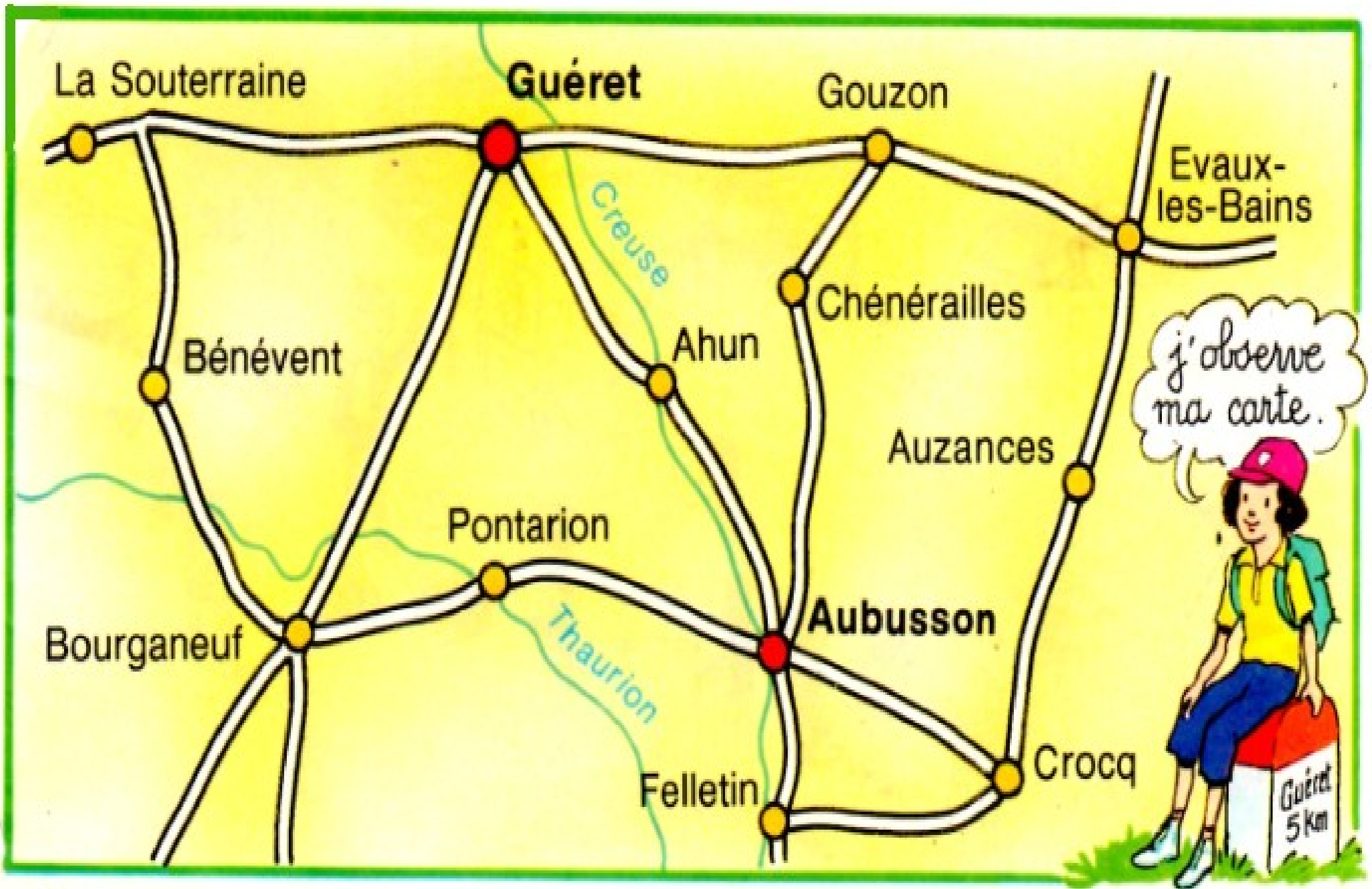
.....

.....

★ Sur la carte, colorie en jaune un des chemins qui permettrait d'aller de Rosis à Gondrin.







La Souterraine

Guéret

Gouzon

Evaux-les-Bains

Creuse

Bénévent

Ahun

Chénérailles

Auzances

Pontarion

Bourganeuf

Aubusson

Thaurion

Felletin

Crocq

*j'observe
ma carte.*

Guéret
5 km

