

J'écris les dizaines et les unités qui correspondent :

42	c'est $10 + 10 + 10 + 10 + 2$
26	c'est
51	c'est
34	c'est
63	c'est
45	c'est
21	c'est
17	c'est
58	c'est

J'écris le nombre qui correspond :

$10 + 10 + 10 + 10 + 2$	c'est 42
$10 + 10 + 5$	c'est
$10 + 10 + 10 + 10 + 10 + 1$	c'est
$10 + 10 + 4$	c'est
$10 + 10 + 10 + 10 + 8$	c'est
$10 + 1$	c'est
$10 + 10 + 10$	c'est
$10 + 10 + 10 + 10 + 9$	c'est
$10 + 10 + 10 + 2$	c'est

Je complète les phrases :

56, c'est dizaines et unités.

34, c'est dizaines et unités.


67, c'est dizaines et unités.

24, c'est dizaines et unités.


50, c'est dizaines et unités.

45, c'est dizaines et unités.


Je dessine proprement les dizaines et les unités.

24	
32	
16	
35	
4	
14	
24	
34	
40	
27	

Je dessine proprement les dizaines et les unités.

24	
32	
16	
35	
4	
14	
24	
34	
40	
27	

Je dessine proprement les dizaines et les unités.

24	
32	
16	
35	
4	
14	
24	
34	
40	
27	