


**LE NOMBRE DU JOUR  
PASSE A LA LOUPE**



en chiffres

en lettres

.....

Nombre précédent : .....  
 Nombre suivant : .....

Arrondi à la dizaine supérieure : .....  
 Arrondi à la dizaine inférieure : .....  
 Arrondi à la centaine supérieure : .....  
 Arrondi à la centaine inférieure : .....

**Dans une addition**

\_\_\_\_\_ + 10 = \_\_\_\_\_

\_\_\_\_\_ + 100 = \_\_\_\_\_

\_\_\_\_\_ + 1 000 = \_\_\_\_\_

**Dans une soustraction**

\_\_\_\_\_ - 10 = \_\_\_\_\_

\_\_\_\_\_ - 100 = \_\_\_\_\_

\_\_\_\_\_ - 1 000 = \_\_\_\_\_

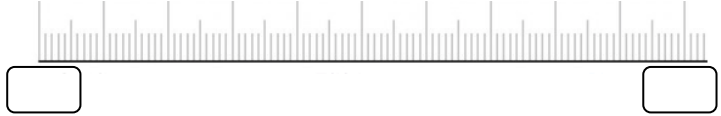
**Dans une multiplication**

\_\_\_\_\_ x 10 = \_\_\_\_\_


\_\_\_\_\_ x 100 = \_\_\_\_\_

\_\_\_\_\_ x 1 000 = \_\_\_\_\_

Place le nombre sur la ligne graduée :



**LE NOMBRE DU JOUR  
PASSE A LA LOUPE**



en chiffres

en lettres

.....

Nombre précédent : .....  
 Nombre suivant : .....

Arrondi à la dizaine supérieure : .....  
 Arrondi à la dizaine inférieure : .....  
 Arrondi à la centaine supérieure : .....  
 Arrondi à la centaine inférieure : .....

**Dans une addition**

\_\_\_\_\_ + 10 = \_\_\_\_\_

\_\_\_\_\_ + 100 = \_\_\_\_\_

\_\_\_\_\_ + 1 000 = \_\_\_\_\_

**Dans une soustraction**

\_\_\_\_\_ - 10 = \_\_\_\_\_

\_\_\_\_\_ - 100 = \_\_\_\_\_

\_\_\_\_\_ - 1 000 = \_\_\_\_\_

**Dans une multiplication**

\_\_\_\_\_ x 10 = \_\_\_\_\_

\_\_\_\_\_ x 100 = \_\_\_\_\_

\_\_\_\_\_ x 1 000 = \_\_\_\_\_

Place le nombre sur la ligne graduée :

