

Date :

Prénom :

Reconnaitre, décrire et nommer les figures et solides usuels

Avoir au moins 7 sur 10

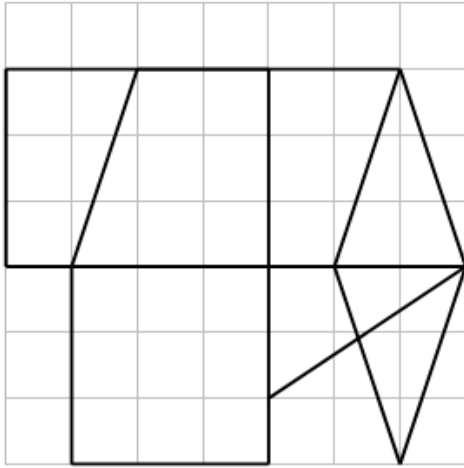
validé : oui - non

Les figures usuelles - **Evaluation CFG**

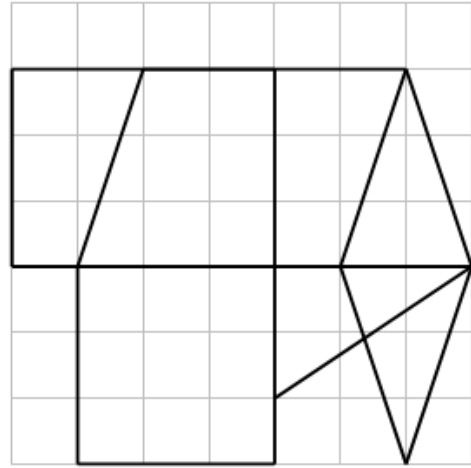
1) Retrouve les figures demandées et colorie-les.

/3

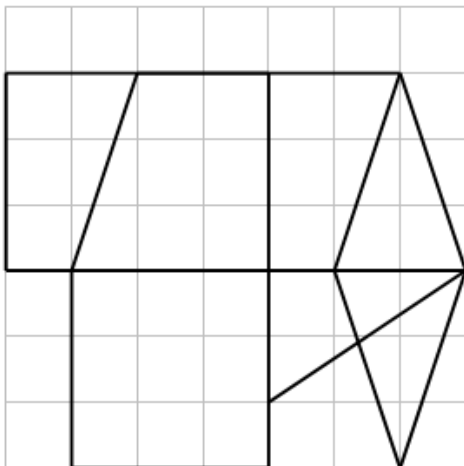
Un **parallélogramme**, qui ne soit ni rectangle ni carré.



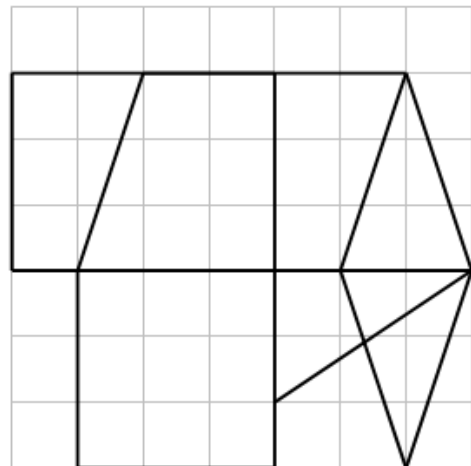
Un **rectangle**.



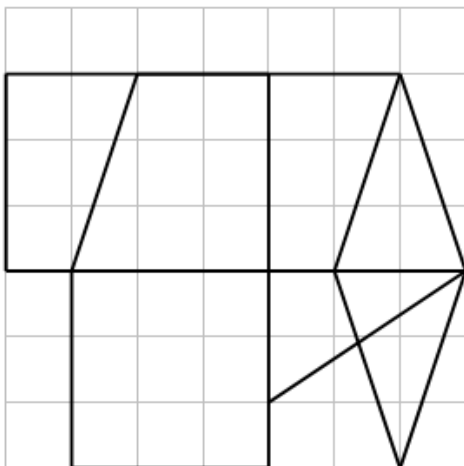
Un **triangle rectangle**.




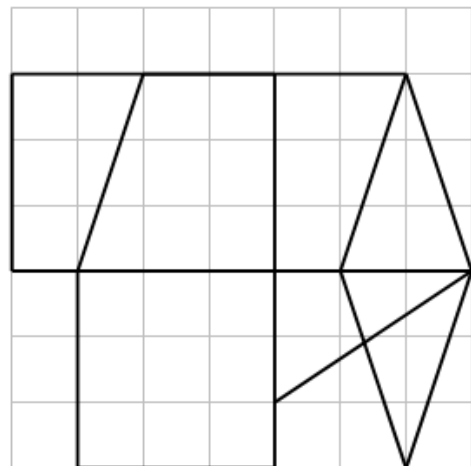
Un **triangle isocèle**.



Un **losange**



Un **carré**.



Date :


Prénom :

2) Complète le tableau ci-dessous.

/2

3) Trace en rouge les deux diagonales du quadrilatère ABCD.

/1



Description de ABCD

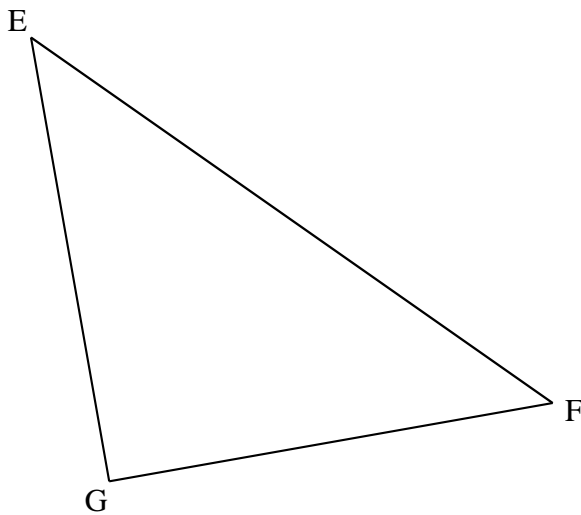
Nombre de côtés	
Nombre d'angles droits	
Noms des sommets
Mesure d'une largeurcm
Mesure d'une longueurcm
Côtés opposés parallèles ?	oui - non
Côtés opposés de la même longueur ?	oui - non

4) Complète le tableau ci-dessous.

/2

5) Trace en rouge l'axe de symétrie de EFG.

/1



Description de EFG

Nombre de côtés	
Nombre d'angles droits	
Nom des sommets
Nombre de côtés de la même longueur	0 - 2 - 3

6) Trace en rouge les deux axes de symétrie de la figure 1.

/1

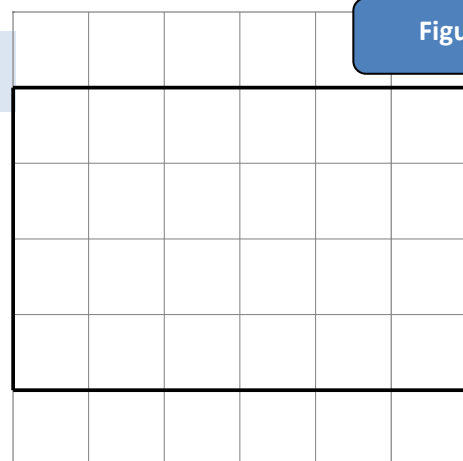


Figure 1

