

Les villes européennes

Éléments de connaissances et de compétences européennes : Savoir localiser sur une carte quelques grandes villes d'Europe et avoir lire le paysage d'une ville européenne.

1- Cite les agglomérations de plus de 7 millions d'habitants.

2- Où se situent la plupart des grandes villes européennes : à l'est, au centre ou à l'ouest de l'Europe ?

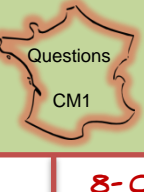
3- Explique pourquoi, à ton avis, les touristes veulent visiter la ville de Rome (doc.4).

4- Sur combien de kilomètres s'étend la mégalopole européenne ? Quelle zone recouvre-t-elle ?

5- Quelles sont les raisons du développement de la mégalopole européenne ?

6- Qu'est-ce que la « banane bleue » ?

7- Le paysage du document 9 te paraît-il riche ? Densément peuplé ?



Les villes européennes

Éléments de connaissances et de compétences : Savoir localiser sur une carte quelques grandes villes d'Europe et avoir lire le paysage d'une ville européenne.

<http://laclasseestaf.elelablog.com/>

8- Observe les photographies du document 10. Laquelle représente le centre ancien ? Laquelle représente le quartier des affaires ? Explique ta réponse.

9- Qu'est-ce qui justifie des toits à forte pente à Edimbourg et à Bergen ?

10- Qu'est-ce qui peut expliquer que les maisons soient souvent peintes de couleurs vives dans les pays nordiques (doc.14)?

11- En quoi les deux lotissements du document 15 se ressemblent-ils ?

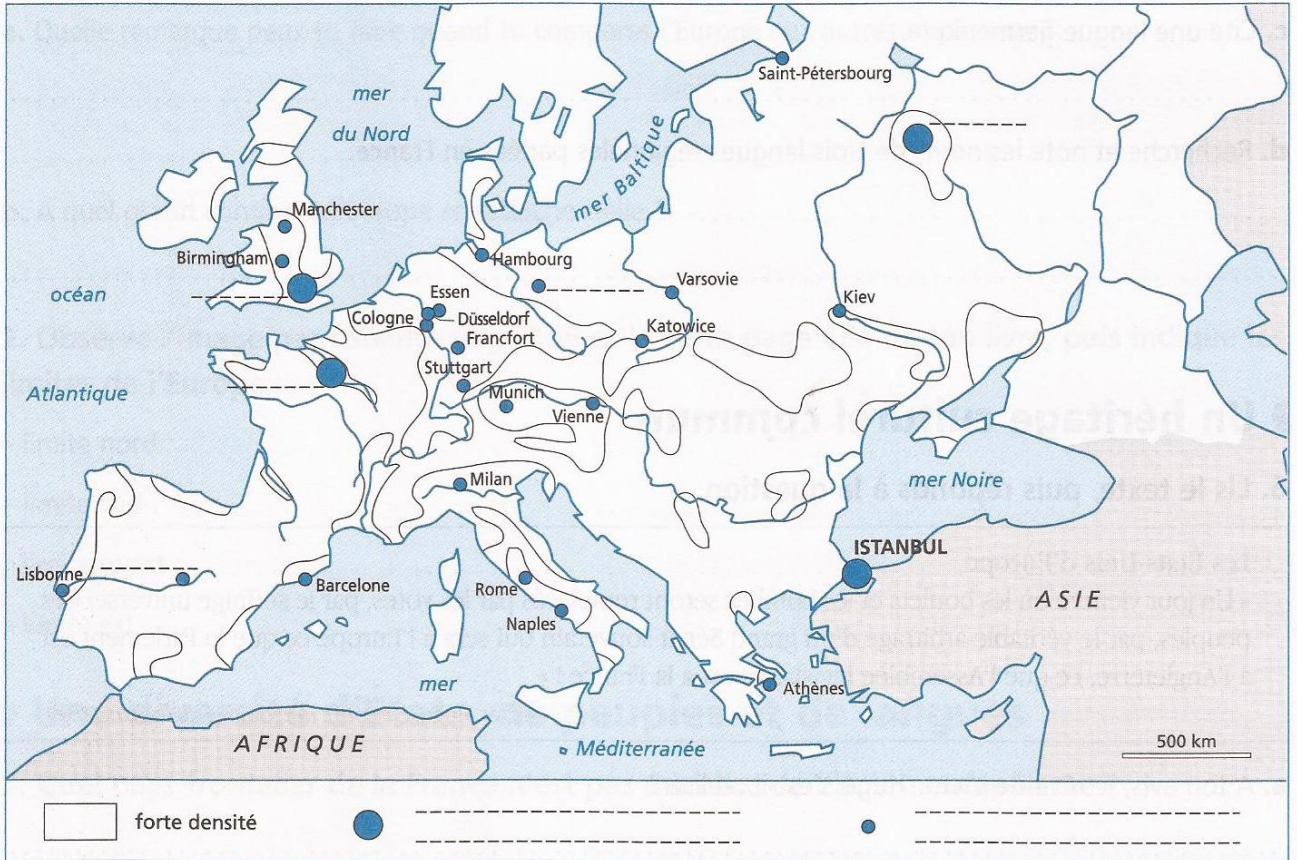
12- Qu'est-ce qui explique une telle ressemblance entre les deux endroits du document 13 ?

Les villes européennes

1- Complète la carte ci-dessous avec les noms des villes européennes manquantes.

2- Colorie la zone de forte densité de population au cœur de l'Europe.

3- Complète la légende de la carte.



4- Associe chaque ville au pays dans lequel elle se situe.

Berlin *	* Grande Bretagne
Rome *	* Belgique
Londres *	* Espagne
Bruxelles *	* Russie
Madrid *	* République tchèque
Moscou *	* Italie
Prague *	* Allemagne

Les villes européennes

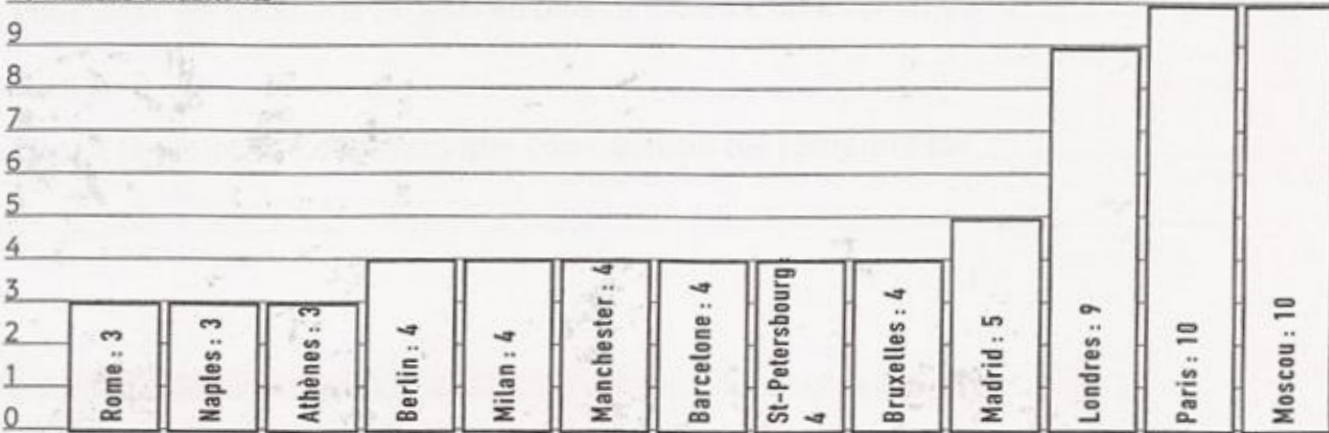
5- Complète le diagramme en bâtons des plus grandes agglomérations d'Europe.

a- Colorie en orange les agglomérations dont la population est de 4 millions d'habitants.



b- Colorie en rouge les agglomérations dont la population est supérieure à 4 millions d'habitants et en jaune les agglomérations dont la population est inférieure à 4 millions d'habitants.

c- Dans quel pays se trouvent les deux grandes agglomérations d'Europe ?

10 millions d'habitants







5- Observe les paysages ci-dessous.



a- Colorie en vert les quartiers anciens.

b- Colorie en rouge les quartiers modernes.



Éléments de connaissances et de compétences : Savoir localiser sur une carte quelques grandes villes d'Europe et avoir lire le paysage d'une ville européenne.