

# Un aéroport : Roissy - Charles- de- Gaulle

1- Dans quel type de paysage est implanté l'aéroport ? (document 1)

---

---

---

2- En t'aidant du doc.5, quelle aérogare est représentée sur le doc.1 ?

---

---

---

3- Quelle activité de l'aéroport est illustrée par la photographie du document 3 ?

---

---

4- D'après le document 5, quels sont les différents modes de transport que l'on trouve à Roissy ?

---

---

5- Quel(s) type(s) de transport relie(nt) l'aéroport à l'espace local ? À l'espace national ? À l'espace international ?

---

---

6- Explique quels sont les atouts de Roissyparc ? (doc.7)

---

---

7- A quel secteur appartiennent la majorité des entreprises implantées à Roissyparc ?

---

---

8- Combien l'aéroport emploie-t-il de personnes ??

---



# Un aéroport : Roissy - Charles- de- Gaulle

9- Où l'Airbus A380 est-il assemblé ?

---

---

---

10- Pourquoi les personnes sur le photographie du document 11 s'opposent-elles à la construction d'un nouvel aéroport ?

---

---

---

11- Comment se nomme le programme lancé par la Commission européenne et l'industrie aéronautique ?

---

---

---

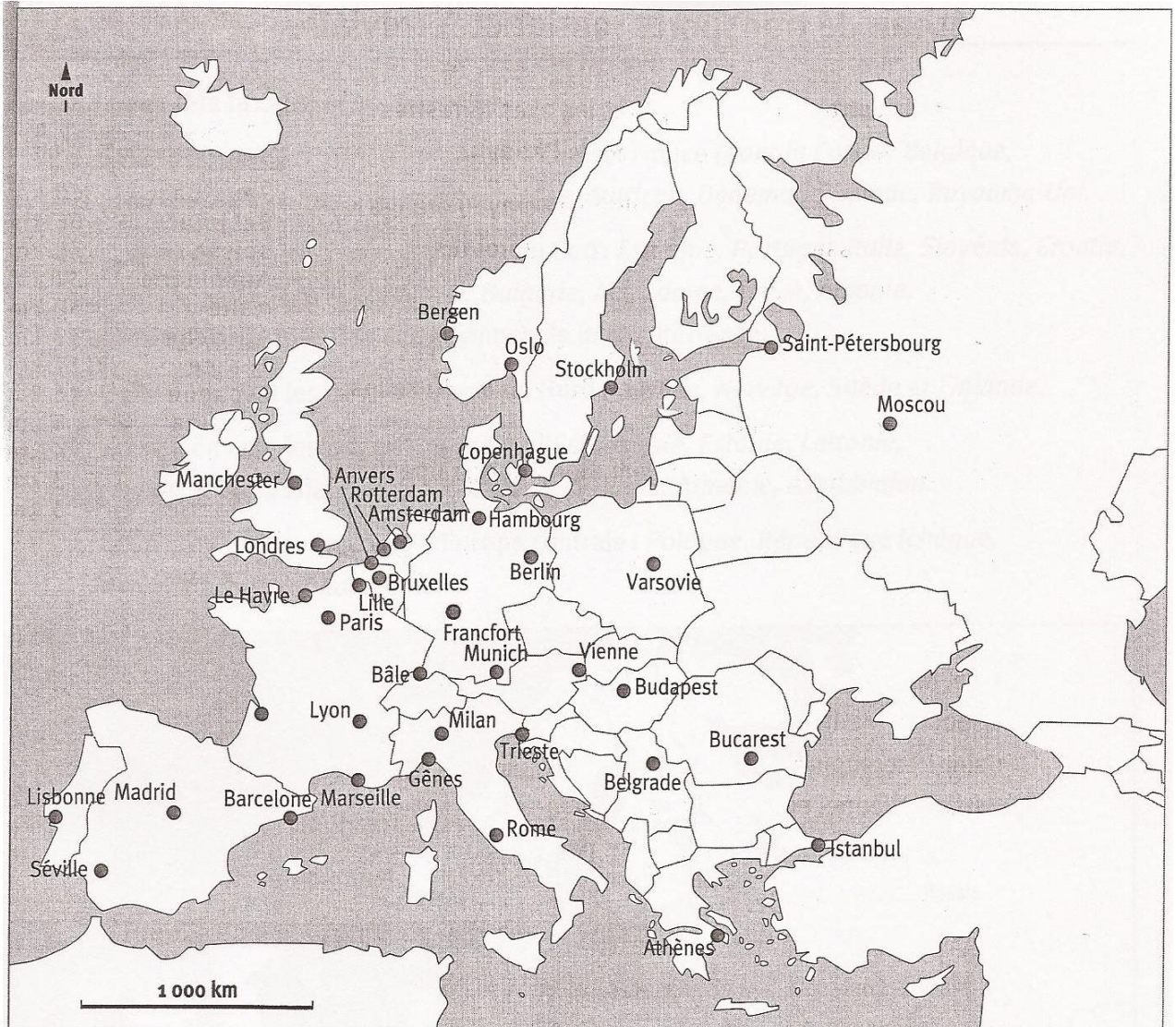
# Un aéroport : Roissy - Charles - de - Gaulle

1- Complète la carte suivante avec les grands aéroports. N'oublie pas la légende

a- Souligne en rouge le nom de villes possédant un aéroport.

*Londres - Paris - Amsterdam - Francfort - Madrid - Rome - Milan - Munich - Bruxelles*

b- Quelle partie de l'Europe est la mieux équipée en aéroports ?







- |                  |                      |
|------------------|----------------------|
| ● Ville          | Axe terrestre majeur |
| ● Grand port     | Axe maritime majeur  |
| ● Grand aéroport |                      |

# Un aéroport : Roissy - Charles- de- Gaulle

## 2- Quelles sont les différentes étapes pour un passager ?

Découpe les images de la page suivante puis remets ces photos et leur légende dans le bon ordre.



# Images à découper



Les voyageurs viennent à l'aéroport en voiture (qu'ils laissent au parking) ou par les navettes.



Dans l'aéroport, ils trouvent des écrans pour se diriger et de nombreux magasins et services.



Ils confirment leur venue au comptoir et enregistrent leurs gros bagages.



Ils passent par le contrôle de police en présentant leur carte d'identité ou leur passeport.



Ils font contrôler qu'il n'y a rien de dangereux dans leur bagage à main.



Ils attendent dans la salle d'embarquement qu'on les appelle pour monter dans l'avion.



Pendant ce temps, les gros bagages sont transportés jusqu'à l'avion et chargés dans les soutes.



L'avion est ravitaillé en carburant et un dernier contrôle permet de vérifier son bon état de fonctionnement.



À l'appel, les passagers présentent leur billet et accèdent à l'avion par des passerelles.



Ils s'installent dans l'avion pour le voyage, en rangeant leurs bagages à main dans les coffres.



Quand ils en obtiennent l'autorisation, les pilotes font rouler l'avion jusqu'à la piste de décollage.



En suivant les indications de la tour de contrôle, ils le font décoller.

# Un aéroport : Roissy - Charles - de - Gaulle

**3- Lis le texte puis complète le tableau qui permet de comparer l'aéroport Roissy-Charles-de-Gaulle à l'aéroport Saint-Exupéry de Lyon -Satolas. Aide-toi aussi de la feuille de documents**

## L'aéroport Saint-Exupéry de Lyon-Satolas

L'aéroport Saint-Exupéry de Lyon Satolas est un aménagement-clé pour Lyon et la région Rhône-Alpes. Créé en 1975, l'aéroport est passé de 3,9 millions de passagers en 1992 à près de 8 millions en 2009. Il est en liaison régulière avec 32 grandes villes européennes, plus de 30 villes françaises, avec la France d'Outre-mer, l'Afrique du Nord et l'Amérique centrale. L'aéroport Saint-Exupéry est l'un des principaux aéroports français, le deuxième de province après Nice. Doté de plusieurs hôtels, il met à disposition des hommes d'affaires, des bureaux et salles de réunion à proximité des aéroports.

	Roissy-Charles-de-Gaulle	Saint-Exupéry
Nombre de passagers	_____	_____
Nombre de compagnies aériennes	_____	72
Destinations desservies en France, en Europe ou dans le monde	_____ _____	_____ _____
Classement en France	_____	
Quantité de marchandises transportées	_____	40 800 tonnes
Cet aéroport est-il important pour sa région ?	oui - non	oui - non
Cet aéroport est-il important pour le pays ?	oui - non	oui - non
Cet aéroport est-il un grand aéroport international ?	oui - non	oui - non