

# Evaluation de sciences CE2

## Le corps humain



Prénom : \_\_\_\_\_  
Date : \_\_\_\_ / \_\_\_\_ / \_\_\_\_

Compétences évaluées :

Appréciation :

### Les êtres vivants

Réponds aux question par vrai ou faux.

- |  |      |      |
|--|------|------|
| Tous les corps des êtres vivant se ressemblent dans leur composition (structure du corps). | Vrai | faux |
| Tous les êtres vivant se ressemblent physiquement.   | Vrai | faux |
| Le patrimoine génétique vient de la nourriture que l'on mange.                             | Vrai | faux |
| Plusieurs personnes peuvent avoir les mêmes empreintes génétiques.                         | Vrai | faux |

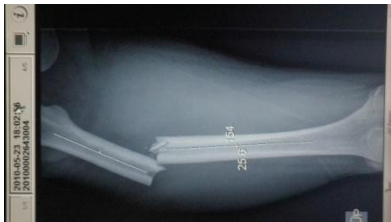
Cite les quatre conditions pour définir un être comme un être vivant

---

---

---

### Le corps peut-il s'abîmer ?



Observe cette radiographie, comment s'appelle ce type de blessure ?

---

---

---

Comment cette blessure se soignera-t-elle ?

---

---

Qu'est ce qu'un hématome ? Comment se soignera-t-il ?

---

---

Donne la définition d'une plaie.

---

---

A quoi faut-il faire attention lorsqu'un corps a une plaie ?

---

---

Léa dit qu'elle mange beaucoup de légumes et fruits et boit beaucoup de jus d'orange pour avoir des os solides. A-t-elle raison de manger et boire des fruits et légumes ?

## Les os

Réponds à la question par vrai ou faux.

Les os ne sont pas vivants. Vrai                      faux

La colonne vertébrale ressemble à la lettre I car elle est toute droite. Vrai                      faux

Comment s'appelle l'ensemble des os du corps humain ?

---

---

Combien d'os possède le corps humain ?

---

---

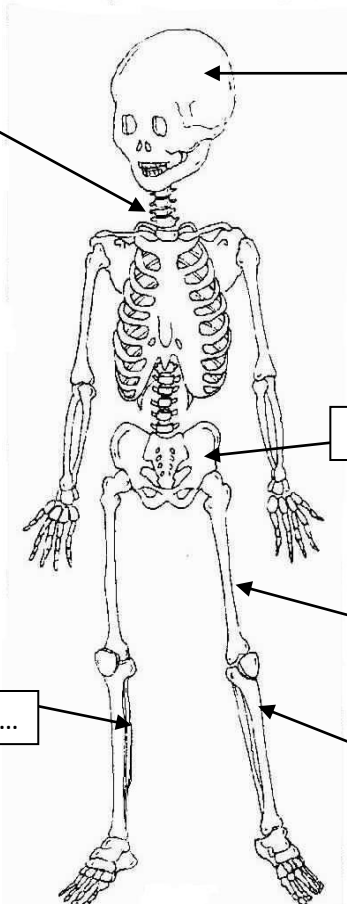
Pourquoi est ce important de se tenir correctement ?

---

---

.....  
..... reliée au crâne, elle est composée de petits os appelés **vertèbres**.

.....



.....

.....

.....

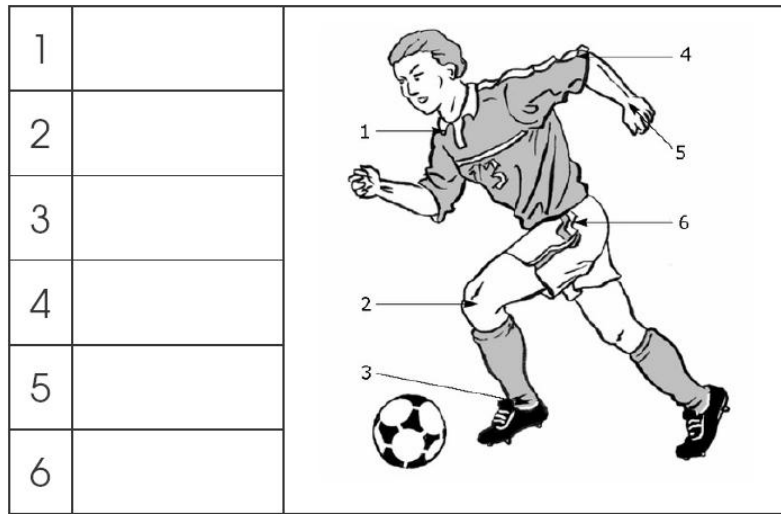
.....

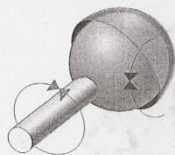
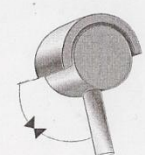
.....

# Evaluation de sciences CE2 - Le corps humain

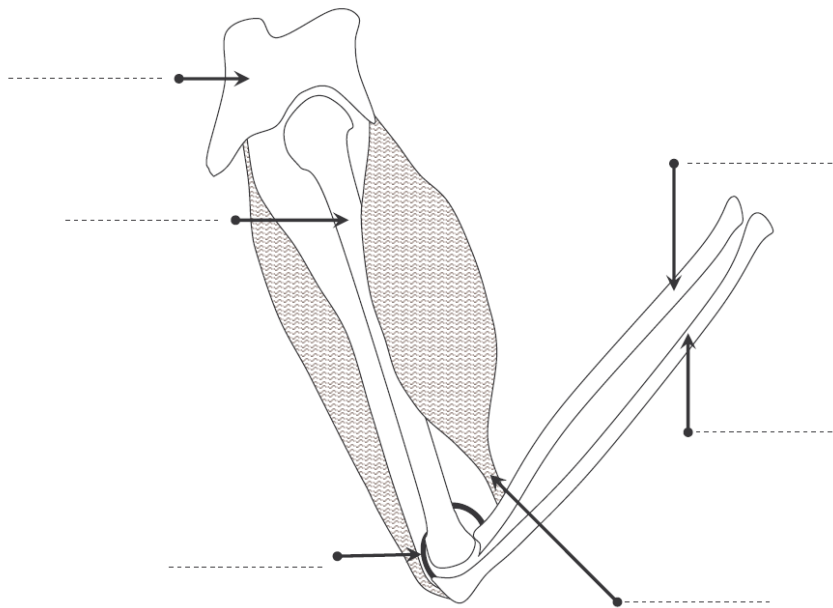
Ecris dans le tableau le nom des articulations les plus connues.

Mets une croix dans les bonnes cases.



Articulation	Me permet de bouger dans plusieurs directions	Me permet de bouger dans une seule direction
épaule		
coude		
poignet		
hanche		
genou		
cheville		

Colorie les os en jaune et les muscles en rouge puis complète le schéma des os et des muscles du bras.



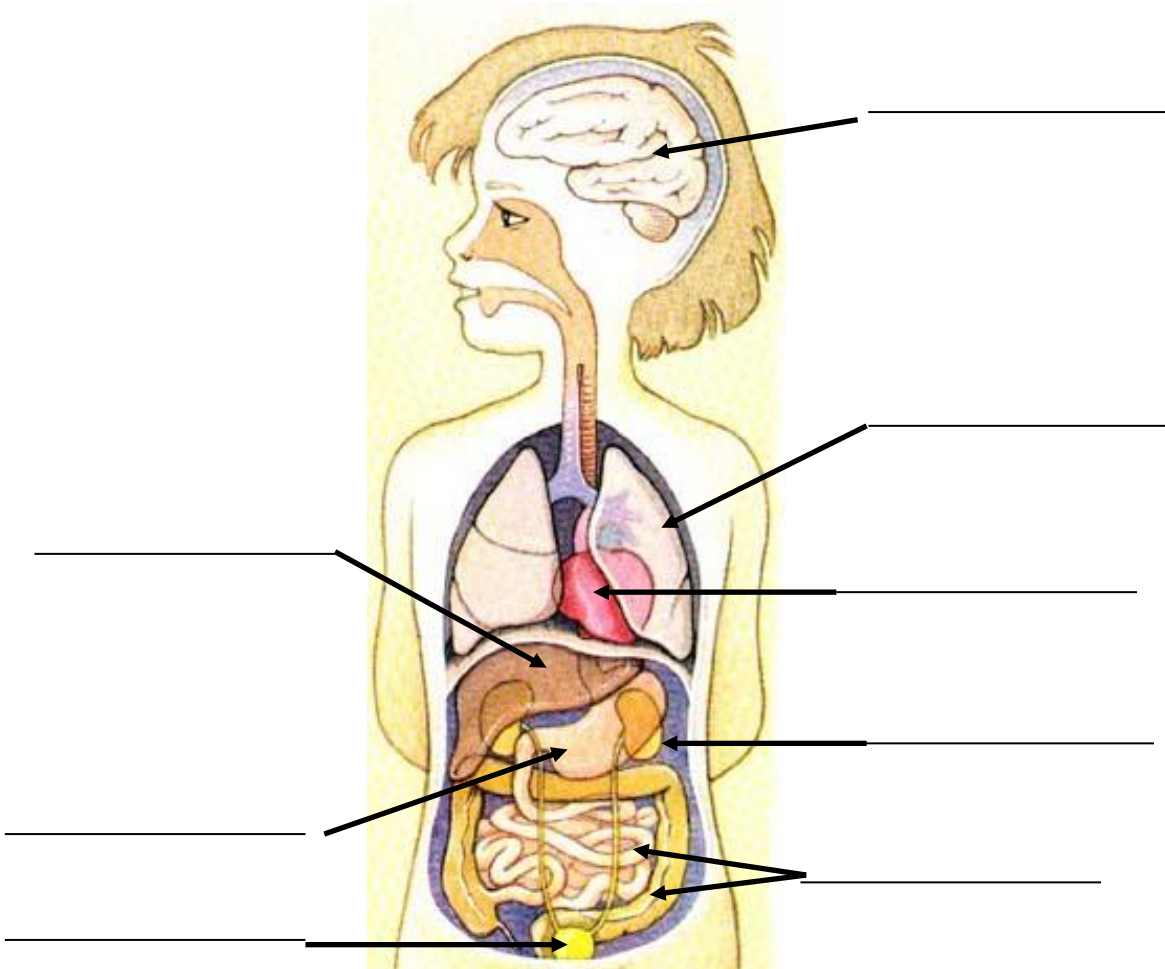
Ces deux muscles sont appelés muscles \_\_\_\_\_

Les os sont reliés entre eux par des \_\_\_\_\_ et mis en \_\_\_\_\_

Un muscle est attaché à 2 os différents par des \_\_\_\_\_

## A l'intérieur de notre corps

Complète le schéma avec le nom des organes (fais attention à l'orthographe !)



Le rôle des organes :

C'est l'organe qui fait circuler le sang dans tout le coeur, c'est \_\_\_\_\_

Elle stocke l'urine, c'est \_\_\_\_\_

Il commence la digestion c'est \_\_\_\_\_

Il aide la digestion et arrête les toxines, c'est \_\_\_\_\_

Ils nettoient les sang, ce sont \_\_\_\_\_

Ils permettent de respirer, ce sont \_\_\_\_\_

Il commande tous les organes de notre corps, c'est \_\_\_\_\_

Ils assurent les mouvements du corps, ce sont \_\_\_\_\_

Pourquoi est ce important de stimuler en permanence notre cerveau ? \_\_\_\_\_