

Evaluation de sciences CE2

Le corps humain



Prénom : _____

Date : ____ / ____ / ____

Compétences évaluées :

Appréciation :

Les êtres vivants

Réponds aux questions par vrai ou faux.

Tous les êtres vivants se ressemblent physiquement.

Vrai

faux

Le patrimoine génétique vient de la nourriture que l'on mange.

Vrai

faux

Plusieurs personnes peuvent avoir les mêmes empreintes génétiques.

Vrai

faux

Cite les quatre conditions pour définir un être comme un être vivant

Le corps peut-il s'abîmer ?



Observe cette radiographie, comment s'appelle ce type de blessure ?

Comment cette blessure se soignera-t-elle ?

Qu'est-ce qu'un hématome ? Comment se soignera-t-il ?

Donne la définition d'une plaie.

A quoi faut-il faire attention lorsqu'un corps a une plaie ?

Les os

Réponds à la question par vrai ou faux.

Les os ne sont pas vivants.

Vrai

faux

La colonne vertébrale ressemble à la lettre I car elle est toute droite.

Vrai

faux

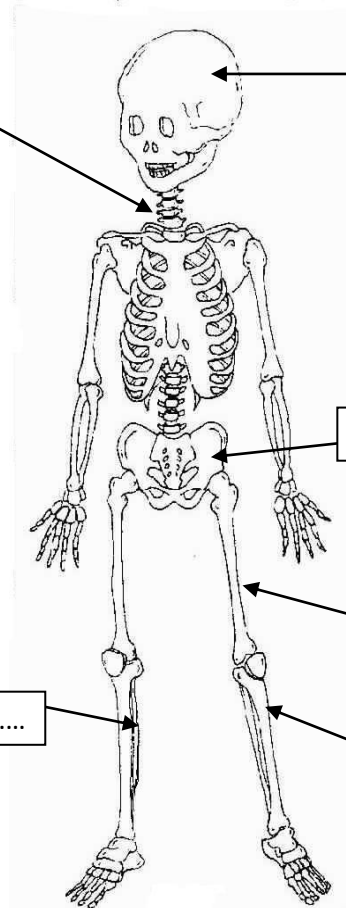
Comment s'appelle l'ensemble des os du corps humain ?

Combien d'os possède le corps humain ?

Pourquoi est ce important de se tenir correctement ?

.....
..... reliée au crâne, elle est
composée de petits os appelés
vertèbres.

.....



.....

.....

.....

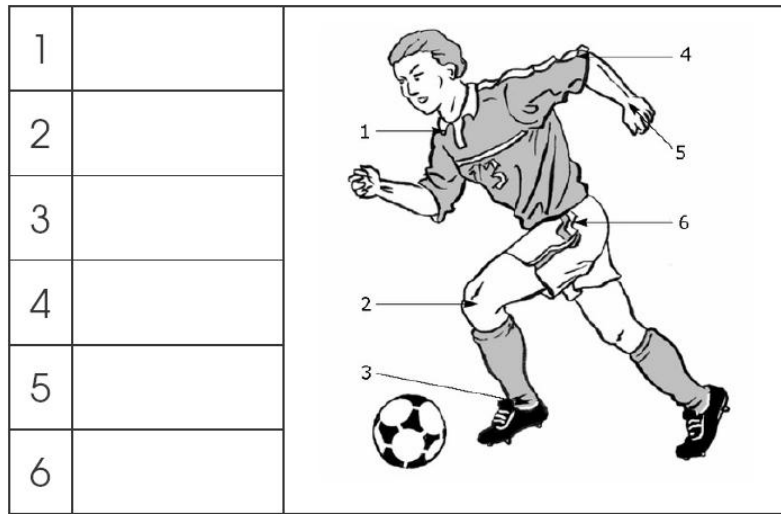
.....

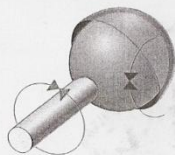
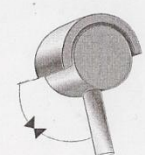
.....

Evaluation de sciences CE2 - Le corps humain

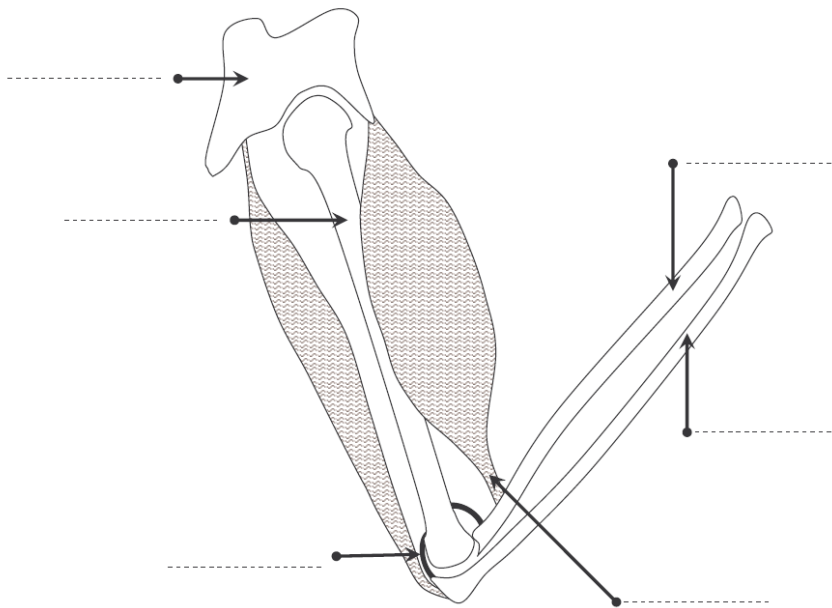
Ecris dans le tableau le nom des articulations les plus connues.

Mets une croix dans les bonnes cases.



Articulation	Me permet de bouger dans plusieurs directions	Me permet de bouger dans une seule direction
épaule		
coude		
poignet		
hanche		
genou		
cheville		

Colorie les os en jaune et les muscles en rouge puis complète le schéma des os et des muscles du bras.

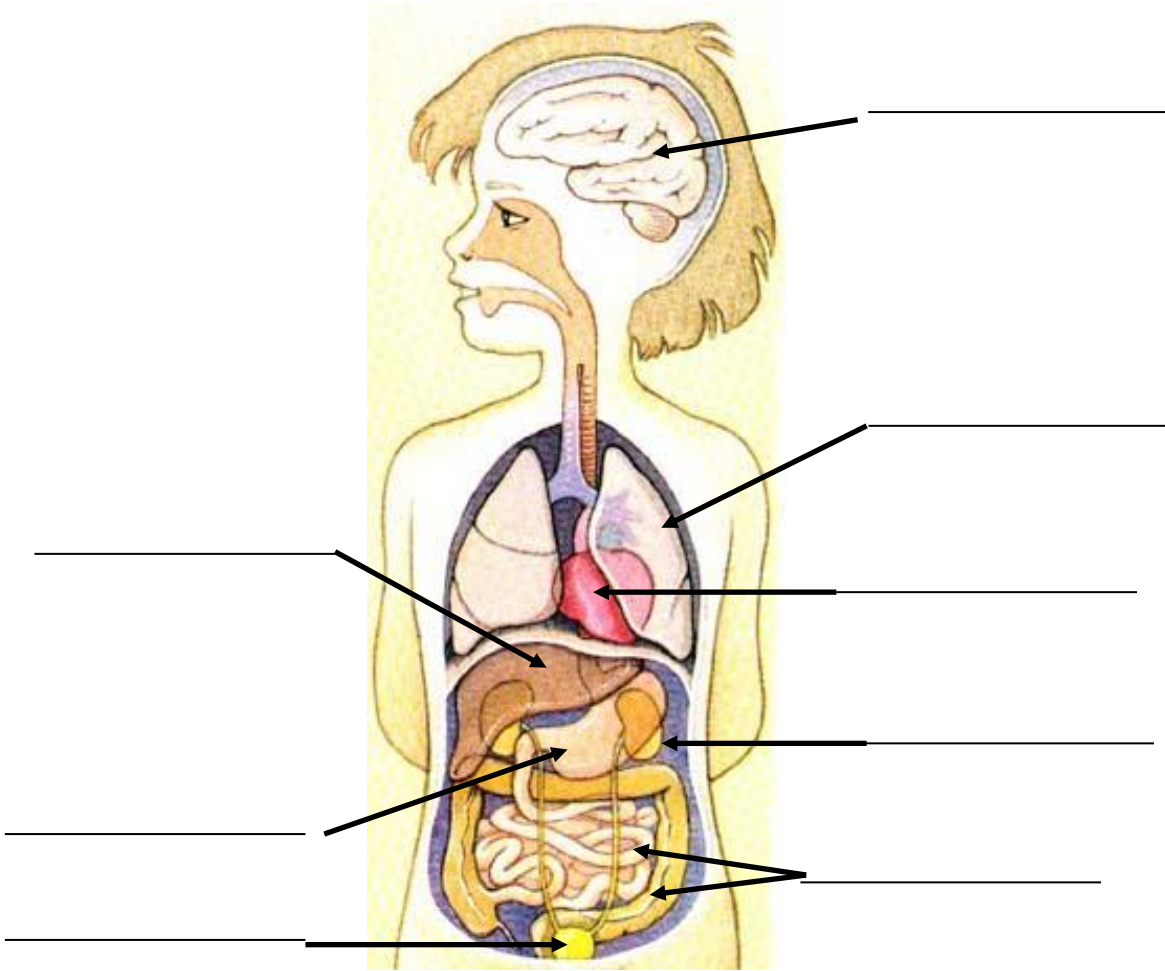


Les os sont reliés entre eux par des _____ et mis en _____

Un muscle est attaché à 2 os différents par des _____

A l'intérieur de notre corps

Complète le schéma avec le nom des organes (fais attention à l'orthographe !)



Le rôle des organes :

C'est l'organe qui fait circuler le sang dans tout le coeur, c'est _____

Elle stocke l'urine, c'est _____

Il commence la digestion c'est _____

Ils nettoient les sang, ce sont _____

Ils permettent de respirer, ce sont _____

Il commande tous les organes de notre corps, c'est _____

Ils assurent les mouvements du corps, ce sont _____

Pourquoi est ce important de stimuler en permanence notre cerveau ? _____