

































































































ATELIER - LA MONNAIE

<p>Prénom : _____ Date : _____</p> <p>Connaissance des nombres La monnaie : euros et centimes d'euros</p> <p>Colorie les pièces et/ou billets pour avoir la somme indiquée.</p> <table border="1"> <tr> <td></td> <td></td> <td></td> </tr> <tr> <td>7 €</td> <td>12 €</td> <td>17 €</td> </tr> <tr> <td></td> <td></td> <td></td> </tr> <tr> <td>23 €</td> <td>15 €</td> <td>21 €</td> </tr> <tr> <td></td> <td></td> <td></td> </tr> <tr> <td>30 €</td> <td>41 €</td> <td>25 €</td> </tr> </table>				7 €	12 €	17 €				23 €	15 €	21 €				30 €	41 €	25 €	<p>Prénom : _____ Date : _____</p> <p>Connaissance des nombres La monnaie : euros et centimes d'euros</p> <p>Indique la somme contenue dans chaque portefeuille.</p> <table border="1"> <tr> <td></td> <td>_____ €</td> </tr> <tr> <td></td> <td>_____ €</td> </tr> <tr> <td></td> <td>_____ €</td> </tr> <tr> <td></td> <td>_____ €</td> </tr> <tr> <td></td> <td>_____ €</td> </tr> <tr> <td></td> <td>_____ €</td> </tr> <tr> <td></td> <td>_____ €</td> </tr> </table>		_____ €		_____ €		_____ €		_____ €		_____ €		_____ €		_____ €	<p>Prénom : _____ Date : _____</p> <p>Connaissance des nombres La monnaie : euros et centimes d'euros</p> <p>Reme les billets qui sont en trop.</p> <table border="1"> <tr> <td>55 €</td> <td></td> </tr> <tr> <td>40 €</td> <td></td> </tr> <tr> <td>60 €</td> <td></td> </tr> <tr> <td>35 €</td> <td></td> </tr> <tr> <td>125 €</td> <td></td> </tr> <tr> <td>320 €</td> <td></td> </tr> </table>	55 €		40 €		60 €		35 €		125 €		320 €		<p>Prénom : _____ Date : _____</p> <p>Connaissance des nombres La monnaie : euros et centimes d'euros</p> <p>Colorie les pièces et/ou billets pour acheter l'objet indiqué.</p> <table border="1"> <tr> <td></td> <td></td> </tr> <tr> <td>15 €</td> <td>23 €</td> </tr> <tr> <td></td> <td></td> </tr> <tr> <td>19 €</td> <td>27 €</td> </tr> <tr> <td></td> <td></td> </tr> <tr> <td>34 €</td> <td>28 €</td> </tr> <tr> <td></td> <td></td> </tr> <tr> <td>19 €</td> <td>36 €</td> </tr> </table>			15 €	23 €			19 €	27 €			34 €	28 €			19 €	36 €	<p>Prénom : _____ Date : _____</p> <p>Connaissance des nombres La monnaie : euros et centimes d'euros</p> <p>Indique la somme contenue dans chaque porte-monnaie.</p> <table border="1"> <tr> <td></td> <td></td> </tr> <tr> <td>_____ €</td> <td>_____ €</td> </tr> <tr> <td></td> <td></td> </tr> <tr> <td>_____ €</td> <td>_____ €</td> </tr> <tr> <td></td> <td></td> </tr> <tr> <td>_____ €</td> <td>_____ €</td> </tr> </table>			_____ €	_____ €			_____ €	_____ €			_____ €	_____ €		
7 €	12 €	17 €																																																																												
23 €	15 €	21 €																																																																												
30 €	41 €	25 €																																																																												
	_____ €																																																																													
	_____ €																																																																													
	_____ €																																																																													
	_____ €																																																																													
	_____ €																																																																													
	_____ €																																																																													
	_____ €																																																																													
55 €																																																																														
40 €																																																																														
60 €																																																																														
35 €																																																																														
125 €																																																																														
320 €																																																																														
15 €	23 €																																																																													
19 €	27 €																																																																													
34 €	28 €																																																																													
19 €	36 €																																																																													
_____ €	_____ €																																																																													
_____ €	_____ €																																																																													
_____ €	_____ €																																																																													
<p>Prénom : _____ Date : _____</p> <p>Connaissance des nombres La monnaie : Les centimes d'Euros</p> <p>Colorie les pièces pour avoir la somme indiquée.</p> <table border="1"> <tr> <td></td> <td></td> <td></td> </tr> <tr> <td>5 centimes d'€</td> <td>4 centimes d'€</td> <td>7 centimes d'€</td> </tr> <tr> <td></td> <td></td> <td></td> </tr> <tr> <td>10 centimes d'€</td> <td>12 centimes d'€</td> <td>15 centimes d'€</td> </tr> <tr> <td></td> <td></td> <td></td> </tr> <tr> <td>20 centimes d'€</td> <td>25 centimes d'€</td> <td>23 centimes d'€</td> </tr> </table>				5 centimes d'€	4 centimes d'€	7 centimes d'€				10 centimes d'€	12 centimes d'€	15 centimes d'€				20 centimes d'€	25 centimes d'€	23 centimes d'€	<p>Prénom : _____ Date : _____</p> <p>Connaissance des nombres La monnaie : Les centimes d'Euros</p> <p>Colorie les pièces qu'il te faut pour acheter chaque bonbon.</p> <table border="1"> <tr> <td></td> <td></td> </tr> <tr> <td>3 centimes d'€</td> <td>5 centimes d'€</td> </tr> <tr> <td></td> <td></td> </tr> <tr> <td>7 centimes d'€</td> <td>9 centimes d'€</td> </tr> <tr> <td></td> <td></td> </tr> <tr> <td>10 centimes d'€</td> <td>12 centimes d'€</td> </tr> <tr> <td></td> <td></td> </tr> <tr> <td>15 centimes d'€</td> <td>8 centimes d'€</td> </tr> </table>			3 centimes d'€	5 centimes d'€			7 centimes d'€	9 centimes d'€			10 centimes d'€	12 centimes d'€			15 centimes d'€	8 centimes d'€	<p>Prénom : _____ Date : _____</p> <p>Connaissance des nombres La monnaie : Les centimes d'Euros</p> <p>Colorie les pièces qu'il te faut pour acheter chaque bonbon.</p> <table border="1"> <tr> <td></td> <td></td> </tr> <tr> <td>6 centimes d'€</td> <td>4 centimes d'€</td> </tr> <tr> <td></td> <td></td> </tr> <tr> <td>14 centimes d'€</td> <td>16 centimes d'€</td> </tr> <tr> <td></td> <td></td> </tr> <tr> <td>11 centimes d'€</td> <td>13 centimes d'€</td> </tr> <tr> <td></td> <td></td> </tr> <tr> <td>24 centimes d'€</td> <td>20 centimes d'€</td> </tr> </table>			6 centimes d'€	4 centimes d'€			14 centimes d'€	16 centimes d'€			11 centimes d'€	13 centimes d'€			24 centimes d'€	20 centimes d'€	<p>Prénom : _____ Date : _____</p> <p>Connaissance des nombres La monnaie : Les centimes d'Euros</p> <p>Indique la somme contenue dans chaque porte-monnaie.</p> <table border="1"> <tr> <td></td> <td></td> </tr> <tr> <td>_____ centimes d'€</td> <td>_____ centimes d'€</td> </tr> <tr> <td></td> <td></td> </tr> <tr> <td>_____ centimes d'€</td> <td>_____ centimes d'€</td> </tr> <tr> <td></td> <td></td> </tr> <tr> <td>_____ centimes d'€</td> <td>_____ centimes d'€</td> </tr> </table>			_____ centimes d'€	_____ centimes d'€			_____ centimes d'€	_____ centimes d'€			_____ centimes d'€	_____ centimes d'€	<p>Prénom : _____ Date : _____</p> <p>Connaissance des nombres La monnaie : Les centimes d'Euros</p> <p>Indique la somme contenue dans chaque porte-monnaie.</p> <table border="1"> <tr> <td></td> <td></td> </tr> <tr> <td>_____ centimes d'€</td> <td>_____ centimes d'€</td> </tr> <tr> <td></td> <td></td> </tr> <tr> <td>_____ centimes d'€</td> <td>_____ centimes d'€</td> </tr> <tr> <td></td> <td></td> </tr> <tr> <td>_____ centimes d'€</td> <td>_____ centimes d'€</td> </tr> </table>			_____ centimes d'€	_____ centimes d'€			_____ centimes d'€	_____ centimes d'€			_____ centimes d'€	_____ centimes d'€
5 centimes d'€	4 centimes d'€	7 centimes d'€																																																																												
10 centimes d'€	12 centimes d'€	15 centimes d'€																																																																												
20 centimes d'€	25 centimes d'€	23 centimes d'€																																																																												
3 centimes d'€	5 centimes d'€																																																																													
7 centimes d'€	9 centimes d'€																																																																													
10 centimes d'€	12 centimes d'€																																																																													
15 centimes d'€	8 centimes d'€																																																																													
6 centimes d'€	4 centimes d'€																																																																													
14 centimes d'€	16 centimes d'€																																																																													
11 centimes d'€	13 centimes d'€																																																																													
24 centimes d'€	20 centimes d'€																																																																													
_____ centimes d'€	_____ centimes d'€																																																																													
_____ centimes d'€	_____ centimes d'€																																																																													
_____ centimes d'€	_____ centimes d'€																																																																													
_____ centimes d'€	_____ centimes d'€																																																																													
_____ centimes d'€	_____ centimes d'€																																																																													
_____ centimes d'€	_____ centimes d'€																																																																													

ATELIER - LA MONNAIE

<p>Prénom : _____ Date : _____</p> <p>Connaissance des nombres La monnaie : Les centimes d'Euros</p> <p>Colorie les pièces pour avoir la somme indiquée.</p> <p>21 centimes d'€ </p> <p>12 centimes d'€ </p> <p>25 centimes d'€ </p> <p>13 centimes d'€ </p> <p>26 centimes d'€ </p> <p>22 centimes d'€ </p>	<p>Prénom : _____ Date : _____</p> <p>Connaissance des nombres La monnaie : Les centimes d'Euros</p> <p>Colorie les pièces pour avoir la somme indiquée.</p> <p>23 centimes d'€ </p> <p>14 centimes d'€ </p> <p>20 centimes d'€ </p> <p>30 centimes d'€ </p> <p>18 centimes d'€ </p> <p>28 centimes d'€ </p>	<p>Prénom : _____ Date : _____</p> <p>CALCUL La monnaie Décomposition</p> <p>1. Écris la somme contenue dans chaque porte-monnaie.</p> <p>  </p> <p>2. Colorie les pièces pour avoir la somme indiquée.</p> <p> 70 centimes d'€</p> <p> 90 centimes d'€</p> <p> 80 centimes d'€</p> <p> 1 €</p> <p> 1 € 10</p> <p> 1 € 20</p>	<p>Prénom : _____ Date : _____</p> <p>CALCUL La monnaie Décomposition</p> <p>1. Colorie les pièces nécessaires pour obtenir la somme indiquée.</p> <p>57 </p> <p>26 </p> <p>60 </p> <p>38 </p> <p>2. Complète l'étiquette.</p> <p> <input type="text"/></p> <p> <input type="text"/></p> <p> <input type="text"/></p> <p> <input type="text"/></p>	<p>Prénom : _____ Date : _____</p> <p>CALCUL La monnaie Décomposition</p> <p>1. Colorie les pièces nécessaires pour obtenir la somme indiquée.</p> <p>25 € </p> <p>32 € </p> <p>41 € </p> <p>55 € </p> <p>60 € </p> <p>2. Complète l'étiquette.</p> <p> <input type="text"/></p> <p> <input type="text"/></p> <p> <input type="text"/></p> <p> <input type="text"/></p>
<p>Prénom : _____ Date : _____</p> <p>CALCUL La monnaie Décomposition</p> <p>1. Colorie les pièces nécessaires pour obtenir la somme indiquée.</p> <p>21 </p> <p>32 </p> <p>45 </p> <p>13 </p> <p>2. Complète l'étiquette.</p> <p> <input type="text"/></p> <p> <input type="text"/></p> <p> <input type="text"/></p> <p> <input type="text"/></p>	<p>Prénom : _____ Date : _____</p> <p>Connaissance des nombres La monnaie : euros et centimes d'euros</p> <p>Colorie les pièces pour avoir la somme indiquée.</p> <p> 1 € et 2 c</p> <p> 2 € et 10 c</p> <p> 1 € et 20 c</p> <p> 2 € et 50 c</p> <p> 1 € et 5 c</p> <p> 2 € et 1 c</p> <p> 3 € et 12 c</p> <p> 2 € et 15 c</p> <p> 1 € et 11 c</p>	<p>Prénom : _____ Date : _____</p> <p>Connaissance des nombres La monnaie : euros et centimes d'euros</p> <p>Colorie les pièces pour avoir la somme indiquée.</p> <p> 2 € et 25 c</p> <p> 1 € et 23 c</p> <p> 2 € et 27 c</p> <p> 3 € et 26 c</p> <p> 1 € et 51 c</p> <p> 2 € et 30 c</p> <p> 2 € et 3 c</p> <p> 2 € et 60 c</p> <p> 1 € et 7 c</p>	<p>Prénom : _____ Date : _____</p> <p>Connaissance des nombres La monnaie : euros et centimes d'euros</p> <p>Colorie les pièces qu'il te faut pour acheter chaque bonbon.</p> <p> 1 € 50 </p> <p> 0 € 57 </p> <p> 1 € 05 </p> <p> 1 € 30 </p> <p> 1 € 35 </p> <p> 1 € 13 </p> <p> 0 € 68 </p> <p> 1 € 15 </p>	<p>Prénom : _____ Date : _____</p> <p>Connaissance des nombres La monnaie : euros et centimes d'euros</p> <p>Colorie les pièces qu'il te faut pour acheter chaque bonbon.</p> <p> 3 € 52 </p> <p> 5 € 25 </p> <p> 2 € 15 </p> <p> 2 € 30 </p> <p> 0 € 87 </p> <p> 1 € 11 </p> <p> 1 € 05 </p> <p> 2 € 21 </p>