

Résolution de problèmes




date : prénom :

	A	AR	ECA	NA	Observations
Résoudre des problèmes relevant de l'addition ou de la soustraction					
Résoudre des problèmes relevant de la multiplication					
Résoudre des problèmes de partage					

1

Hugo et Quentin comparent leur tirelire.
Hugo a 36 € et Quentin 21 €.
Qui a le plus d'argent ? Et combien de plus ?


Fais tes essais :



2

Lors d'une chasse à l'œuf, Louna ramasse 24 œufs en chocolat et sa petite sœur Nina en ramasse 16.
Combien d'œufs les deux fillettes ont-elles ramassés ?


Fais tes essais :



3

Marie achète un maillot de bain qui coûte 19 €.
Elle donne un billet de 50 € à la caissière.
Combien la caissière va-t-elle lui rendre ?


Fais tes essais :



4

Martin invite 5 copains pour son anniversaire.
Les enfants reçoivent 1 gâteau et 4 bonbons chacun.
Combien de gâteau et de bonbons Martin va-t-il distribuer ?

Fais tes essais :



Résolution de problèmes




date : prénom :

5

Kim fête son anniversaire. Elle a 13 ans. Son frère Paul dit : « J'ai 5 ans de moins que toi. »
Quel âge a Paul?

Fais tes essais :




6

Antoine peut-il acheter cette guitare ?




Fais tes essais :



7

Marina achète 3 cahiers qui coute 2 euros chacun.
Combien va-t-elle dépenser ?

Fais tes essais :



8

Louis et ses 3 amis ont gagné 16 billes à la récréation. Ils veulent les partager entre eux.
Combien chacun aura de billes ?
Aide : tu dois partager en 4.

Fais tes essais :

