

Ton prénom :

date :

Groupe 2, fiche n°

1 Écris en chiffres ces deux nombres.

:

:

2 Écris en lettres ces deux nombres.

:

:

3 Observe le modèle et prends le temps de comprendre. Puis, écris de la même façon le nombre.

2 387 c'est pareil que :	1000+1000+100+100+100+10 +10+10+10+10+10+10+10+10+10 +10+1+1+1+1+1+1+1+1+1	2 000 + 300 + 80 + 7	2 unités de mille et 3 centaines et 8 dizaines et 7 unités
c'est pareil que :			

4 Écris les nombres à leur place dans le tableau.

milliard

million

mille

centaine de milliard	dizaine de milliard	unité de milliard	centaine de million	dizaine de million	unité de million	centaine de mille	dizaine de mille	unité de mille	centaine	dizaine	unité

Ton prénom :

date :

5 Mets de l'ordre dans ces nombres,  range-les en ordre croissant. (croître = grandir).

<input type="text"/>	<input type="text"/>	<input type="text"/>	<input type="text"/>	<input type="text"/>	<input type="text"/>
<input type="text"/>	<input type="text"/>	<input type="text"/>	<input type="text"/>	<input type="text"/>	<input type="text"/>

6 Mets de l'ordre dans ces nombres,  range-les en ordre décroissant. (décroître = diminuer).

<input type="text"/>	<input type="text"/>	<input type="text"/>	<input type="text"/>	<input type="text"/>	<input type="text"/>
<input type="text"/>	<input type="text"/>	<input type="text"/>	<input type="text"/>	<input type="text"/>	<input type="text"/>



7 Utilise les signes de mathématiques.  Complète avec l'un de ces signes :

+ - = < > ≠

..... = = + + +
+ +	+ + + +
.....	+ + +

8 Compter de x en x. a)  Compte de en de jusqu'à .

--	--	--	--	--	--	--	--	--	--	--	--

b)  Observe la suite suivante, puis  entoure la bonne réponse.

--	--	--	--	--	--	--	--	--	--	--	--

de 2 en 2

de 5 en 5

de 10 en 10

de 20 en 20

de 25 en 25

de 50 en 50

de 100 en 100.

Ton prénom :

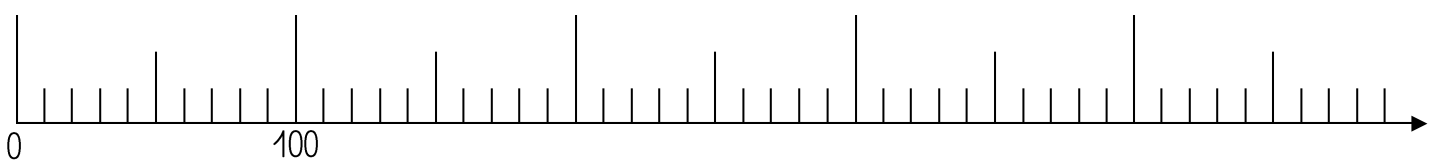

date :

9 Complète ces trois tableaux, 👁 👁 observe bien l'exemple.

Nombre qui est juste avant celui-ci →		Nombre qui est juste après celui-ci ←		Nombre arrondi à la dizaine avant celui-ci →		Nombre arrondi à la dizaine après celui-ci ←
522	523	524		520	523	530
				0		0
				0		0

Nombre arrondi à la centaine avant celui-ci →		Nombre arrondi à la centaine après celui-ci ←
500	523	600
00		00
00		00

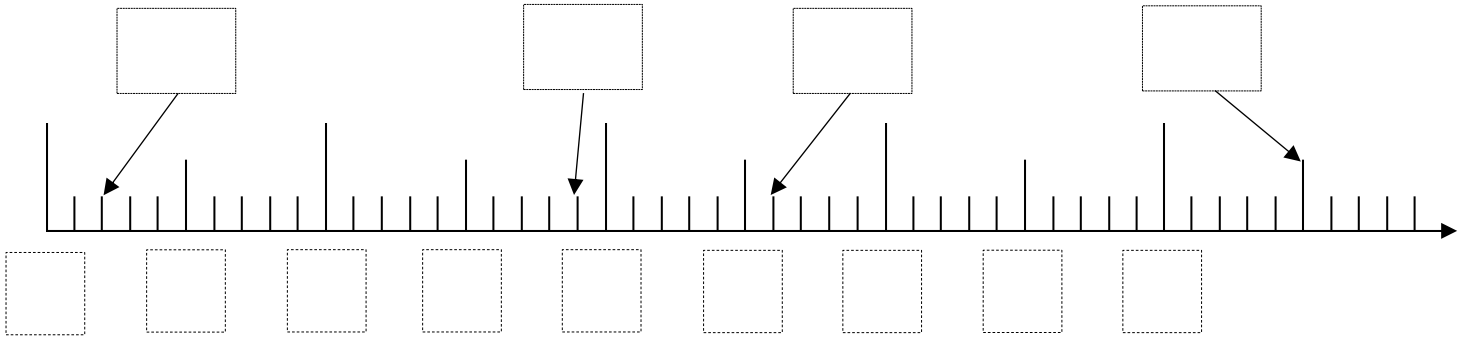
10 Trace un trait pour placer les nombres sur la demi-droite graduée.




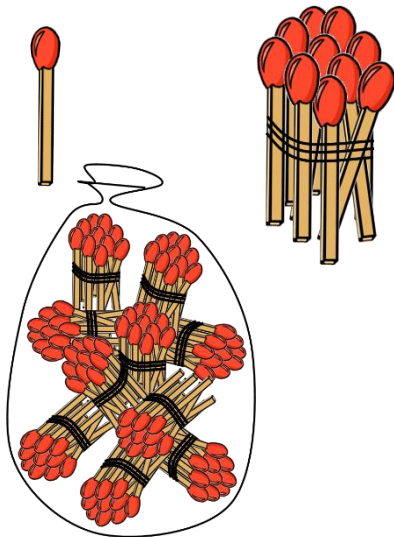
Ton prénom :

date :

11  Observe les nombres et  complète la demi-droite graduée.




12  Écris combien tu vois d'allumettes.



	unités d'allumettes
et	dizaines d'allumettes
et	centaines d'allumettes
ça fait	allumettes en tout.

Ton prénom :

date :

12  Écris combien tu vois de bonbons.



	unités de bonbons
et	dizaines de bonbons
et	centaines de bonbons
ça fait	bonbons en tout.