






















0	1	2		4	5	6	7	8	9
10	11	12	13	14	15	16	17	18	
20	21	22	23		25	26	27	28	29
30	31	32	33	34		36	37	38	39
40		42	43	44	45	46	47	48	49
50	51	52	53	54	55		57	58	59
60	61	62	63	64	65	66	67	68	69
70	71		73	74	75	76	77		79
80	81	82		84	85	86	87	88	89
90	91	92	93	94	95		97	98	99

Tableau des nombres de 0 à 99

 Ecris le nombre caché sous chacun de ces animaux. (1)






















0	1	2	3	4		6		8	9
	11		13	14	15	16	17	18	19
20	21	22	23	24	25	26	27		29
30		32		34	35		37	38	39
40	41		43	44		46	47	48	49
50	51	52	53		55	56	57		59
	61	62	63	64		66	67	68	69
70		72		74	75	76	77	78	
80	81	82	83	84		86	87	88	
90		92	93	94	95	96		98	99


Tableau des nombres de 0 à 99











 Ecris le nombre caché sous chacun de ces fruits. (2)

0	1		3			6	7	8	
10		12	13		15		17		19
20			23	24		26		28	29
	31	32		34		36	37	38	
40		42			45	46	47		49
	51	52		54	55		57	58	59
60		62	63		65		67		69
70	71			74		76		78	
80		82	83		85			88	89
	91	92		94		96	97		99

Tableau des nombres de 0 à 99

 Ecris le nombre caché sous chacun de ces objets. (3)





		2				6	7		9
			13		15			18	19
20		22				26	27		
	31	32		34				38	
			43		45	46			49
	51	52		54			57		
60			63			66			69
	71			74			77	78	
80		82	83		85				89
	91			94			97	98	

Tableau des nombres de 0 à 99

 Ecris le nombre caché sous chacun de ces légumes. (4)

