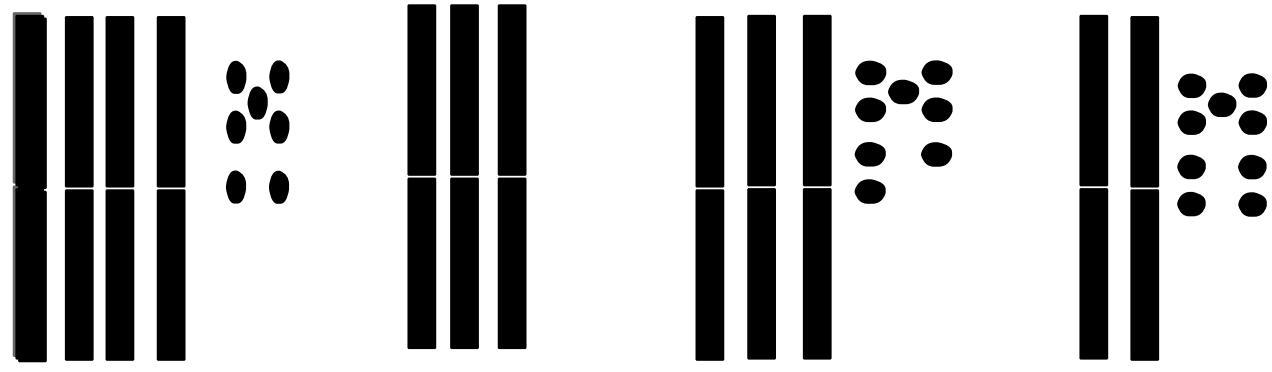


# Les nombres de 0 à 50



**1**

Complète




41 - 24 - 13 - 30 - 49 - 7 - 36


**2**



**3** Compte:




Dizaine(s)	Unité(s)




Dizaine(s)	Unité(s)

**4** Continue





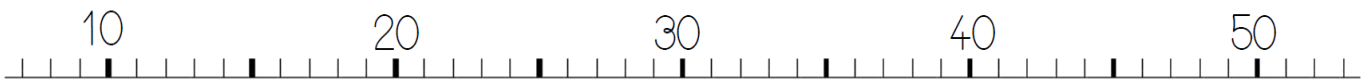
# 1 Complète les tableaux



23	→	20 + 3
38	→	-----
40	→	-----
25	→	-----
18	→	-----

35	←	30 + 5
-----	←	40 + 7
-----	←	10 + 9
-----	←	30 + 2
-----	←	10 + 8

## 2 Relie chaque ballon à son piquet:



## 3 Aide le Calmitto à trouver son repas




7	15	43	11	22	1	25	33	15	37	29	22	29
29	51	35	47	46	2	3	4	5	6	33	15	16
28	48	12	29	39	31	7	32	13	7	8	32	34
27	50	11	21	51	9	12	47	37	27	9	10	11
52	20	33	12	29	28	9	12	42	50	37	44	12
46	40	9	27	46	27	48	5	8	18	17	14	13
19	39	21	32	8	19	10	25	24	23	49	15	40
47	1	39	24	29	28	27	26	41	22	36	16	30
48	10	28	7	30	22	10	52	50	21	33	17	11
35	34	33	32	31	8	50	6	49	20	19	18	42
36	44	18	13	6	26	22	23	10	27	35	11	25
37	17	17	34	35	40	47	48	49	50	1	52	29
38	39	48	45	36	45	46	24	28	51	18	50	13
21	40	41	42	43	44	40	15	25	52	25	39	32
50	29	25	46	26	3	13	18	2	55	8	14	



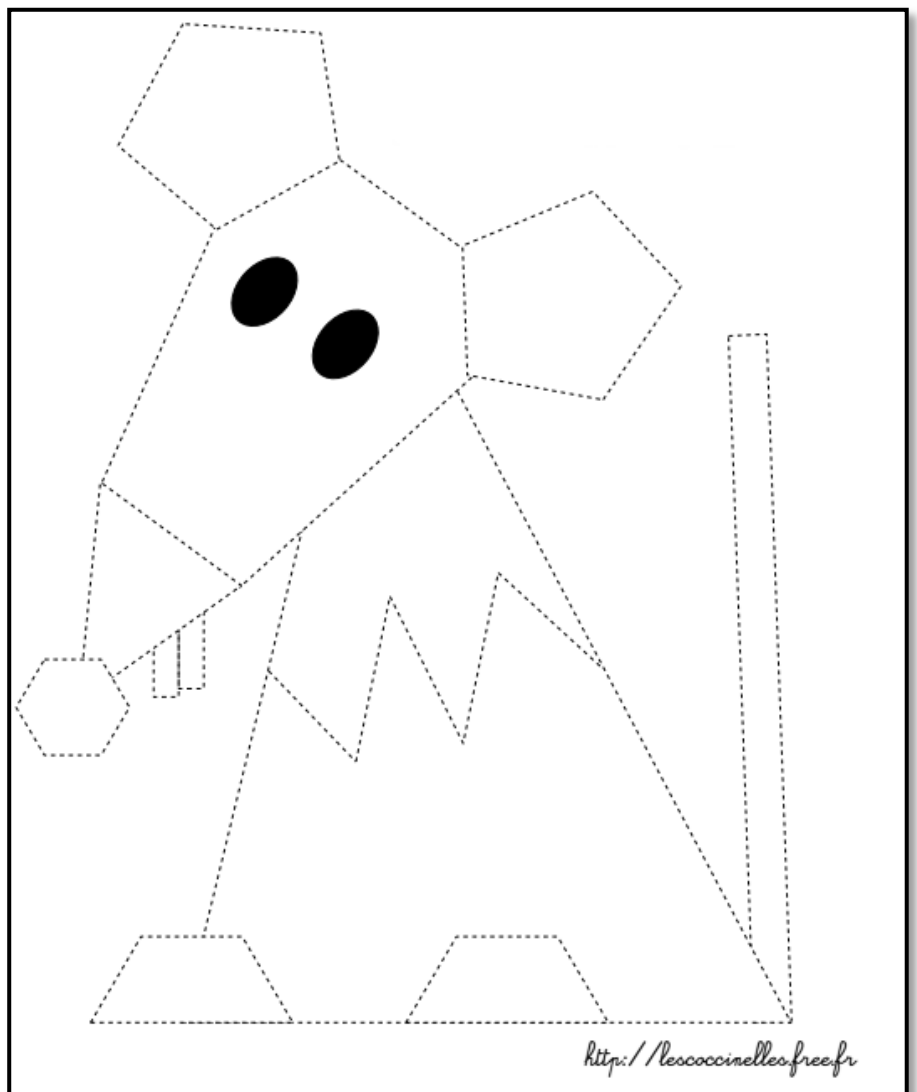

# Géométrie

Semaine 4 Sept2016


1 Relie les points de la même couleur avec ta règle et ton crayon:



Repasse sur les pointillés de la souris:



<http://lescoccinelles.free.fr>



# Calculs simples

1 Complète et calcule:



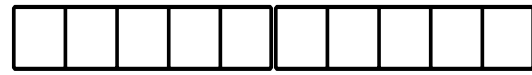
$$5 - 3 = \underline{\quad}$$



$$8 - 6 = \underline{\quad}$$



$$5 - 1 = \underline{\quad}$$



$$7 - 4 = \underline{\quad}$$



$$9 - 2 = \underline{\quad}$$



$$6 - 6 = \underline{\quad}$$

2 Colorie de la même couleur l'opération et son résultat:

$$7 - 1 =$$

$$8 - 8 =$$

5

$$9 - 4 =$$

2

0

6

$$4 - 1 =$$

3

$$3 - 1 =$$

$$6 - 5 = \underline{\quad}$$

1

## Résolution de problèmes

Aide-toi des indices pour résoudre ce problème...

Sur la page Léa a ramassé 5 coquillages et Tom en a ramassé 3.  
Combien ont-ils de coquillages en tout ?



Réponse: Ils ont  coquillages

Opération

