

Prénom: \_\_\_\_\_

## Les repères sur la Terre

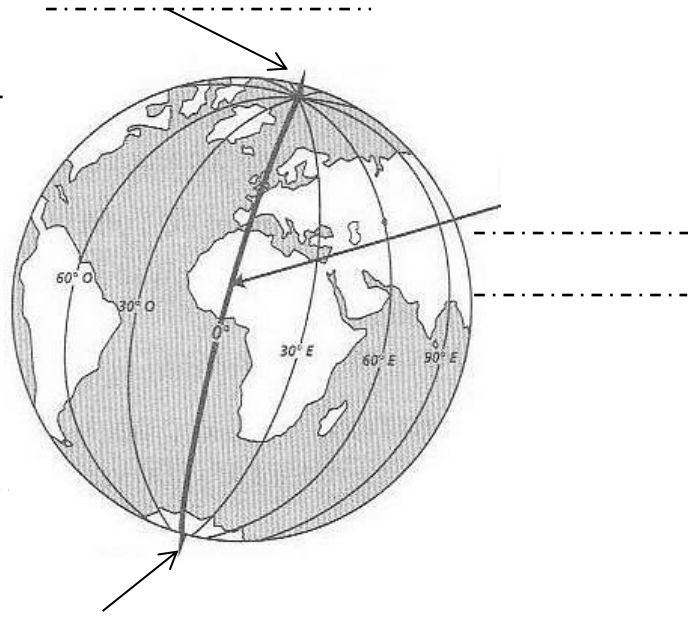
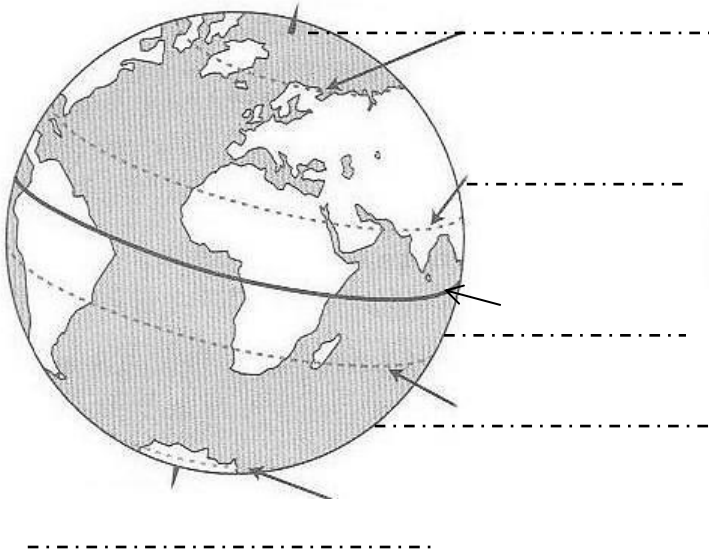
### Compétences évaluées :

Comprendre les notions de parallèle, méridien, latitude, longitude et équateur

Connaître le nom des lignes imaginaires qui permettent de se repérer

Se repérer sur un planisphère

### 1) Complète:



### 2) Coche la bonne réponse:

- Un parallèle peut passer par deux hémisphères
- Les tropiques peuvent exprimer une latitude
- L'équateur est le plus court des parallèles
- Les méridiens se rejoignent à chaque pôle

Vrai

Faux

### 3) Réponds aux questions suivantes:

- Quels sont les deux premiers repères inventés par les géographes? Par quelle ligne imaginaire sont-ils séparés?

-----  
-----

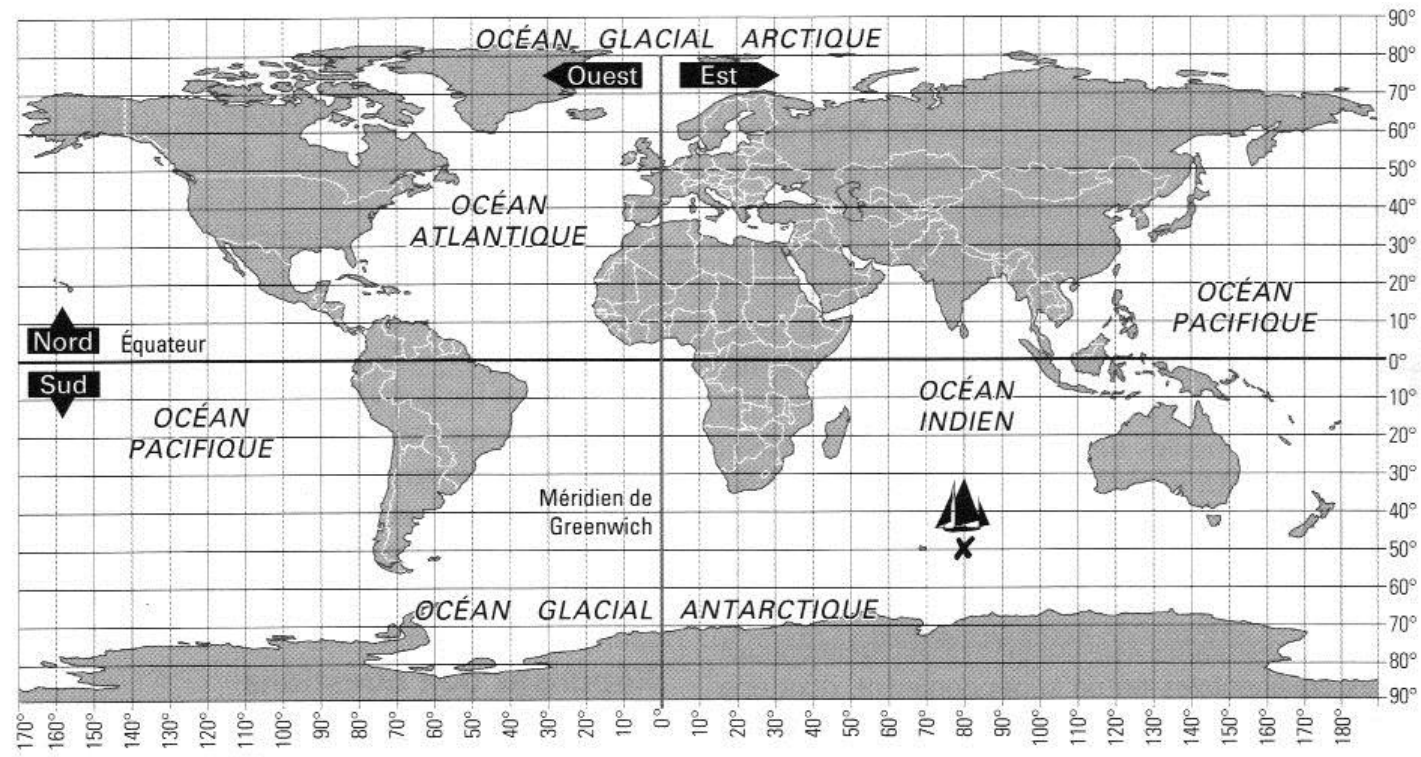
- Donne la définition des mots suivants:

Latitude: -----

Longitude: -----

#### 4) Donner les coordonnées géographiques:

- Donne les coordonnées géographiques du bateau situé sur le planisphère:
- 
- Mets une croix sur le planisphère pour situer les bateaux suivants:
  - 50° Sud 40° Est
  - 20° Nord 140° Ouest



Sur ce planisphère repasse en rouge l'équateur et en vert le méridien principal.