

Nombres et opérations : D+D, D-D



Colorie le calcul et sa réponse de la même couleur.

$40 + 20$	$60 - 20$	$100 - 50$
$70 + 10$	30	60
	80	$50 + 40$
$90 - 60$	40	50



Complète : <, >, =

.....	
$60 + 10$ 90
.....	
$90 - 60$ 30
.....	
$70 + 20$ 100
.....	
$40 - 40$ 10

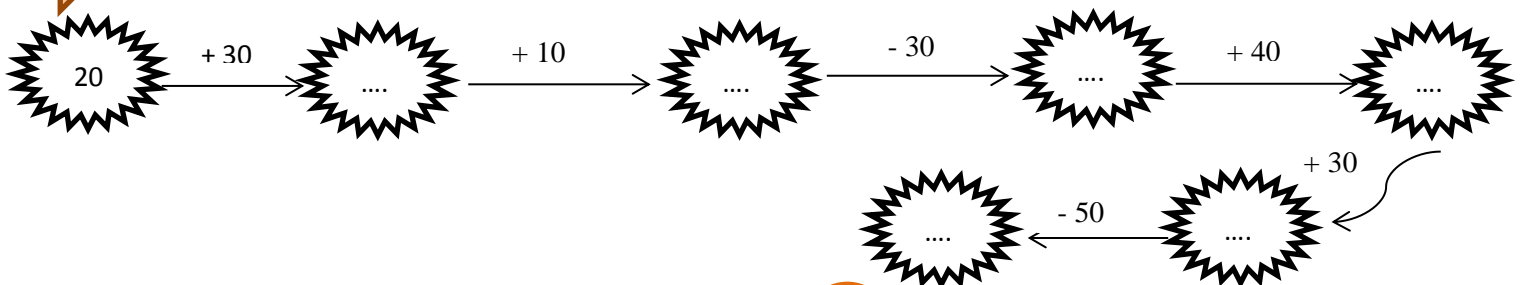


Relie en utilisant des couleurs.

$80 - 70$	40
$90 - 50$	60
$30 + 30$	70
$50 + 40$	10
$20 + 50$	90



Complète la ribambelle.



Nombres et opérations : D+U, U+D, D-U



Colorie le calcul et sa réponse de la même couleur.

60+5

40-7

6+20

80-5

91

75

33

65

2+50

90+1

52

26



Complète : <, >, =

.....
70+2 72

.....
60-3 77

.....
4+10 41

.....
30-4 32



Relie en utilisant des couleurs.

50-2 91

90+1 74


3+30 48

20+5 33

80-6 25



Pars du corps de l'araignée pour calculer.



Nombres et opérations : $DU-U=D$, $D+U=DU$, $U+D=DU$ **Colorie le calcul et sa réponse de la même couleur.**

$65-5$	$30+5$	$5+20$
	90	39
$30+9$		25
	12	$93-3$
$2+10$	35	60

**Complète : <, >, =**

-
 $31-1$ 70
.....
 $30+4$ 30
.....
 $3+30$ 33
.....
 $76-6$ 34

**Relie en utilisant des couleurs.**

- | | | |
|------------|--------|------|
| $86-.....$ | $= 80$ | 20 |
| $90+.....$ | $= 93$ | 9 |
| $6+.....$ | $= 26$ | 6 |
| $49-.....$ | $= 40$ | 2 |
| $50+.....$ | $= 52$ | 3 |

**Problème.****Pascal a 35 billes. En jouant avec Marcel, il en perd 5. Combien lui reste-t-il de billes ?**Dessin et calculPhrase réponse :
.....
.....

Nombres et opérations : DU+U, U+DU



Colorie le calcul et sa réponse de la même couleur.

$27 + 2$	$5 + 33$	$1 + 18$
$51 + 6$	19	29
$2 + 22$	38	48
	24	$46 + 2$
		57



Complète : <, >, =

.....	
$4 + 25$ 77
.....	
$72 + 5$ 29
.....	
$3 + 84$ 92
.....	
$91 + 1$ 87



Relie en utilisant des couleurs.

$13 + 5$	39
$65 = 61 + \dots$	59
$35 + 4$	18
$51 + 8$	29
$6 + 23$	4



Problème.

Julien a donné 32 croquettes à son chien. Puis il lui en donne encore 5. Combien le chien a-t-il reçu de croquettes ?

<p><u>Dessin et calcul</u></p>	<p><u>Phrase réponse :</u></p> <p>.....</p> <p>.....</p>
--------------------------------	----------------------------------------------------------

Nombres et opérations : DU-U



Colorie le calcul et sa réponse de la même couleur.

63-1

59-5

15-1

79-8

54

24

62

71

96-5

27-3

91

14



Complète : <, >, =

-
- 27-5 70
-
- 72-2 22
-
- 96-2 41
-
- 48-7 94



Relie en utilisant des couleurs.

- | | |
|---------------|----|
| 64-2 | 3 |
| 98-..... = 95 | 72 |
|-6 = 32 | 62 |
| 75-3 | 38 |
| 88-8 | 80 |



Problème.

Dans sa bibliothèque, Maryse a 46 livres. elle en prête 4 à Elise. Combien en reste-t-il dans sa bibliothèque ?

<p><u>Dessin et calcul</u></p>	<p><u>Phrase réponse :</u></p> <p>.....</p> <p>.....</p>
--------------------------------	----------------------------------------------------------

Date :

Prénom :

Nombres et opérations : DU+D, D+DU



Colorie le calcul et sa réponse de la même couleur.

12 + 30

50 + 32

20 + 25

42

76

78

60 + 18

82

28 + 30

56 + 20

58

45



Complète : <, >, =

.....
50 + 47 91

.....
21 + 70 99

.....
36 + 50 97

.....
80 + 19 86



Relie en utilisant des couleurs.

20 + = 37 30

58 + = 88 34

60 + = 91 17

50 + = 84 20

41 + = 61 31



Problème.

Pour sa fête, maman a reçu 30 roses près de papa et elle a encore reçu 25 roses près de Lucie.
Combien a-t-elle reçu de roses en tout ?

<u>Dessin et calcul</u>	<u>Phrase réponse :</u>
-------------------------	-------------------------------------------

Nombres et opérations : DU-D



Colorie le calcul et sa réponse de la même couleur.

99-40

64-20

26-10

8

42

46

72-30

16

58-50

66-20

59

44



Complète : <, >, =

.....
86-20 19

.....
29-10 27

.....
54-40 14

.....
77-50 66



Calcule

67-..... = 37

95-..... = 45

48 = 98-.....

.....-10 = 84

.....-40 = 25



Problème.

Maman a fait 72 galettes. Les enfants en mangent 30. Combien reste-t-il de galettes ?

<p>Dessin et calcul</p>	<p>Phrase réponse :</p>
-------------------------	---------------------------------------------

Date :

Prénom :

Nombres et opérations : DU-DU=D



Colorie le calcul et sa réponse de la même couleur.

49-29

71-11

96-46

73-23

10

20

60


30

42-32

65-35

50

50



Complète : <, >, =

.....
55-25 40

.....
42-22 20

.....
69-29 30

.....
97-47 50



Colorie les calculs dont la réponse est correcte.

76-26 = 50

91-11 = 81

76-26 = 50

64-24 = 30

25-15 = 10

76-26 = 50

48-18 = 30



Problème.

Emilie a 64 livres. Elle en prête 34 à sa cousine. Combien lui en reste-t-il dans sa bibliothèque ?

Dessin et calcul

Phrase réponse :

.....
.....

Nombres et opérations : DU+DU

1

Colorie le calcul et sa réponse de la même couleur.

$$62 + 25$$

$$35 + 14$$

$$53 + 14$$

$$67$$

$$49$$

$$37$$

$$26 + 11$$

$$87$$

$$17 + 12$$

$$42 + 22$$

$$29$$

$$64$$

2

Complète : <, >, =

$$\dots\dots\dots 54 + 21 \dots\dots 48$$

$$\dots\dots\dots 32 + 32 \dots\dots 75$$

$$\dots\dots\dots 24 + 24 \dots\dots 64$$

$$\dots\dots\dots 13 + 15 \dots\dots 28$$

3

Barre les calculs dont la réponse est incorrecte.

$$21 + 32 = 35$$

$$61 + 15 = 76$$

$$62 + 31 = 93$$

$$45 + 12 = 56$$

$$41 + 21 = 72$$

$$24 + 33 = 57$$

$$56 + 13 = 69$$

4

Problème.

Pour son anniversaire Lily a reçu 26 euros près de parrain et 32 euros près de marraine. Combien a-t-elle reçu d'euros en tout ?

Dessin et calcul

Phrase réponse :

.....

Date :

Prénom :

Nombres et opérations : DU-DU



Colorie le calcul et sa réponse de la même couleur.

26-13

45-21

38-15

99-55

23

51

24

44

53-33

76-25

20

13

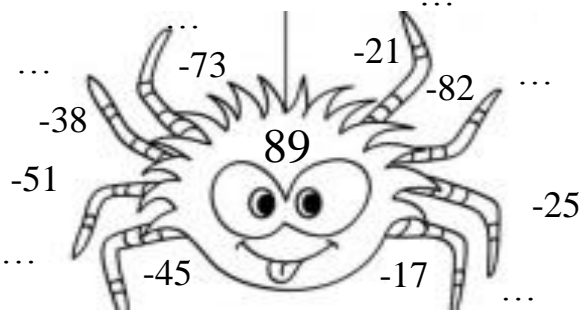


Complète : <, >, =

-
39-25 12
-
74-13 41
-
85-44 61
-
23-11..... 14



Pars du corps de l'araignée pour calculer.



Problème.

Pascal a 45 images. il en donne 23 à son petit frère. Combien lui en reste-t-il ?

<u>Dessin et calcul</u>	<u>Phrase réponse :</u>
-------------------------	-------------------------------------------

Nombres et opérations : D = DU + DU (complément)



Colorie le calcul et sa réponse de la même couleur.

15 + 5

26 + 14

32 + 18

42 + 28

80

20

30

40

12 + 18

55 + 25

70

50



Complète : <, >, =

.....
65 + 15 50

.....
74 + 26 80

.....
32 + 18 60

.....
27 + 33 100



Calcule.



32 + = 50

15 + = 40

61 + = 80

11 + = 30

27 + = 60

54 + = 70



Problème.

Marc a 28 billes. Combien lui en manque-t-il pour en avoir 50 ?

<p><u>Dessin et calcul</u></p> 	<p><u>Phrase réponse :</u></p> <p>.....</p> <p>.....</p>
--------------------------------------------	----------------------------------------------------------

Nombres et opérations : DU+U, U+DU (avec passage de la dizaine)



Colorie le calcul et sa réponse de la même couleur.

25 + 9

7 + 38

6 + 46

8 + 56

52

34

64


45

69 + 2

78 + 3

71

81



Complète : <, >, =

-
- 5 + 17 45
-
- 36 + 9 22
-
- 6 + 25 81
-
- 72 + 9 31



Relie en utilisant des couleurs.

- 29 + = 37 7
- 16 + = 22 5
- 45 + = 52 8
- 69 + = 74 4
- 37 + = 41 6



Problème.

Louis achète 6 livres. Elle en a déjà 58. Combien de livres a-t-elle en tout ?

<p><u>Dessin et calcul</u></p> 	<p><u>Phrase réponse :</u></p> <p>.....</p> <p>.....</p>
--------------------------------------------	----------------------------------------------------------

Nombres et opérations : DU-U (avec passage de la dizaine)



Colorie le calcul et sa réponse de la même couleur.

26-7

12-3

35-9

26

19

69

75-6

9

81-8

42-6

73

36



Complète : <, >, =

.....
65-9 57

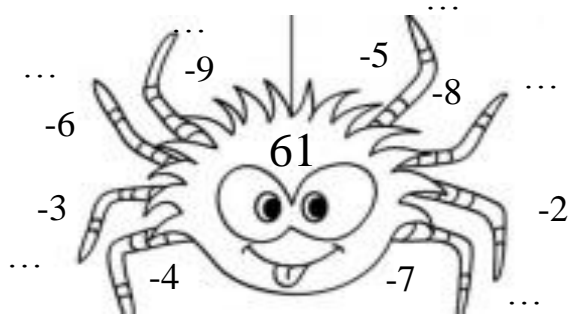
.....
63-6 55

.....
62-4 56

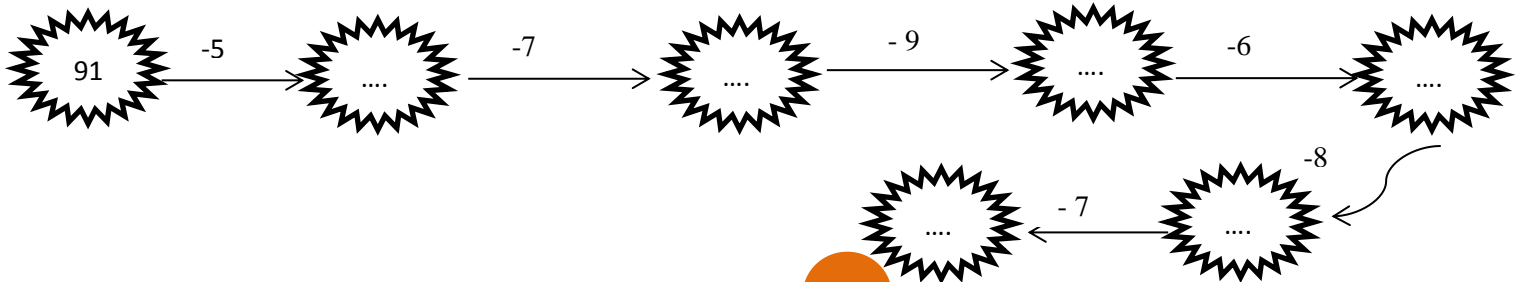
.....
62-7 58



Pars du corps de l'araignée pour calculer.



Complète la ribambelle.



Nombres et opérations : DU+DU (avec passage de la dizaine)



Colorie le calcul et sa réponse de la même couleur.

25 + 26

69 + 23

18 + 34

57 + 14

93

52

32

71

49 + 44

19 + 13

92

51



Complète : <, >, =

.....
35 + 36 81

.....
62 + 19 71

.....
58 + 26 91

.....
72 + 19 84



Barre les calculs dont la réponse est incorrecte.

27 + 25 = 52

18 + 36 = 48

48 + 18 = 66

56 + 19 = 75

41 + 21 = 72

37 + 54 = 81

14 + 18 = 32



Problème.

Pili l'écureuil a caché 29 noisettes et 45 noix. Combien a-t-il de fruits en tout?

<u>Dessin et calcul</u>	<u>Phrase réponse :</u>
-------------------------	-------------------------------------------

Nombres et opérations : DU-DU (avec passage de la dizaine)

1

Colorie le calcul et sa réponse de la même couleur.

42-14

94-19

93-45

53-24

48

29

75

69

81-12

32-17

15

28



2

Complète : <, >, =

.....
45-16 5

.....
24-19 14

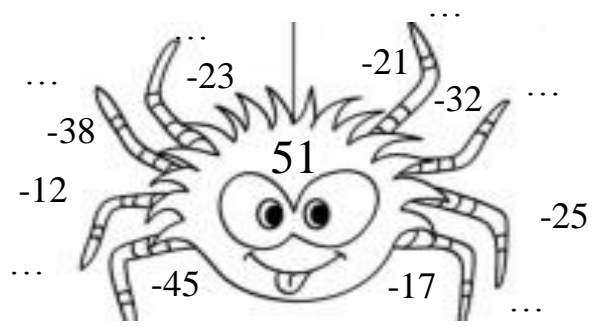
.....
32-18 29

.....
66-57..... 9



3

Pars du corps de l'araignée pour calculer.



4

Problème.

Juliette ramasse 35 coquillages. Elle en donne 18 à sa soeur. Combien lui en reste-t-il ?

Dessin et calcul

Phrase réponse :

.....

.....