

# CORRECTIONS

## CHARADE

Mon premier → **gui** ; Mon second → **re** ; Mon troisième → **lent** ; Mon quatrième → **deux** ;

Mon tout → **(une) guirlande**

## EXPRESSION

→ "**Etre dans le rouge**" signifie avoir des difficultés financières, c'est être dans une situation financière délicate, généralement lorsque les comptes en banque affichent un chiffre négatif.

→ **Origine** : Afin de mieux comprendre cette locution, il faudrait commencer par définir le terme "**rouge**" selon les époques. En effet, cette couleur a quasiment existé depuis la préhistoire puisque les fresques dans les grottes étaient généralement peintes en **rouge** et ocre. Au moyen-âge, les couleurs de base sont le blanc ou incolore, le noir pour la saleté et le **rouge** était la couleur.

A partir de là, cette couleur a revêtu plusieurs symboles: tout d'abord, le **rouge** représente le mal sous forme de feu et de sang et reste la couleur satanique de référence. Ensuite ce terme a symbolisé l'amour donc le bien. Peu à peu, il incarne la puissance et la gloire pour devenir la teinte symbolisant les cardinaux.

Peu à peu, le **rouge** perd de sa gloire et devient la couleur du danger, de l'interdiction et de la révolution et d'une manière générale cette couleur a su garder l'ambivalence entre l'amour et le mal. De ce fait même la passion peut être destructrice et donnera au **rouge** une connotation particulière renvoyant à la perte de raison au profit d'agissements irraisonnés Ceci serait donc le cas pour la colère qui fait monter le sang au visage et le teinte de **rouge**. D'ailleurs, être en colère c'est aussi vouloir détruire.

Cette expression a vu le jour dans la seconde moitié du XXe siècle et s'appuie sur l'image des véhicules motorisés, notamment les voitures, qui possèdent un cadran indiquant le niveau d'essence. La partie verte signifiant qu'il en reste et la partie rouge qu'il n'y en a plus ou presque plus.

## CONJUGAISON QUOTIDIENNE

**Jedi 11** : ils/elles questionnaient ; tu combattis.

**Vendredi 12** : j'assailis ; vous saboterez.

## OPÉRATIONS

**Jedi 11** : ♦  $4,7 \times 10 = 47$  ; ♦  $8,1 \times 10 = 81$  ; ♦  $0,98 \times 10 = 9,8$ .

**Vendredi 12** : ♦  $0,05 \times 1\,000 = 50$  ; ♦  $0,44 \times 1\,000 = 440$  ; ♦  $0,97 \times 100 = 97$ .

## DICTIONNAIRE

**N° 33** (jeudi 11 juin)

«Quand il a engagé une politique coloniale, François 1er a demandé au navigateur Jacques Cartier de trouver un passage direct vers les Indes.»

«Le roi de France a demandé au navigateur d'explorer le nord de l'Amérique et de prendre possession des terres découvertes.»

## LECTURE (vendredi 12)



### QUESTIONS

(partie 4)



« Le desperado à la dent de lait. »

16) Qu'est-ce qu'un desperado ?

☛ C'est un homme n'ayant plus rien à craindre de la société et prêt à toutes les violences.

17) Où doit aller Johnny ?

☛ Johnny doit aller chez le dentiste.

18) Que fait Johnny à Jolly Jumper ?

☛ Il lui tire les oreilles.

19) Que veut dire « papoose » ?

☛ C'est un jeune enfant indien d'Amérique du Nord.

20) Qu'est-ce que Johnny reçoit comme cadeau ? Est-ce amusant ? Pourquoi ?

☛ Il reçoit une sucrerie, cela doit être un bonbon emballé comme un cadeau. C'est amusant en effet car il sort de chez le dentiste pour un mal de dents.

## SCIENCES (jeudi 11)

Réponds aux questions.

a) Parmi les êtres vivants, on distingue 3 groupes. Quels sont-ils ?

Ce sont les animaux, les végétaux et les champignons.

b) En fonction de quoi les scientifiques classent-ils les êtres vivants ?

Ils les classent en fonction des attributs (ou caractères) qu'ils possèdent.

c) Continue la phrase :

Si deux êtres vivants partagent des caractères communs, cela signifie qu'ils les ont hérités d'un ancêtre commun.

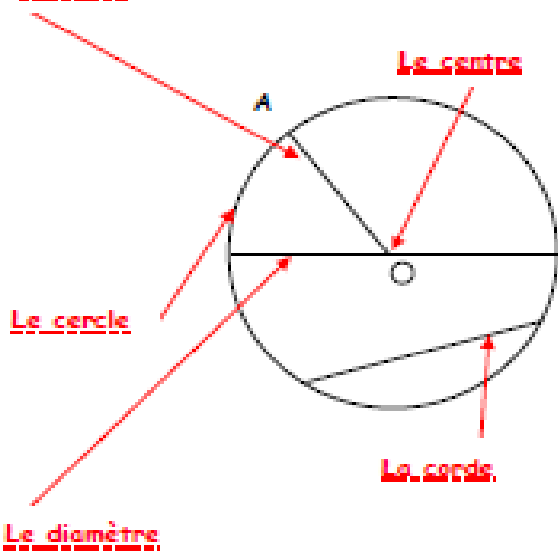
# GEOMETRIE (vendredi 5)

## Leçon à compléter

Géo

### LE CERCLE

Le rayon



Cette figure tracée au compas est un cercle.

O est le centre du cercle.

Un cercle est la ligne qui relie tous les points situés à la même distance du centre O. Cette distance est égale à la mesure du segment OA : c'est le rayon.

Le diamètre est la ligne qui sépare le cercle en 2 parties égales en passant par le centre O.

La corde ne passe jamais par le centre O.

Le périmètre du cercle se calcule en appliquant la formule :

$$\pi \text{ (Pi) } \times \text{ diamètre}$$


$$\pi : 3,1415927$$

Ne pas confondre cercle et disque !


Un cercle est une ligne courbe fermée dont tous les points sont à égale distance de son centre "O".

Un disque est une surface limitée par un cercle appartenant au disque.

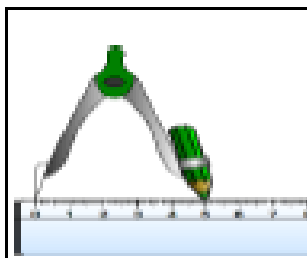
Un cercle




Un disque



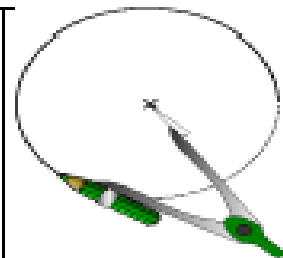
Comment tracer un cercle ?



On écarte le compas de la valeur du rayon.



On pique la pointe du compas sur le centre.



On trace avec le crayon sans déplacer la pointe.