

Prénom : _____ Date : _____

1. Complète les égalités.

$10-8= \dots$

$10-9= \dots$

$7-0= \dots$

$9-7= \dots$

$4-3= \dots$

$6-4= \dots$

$7-7= \dots$

$10-5= \dots$

$6-5= \dots$

$10-7= \dots$

$8-6= \dots$

$8-5= \dots$

2. Complète les égalités.

$5 + 3 = \dots$

$6 + 4 = \dots$

$1 + 9 = \dots$

$6 + 3 = \dots$

$3 + 4 = \dots$

$7 + 3 = \dots$

$8 + 1 = \dots$

$7 + 2 = \dots$

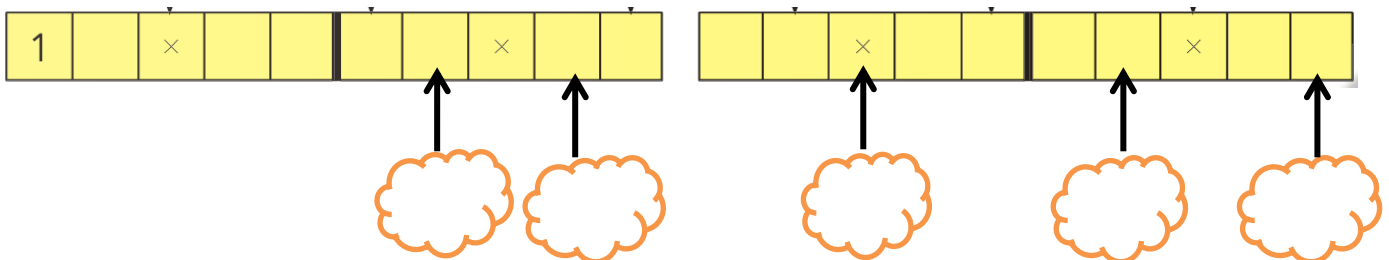
$4 + 4 = \dots$

3. Écris en lettres.

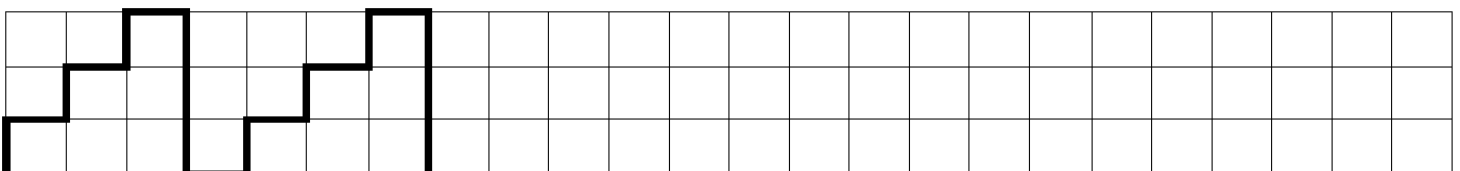
$5 = \dots \quad 4 = \dots \quad 1 = \dots$

$8 = \dots \quad 7 = \dots$

4. Imagine les jetons et complète les nuages.



5. Continue la frise.



6. Dessine comme Dédé.



7. Qui a le plus d'argent ? Réponds.



Léa a  €



Thomas a  €



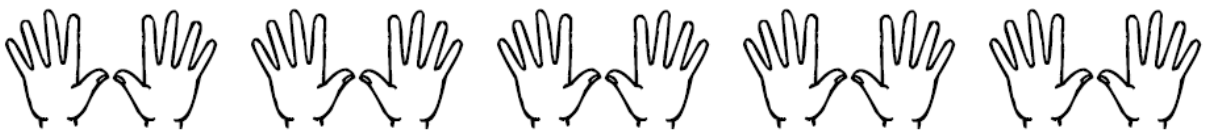
Justine a  €

C'est  qui a le plus d'argent.

8. Réponds.



On a colorié  doigts.



On a colorié  doigts.