



Mathématiques CP - Année 2015/2016 - Bilan 3

Date : _____

Ton prénom : _____



Ecris les nombres dictés.

● ■ ★ ☾ ♥ ▲



A la fin de chaque jeu, y a-t-il exactement 10 jetons dans la boîte ?

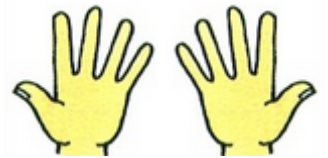
Entoure la bonne réponse

Jeu 1	3	3	2	3		oui	non	
Jeu 2	1	3	2	1	2	oui	non	
Jeu 3	3	1	1	2	2	1	oui	non

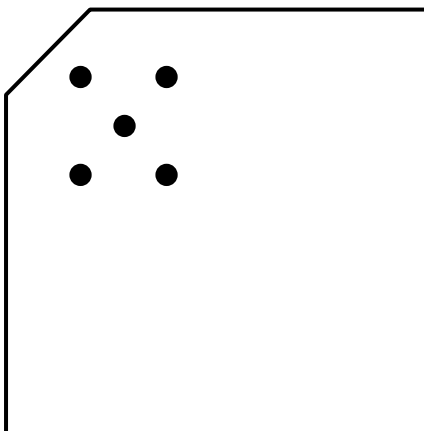


Ecris ce que doit choisir le dernier joueur pour obtenir 10.

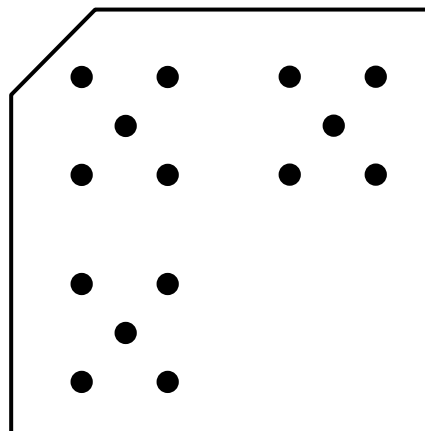
Jeu 4	3	3	2	
Jeu 5	1	3	2	1



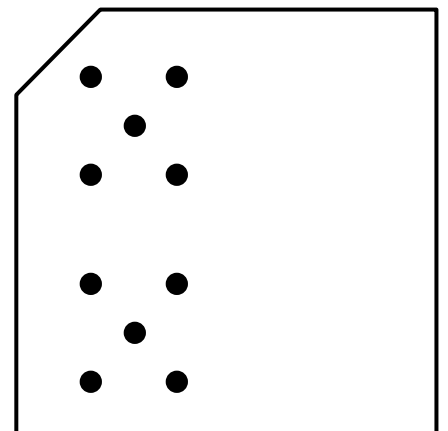
Complète pour avoir le bon nombre de points.



9




17



12



Colorie sur ton plan l'endroit indiqué par la maîtresse.



Continue les traits à la règle jusqu'au bord.

Lève ton crayon pour laisser la pluie derrière l'avion.

