

Contrôle de physique : électricité

Compétences évaluées :

Identifier les symboles, unités

Identifier les appareils de mesure

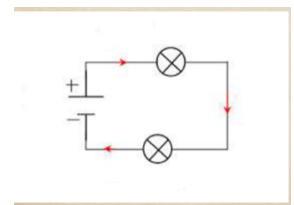
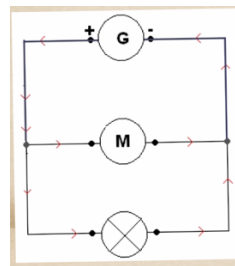
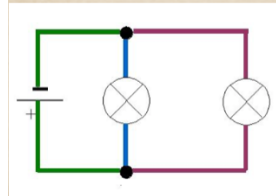
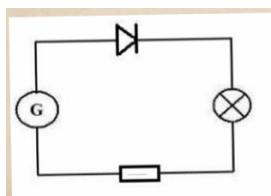
Identifier les montages en série, en dérivation

Identifier les symboles électriques

- 1) Colorie en bleu les étiquettes qui correspondent à la tension, en rouge celles de l'intensité, en vert celles de la puissance et en marron celles de la résistance

| | | | | |
|-------------|------|----------|----------|--------|
| Ampèremètre | I | P | Ohmmètre | V |
| U | Watt | Ω | A | Ampère |
| Voltmètre | R | Ohm | Volt | W |

- 2) Indique si les montages proposés sont en série ou en dérivation



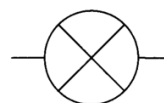
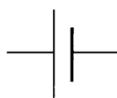
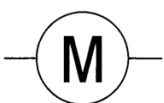
.....

.....

.....

.....

- 3) Ecris à côté de chaque symbole la signification



.....

.....

.....

.....

.....

.....

.....