

**MATHS : GEOMETRIE DANS LE PLAN**  
**Problèmes de reproduction, de construction**

Prénom : .....

Date : ...../...../20.....

**A**

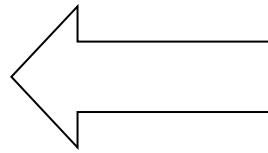
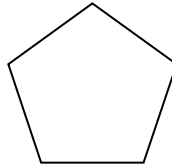


**EA**

**NA**

Trouver l'axe de symétrie d'une figure.

Compléter une figure par symétrie axiale.

**1. Trace les axes de symétrie des figures suivantes** (*Aide-toi de ta règle graduée et fais dépasser un peu les axes de la figure*) :



**2. Complète la moitié manquante par symétrie**

