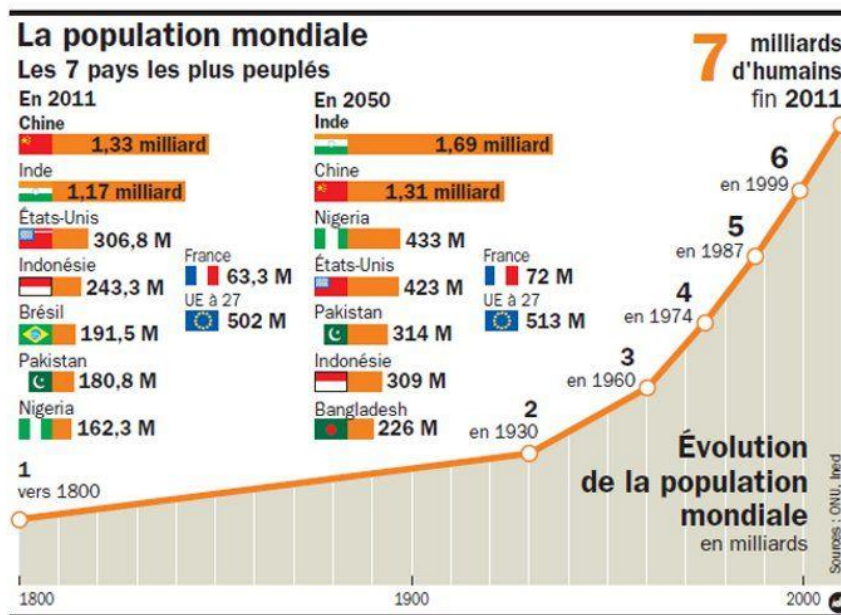


Note : la plus basse ..... -- moyenne ..... -- la plus haute .....

Mes réussites :	A	ECA	NA	→ points
1. Je connais quelques éléments expliquant la répartition de la population				/4,5
2. Je sais localiser les principales métropoles.				/6,5
3. Je connais les différents paysages ruraux.				/6
4. Je connais les différents paysages urbains.				/3

**1 La population mondiale :** *Observe ce document et réponds aux questions :*



- a) Où se situe les 3 principaux foyers de peuplement dans le monde et pourquoi ? (1,5 pts)
- b) Qu'observe-t-on sur l'évolution de la population mondiale depuis 1930 et pourquoi ? (2pts)
- c) Pourquoi la croissance de la population est très forte dans les pays pauvres ? (1pts)

**2 Les villes :** *Réponds aux questions :*

- a) Qu'est-ce qu'une agglomération ? (1pts)
- b) Comment les villes s'agrandissent dans les grandes agglomérations ? (1pts)
- c) Qu'est-ce qu'une mégapole et cites-en 3 ? (1 + 1,5pts)
- d) Qu'est-ce qu'un bidonville et où se situe-t-il principalement ? (2pts)

**3 Les paysages ruraux :** *Réponds aux questions :*


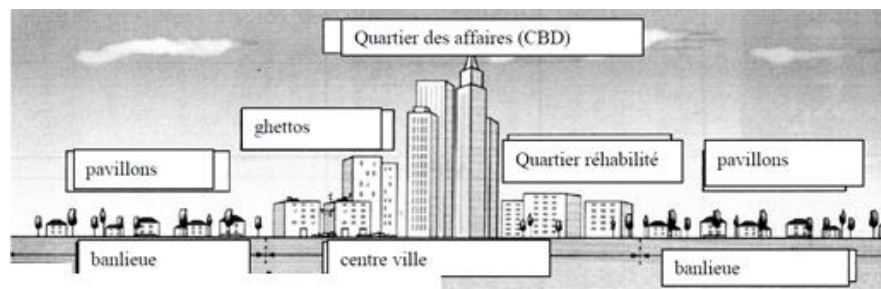
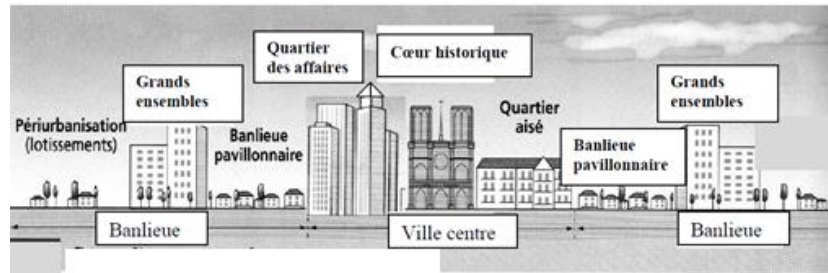
- a) En Europe, le monde rural est de moins en moins agricole et connaît des mutations vers d'autres activités, quelles sont ces mutations ? (2pts)
- b) Décris les paysages ruraux nord-américains. (2pts)
- c) Pourquoi l'Asie du Sud-Est est une région idéale pour la culture du riz ? (1pts)
- e) Décris les paysages ruraux d'Afrique. (1pts)

Date : ...../...../.....

Nom + Prénom :

#### 4 Les paysages urbains : Légende ces 3 paysages urbains :

*Métropole de pays en développement - Métropole européenne - Métropole américaine -*



## 1 La population mondiale : *Observe ce document et réponds aux questions :*

a) Où se situe les 3 principaux foyers de peuplement dans le monde et pourquoi ? (1,5 pts)

CHINE 0,5 (l'Asie de l'Est), INDE 0,5 (l'Asie du Sud) et l'EUROPE 0,5

b) Qu'observe-t-on sur l'évolution de la population mondiale depuis 1930 et pourquoi ? (2pts)

Il y a une explosion démographique 1 car la croissance de la population mondiale augmente et en même temps il y a une baisse de la mortalité. 1

c) Pourquoi la croissance de la population est très forte dans les pays pauvres ? (1pts)

La croissance de la population est très forte dans les pays pauvres (Afrique, Asie et Amérique du Sud) car les femmes ont beaucoup d'enfants et la population est jeune. 1

## 2 Les villes : *Réponds aux questions :*

a) Qu'est-ce qu'une agglomération ? (1pts)

Une agglomération est une zone urbaine continue autour d'une ville principale. 1

b) Comment les villes s'agrandissent dans les grandes agglomérations ? (1pts)

Les villes s'agrandissent par les banlieues 1 et forment des agglomérations.

c) Qu'est-ce qu'une mégapole et cites-en 3 ? (1 + 1,5pts)

Une mégapole est région urbaine de très grande dimension qui regroupe plusieurs agglomérations. 1

Une mégapole New-York, Londres, Paris ou Tokyo 0,5 + 0,5 + 0,5

d) Qu'est-ce qu'un bidonville et où se situe-t-il principalement ? (2pts)

un bidonville est un quartier de baraques faites de matériaux de récupération. 1

Les bidonvilles se situent principalement dans les pays les moins favorisés 1 ; les villes attirent les populations des campagnes. La population vit dans des quartiers insalubres (bidonvilles) à la périphérie des villes.

## 3 Les paysages ruraux : *Réponds aux questions :*

a) En Europe, le monde rural est de moins en moins agricole et connaît des mutations vers d'autres activités, quelles sont ces mutations ? (2pts)

En Europe, le monde rural est de moins en moins agricole et connaît des mutations vers d'autres activités : tourisme vert, mise en valeur du patrimoine (châteaux, musées...) 2

b) Décris les paysages ruraux nord-américains. (2pts)

Le paysage des Grandes Plaines 0,5 d'Amérique est très géométrique 0,5. Les fermes et les habitations sont très dispersées 0,5. Les Grandes Plaines d'Amérique du Nord sont une des plus grandes régions agricoles du monde. Les céréales y sont cultivées 0,5 sur des centaines de kilomètres.

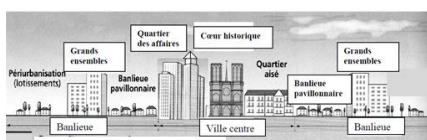
c) Pourquoi l'Asie du Sud-Est est une région idéale pour la culture du riz ? (1pts)

L'Asie du Sud-Est est une région idéale pour la culture du riz : présence de grands fleuves 0,25 comme le Mékong, de fortes pluies 0,25 quasiment toute l'année, les vents des moussons 0,25 et les terrains plats 0,25.

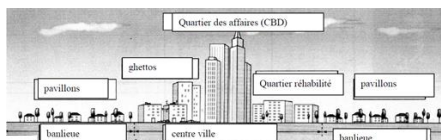
e) Décris les paysages ruraux d'Afrique. (1pts)

L'habitat rural est regroupé 0,5. Des cases entourées de jardins 0,25 et des greniers à céréales 0,25 forment le village. Les paysans produisent des céréales vivrières 0,5 (mil, sorgho) et des plantes commerciales 0,5 (coton, arachide).

## 4 Les paysages urbains : *Légende ces 3 paysages urbains :*



Métropole européenne 1



Métropole américaine 1



Métropole de pays en développement 1