

Prénom : \_\_\_\_\_

## Evaluation de début d'année Mathématiques CM1

### 1. Connaître, savoir écrire les nombres jusqu'au million.

A ECA NA

#### Ecris en lettres

102 034 \_\_\_\_\_

25 009 \_\_\_\_\_

179 198 \_\_\_\_\_

#### Ecris en chiffres

Deux cent deux mille deux \_\_\_\_\_

Trois mille trois cent trente trois \_\_\_\_\_

Quatre cent mille cent.  
\_\_\_\_\_

### 2. Comparer, ranger des nombres.

A ECA NA

Complète avec  $<$ ,  $>$  ou  $=$

$10 \times 21$  ... 2100

$25 \times 100$  ... 2 500

$30 \times 10$  ...  $3 \times 1000$

$7\ 800 \times 10$  ... 7 800

$890 \times 100$  ... 8 900

Complète

$199\ 999 <$  \_\_\_\_\_

\_\_\_\_\_  $< 230\ 200$

\_\_\_\_\_  $< 34\ 080$

$100\ 100 <$  \_\_\_\_\_

$354\ 679 <$  \_\_\_\_\_

A ECA NA

### 3. Mémoriser les tables de multiplications.

|  |  |  |  |  |
|--|--|--|--|--|
|  |  |  |  |  |
|  |  |  |  |  |

### 4. Connaître les techniques opératoires.

A ECA NA

Sur ton cahier, pose et calcule les 4 opérations suivantes :

$3\ 683 \times 6 =$

$625 \times 34 =$

$86\ 534 - 5\ 567 =$

$6\ 454 : 4 ?$

### 5. Résoudre des problèmes relevant des 4 opérations.

Attention, tu dois montrer comment tu arrives au résultat.

A ECA NA

Au festival des vieux tracteurs, 46 759 personnes sont venues écouter Les pirates, 123 645 ont préféré voir The Big Dog, et seulement 4 745 ont vu les Georgettes. Combien de spectateurs, le festival des vieux tracteurs a-t-il accueilli ?

### 3. Mémoriser les tables de multiplications.

|  |  |  |  |  |
|--|--|--|--|--|
|  |  |  |  |  |
|  |  |  |  |  |

### 4. Connaître les techniques opératoires.

A ECA NA

Sur ton cahier, pose et calcule les 4 opérations suivantes :

$3\ 683 \times 6 =$

$625 \times 34 =$

$86\ 534 - 5\ 567 =$

$6\ 454 : 4 ?$

### 5. Résoudre des problèmes relevant des 4 opérations.

Attention, tu dois montrer comment tu arrives au résultat.

A ECA NA

Au festival des vieux tracteurs, 46 759 personnes sont venues écouter Les pirates, 123 645 ont préféré voir The Big Dog, et seulement 4 745 ont vu les Georgettes. Combien de spectateurs, le festival des vieux tracteurs a-t-il accueilli ?

Prénom : \_\_\_\_\_

## Evaluation de début d'année Mathématiques CM2

A    ECA    NA

### 1. Connaître, savoir écrire les nombres jusqu'au million.

#### Ecris en lettres

34 102 034 \_\_\_\_\_

25 009 123 \_\_\_\_\_

179 000 198 \_\_\_\_\_

#### Ecris en chiffres.

Deux cent deux mille deux \_\_\_\_\_

Trois mille trois cent trente trois \_\_\_\_\_


Quatre cent mille cent. \_\_\_\_\_


### 2. Comparer, ranger des nombres.


A    ECA    NA


#### Complète

**6** Pour chaque figure, **écris** la fraction qui correspond à la partie coloriée.


 ...

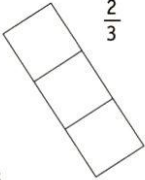
 ...


 ...

 ...


**7** Pour chaque figure, **colorie** la partie indiquée par la fraction.


  $\frac{1}{2}$


  $\frac{2}{3}$


  $\frac{3}{4}$

**8** Dans quelles figures la partie coloriée correspond-elle à la fraction  $\frac{1}{2}$  ?


 (A)

 (B)

 (C)

 (D)

$\frac{1}{2}$ , c'est la moitié.



#### Complète :

3 199 999 < \_\_\_\_\_

\_\_\_\_\_ < 5 230 200

\_\_\_\_\_ < 534 080

100100 100 < \_\_\_\_\_

354 999 < \_\_\_\_\_

A ECA NA

### 3. Mémoriser les tables de multiplications.

|  |  |  |  |  |
|--|--|--|--|--|
|  |  |  |  |  |
|  |  |  |  |  |

A ECA NA

### 4. Connaître les techniques opératoires.

Sur ton cahier, pose et calcule les 4 opérations suivantes :

$3\ 683 \times 6 =$

$625 \times 342 =$

$86\ 534 - 5\ 567 =$

$65\ 454 : 4 ?$

### 5. Résoudre des problèmes relevant des 4 opérations.

A ECA NA

Attention, tu dois montrer comment tu arrives au résultat.

Au festival des vieux tracteurs, 406 759 personnes sont venues écouter Les pirates, 123 645 ont préféré voir The Big Dog, et seulement 94 745 ont vu les Georgettes. Combien de spectateurs, le festival des vieux tracteurs a-t-il accueilli ?

A ECA NA

### Mémoriser les tables de multiplications.

|  |  |  |  |  |
|--|--|--|--|--|
|  |  |  |  |  |
|  |  |  |  |  |

A ECA NA

### 6. Connaître les techniques opératoires.

Sur ton cahier, pose et calcule les 4 opérations suivantes :

$3\ 683 \times 6 =$

$625 \times 342 =$

$86\ 534 - 5\ 567 =$

$65\ 454 : 4 ?$

### 7. Résoudre des problèmes relevant des 4 opérations.

A ECA NA

Attention, tu dois montrer comment tu arrives au résultat.

Au festival des vieux tracteurs, 406 759 personnes sont venues écouter Les pirates, 123 645 ont préféré voir The Big Dog, et seulement 94 745 ont vu les Georgettes. Combien de spectateurs, le festival des vieux tracteurs a-t-il accueilli ?