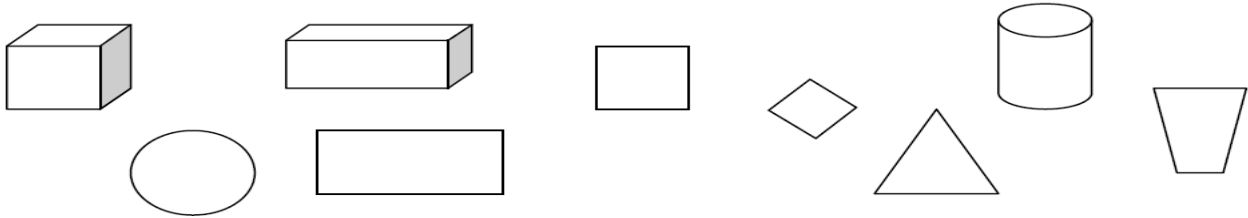


1. Colorie les solides en bleu et les non solides en rouge.



2. Ecris le nom de chaque solide sur les pointillés.

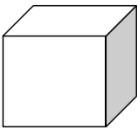









.....



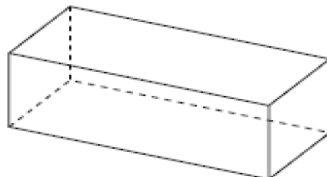
.....

3. Colorie les faces qui appartiennent au solide.

<u>Solides</u>	<u>Faces</u>		
			
			

4. Fais ce que l'on te demande, puis réponds aux questions.

Repasse les arêtes en vert, dessine un point rouge sur chaque sommet et colorie une face en bleu.



→ Quel est ce solide ?.....

→ Complète le tableau :

<u>Nombre de sommets</u>	<u>Nombre de faces</u>	<u>Nombre d'arêtes</u>