


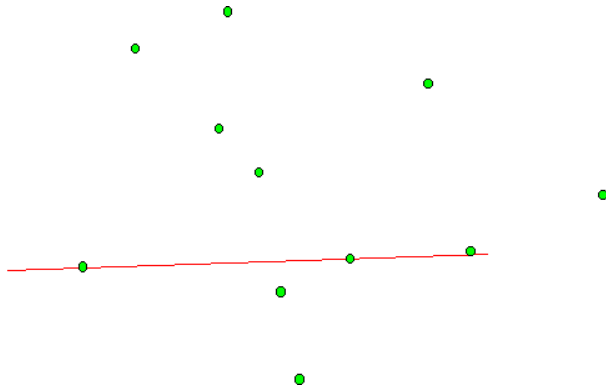
Date: _____

Alignements des points

1. La ligne droite passe sur trois points. Trace toutes les lignes droites qui passent sur trois points :



2. Trace les lignes droites qui passent sur 3 ou 4 points :




3. Les points sont-ils alignés ?

oui non

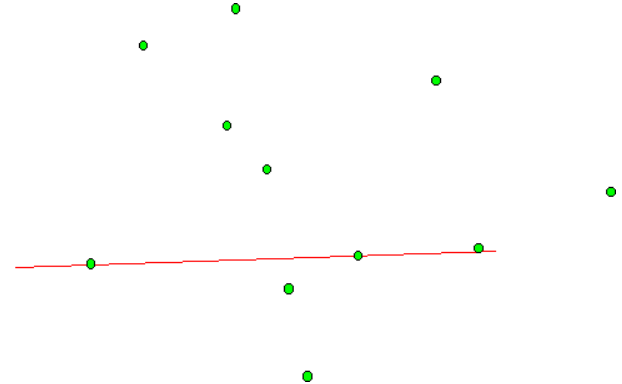
Date: _____

Alignements des points

1. La ligne droite passe sur trois points. Trace toutes les lignes droites qui passent sur trois points :



2. Trace les lignes droites qui passent sur 3 ou 4 points :



3. Les points sont-ils alignés ?

oui non

