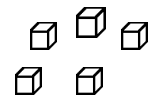
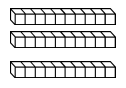
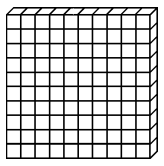


Date: _____

Décomposer les nombres de 100 à 199 (1)

1. Observe cette collection et complète:



c	d	u

...centaine ...dizaines ...unités
 100 + +

En lettres: cent.....

2. Complète le tableau comme l'exemple:

	<table border="1"> <tr><td>c</td><td>d</td><td>u</td></tr> <tr><td>1</td><td>3</td><td>1</td></tr> </table>	c	d	u	1	3	1	131	Cent-trente-et-un
c	d	u							
1	3	1							
	<table border="1"> <tr><td>c</td><td>d</td><td>u</td></tr> <tr><td></td><td></td><td></td></tr> </table>	c	d	u				112	
c	d	u							
	<table border="1"> <tr><td>c</td><td>d</td><td>u</td></tr> <tr><td>1</td><td>4</td><td>5</td></tr> </table>	c	d	u	1	4	5		Cent-quarante-cinq
c	d	u							
1	4	5							
	<table border="1"> <tr><td>c</td><td>d</td><td>u</td></tr> <tr><td></td><td></td><td></td></tr> </table>	c	d	u				187	
c	d	u							
	<table border="1"> <tr><td>c</td><td>d</td><td>u</td></tr> <tr><td></td><td></td><td></td></tr> </table>	c	d	u					Cent-quatre-vingt-dix-huit
c	d	u							

Date: _____

Décomposer les nombres de 100 à 199 (2)

1. Retrouve la somme d'argent que possède chaque enfant:

Nathan		
Gabriel		
Yanis		
Zoé		

2. Combien te faut-il de billets et de pièces pour obtenir la somme indiquée?

106 euros			
160 euros			
86 euros			
129 euros			