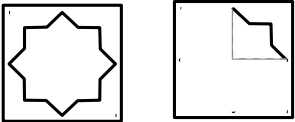

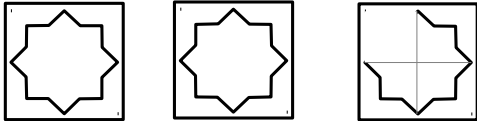
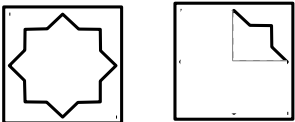



Nombre de gâteaux obtenus par chaque joueur	Coller les gâteaux correspondants	Le nombre de gâteaux collé correspond-il au nombre indiqué dans la 1ère colonne ? Si non, pourquoi ?
$1 + \frac{(1)}{(2)}$		
$2 + \frac{(1)}{(4)}$		
$1 + \frac{(3)}{(4)}$		

Nombre de gâteaux obtenus par chaque joueur	Coller les gâteaux correspondants	Le nombre de gâteaux collé correspond-il au nombre indiqué dans la 1ère colonne ? Si non, pourquoi ?
$1 + \frac{(1)}{(2)}$		
$2 + \frac{(1)}{(4)}$		
$1 + \frac{(3)}{(4)}$	