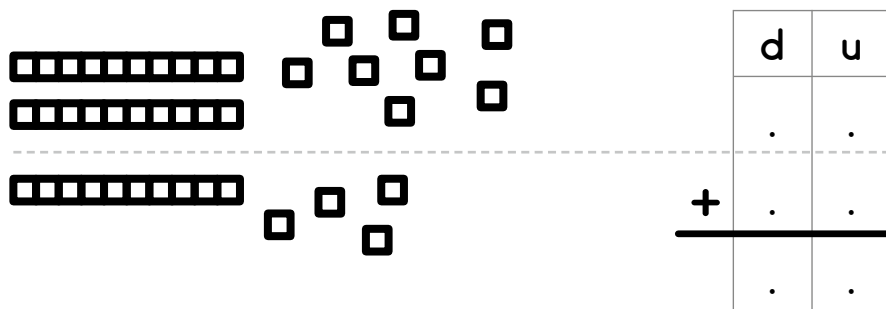
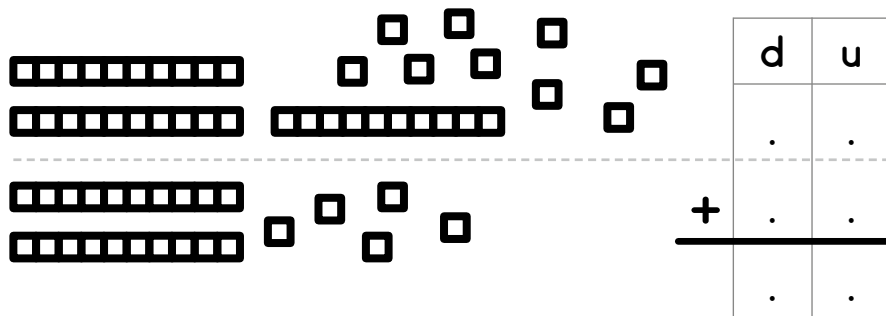


Écris le nombre de cubes de chaque collection.
Calcule la somme des deux nombres trouvés.



Pose l'opération et calcule.

25+39

d	u
.	.
.	.
.	.

36+48

d	u
.	.
.	.
.	.

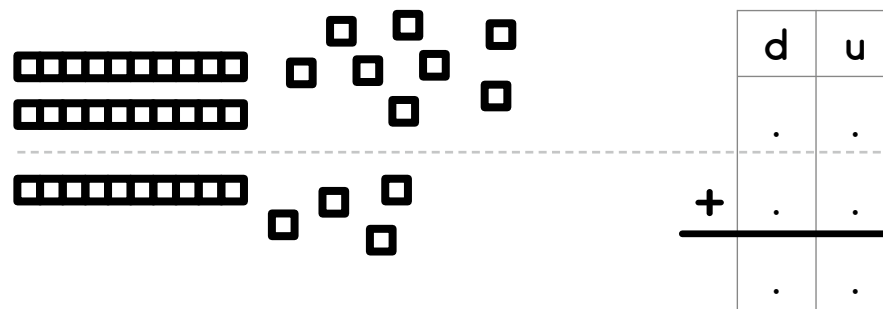
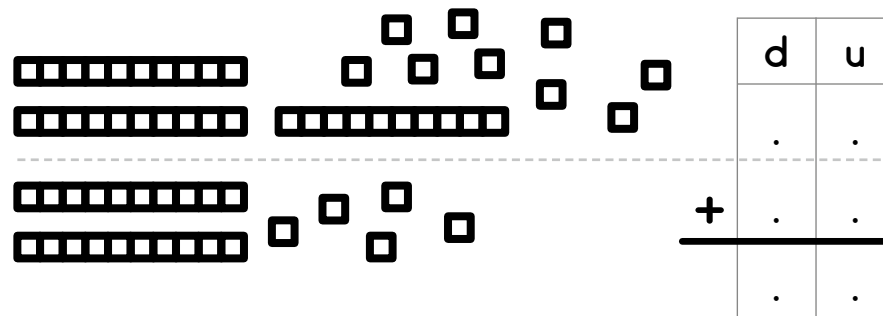
55+25

d	u
.	.
.	.
.	.

27+37

d	u
.	.
.	.
.	.

Écris le nombre de cubes de chaque collection.
Calcule la somme des deux nombres trouvés.



Pose l'opération et calcule.

25+39

d	u
.	.
.	.
.	.

36+48

d	u
.	.
.	.
.	.

55+25

d	u
.	.
.	.
.	.

27+37

d	u
.	.
.	.
.	.



Calcule.

$$\begin{array}{r} 56 \\ + 27 \\ \hline \end{array}$$

$$\begin{array}{r} 27 \\ + 43 \\ \hline \end{array}$$

$$\begin{array}{r} 74 \\ + 17 \\ \hline \end{array}$$

$$\begin{array}{r} 84 \\ + 13 \\ \hline \end{array}$$

Pose et effectue.

47+45

d	u
.	.
.	.
.	.
.	.

68+27

d	u
.	.
.	.
.	.
.	.

45+44

d	u
.	.
.	.
.	.
.	.

38+38

d	u
.	.
.	.
.	.
.	.

36+53

d	u
.	.
.	.
.	.
.	.

34+56

d	u
.	.
.	.
.	.
.	.

Calcule.

$$\begin{array}{r} 56 \\ + 27 \\ \hline \end{array}$$

$$\begin{array}{r} 27 \\ + 43 \\ \hline \end{array}$$

$$\begin{array}{r} 74 \\ + 17 \\ \hline \end{array}$$

$$\begin{array}{r} 84 \\ + 13 \\ \hline \end{array}$$

Pose et effectue.

47+45

d	u
.	.
.	.
.	.
.	.

68+27

d	u
.	.
.	.
.	.
.	.

45+44

d	u
.	.
.	.
.	.
.	.

38+38

d	u
.	.
.	.
.	.
.	.

36+53

d	u
.	.
.	.
.	.
.	.

34+56

d	u
.	.
.	.
.	.
.	.



57C

Prénom

Date

Maths au CP

Nombres
et calculs

Pose et effectue les opérations.

$35+48$

d u

. .

$+$

. .

$33+29$

d u

. .

$+$

. .

$48+38$

d u

. .

$+$

. .

$29+39$

d u

. .

$+$

. .

$52+28$

d u

. .

$+$

. .

$45+27$

d u

. .

$+$

. .

Calcule le nombre total de gâteaux.

36	27
gâteaux	gâteaux
!	!

57C

Prénom

Date

Maths au CP

Nombres
et calculs

Pose et effectue les opérations.

$35+48$

d u

. .

$+$

. .

$33+29$

d u

. .

$+$

. .

$48+38$

d u

. .

$+$

. .

$29+39$

d u

. .

$+$

. .

$52+28$

d u

. .

$+$

. .

$45+27$

d u

. .

$+$

. .

Calcule le nombre total de gâteaux.

36	27
gâteaux	gâteaux
!	!



Écris les additions en colonnes et calcule.

$$42 + 25 + 22$$

d	u
.	.
.	.
+	.
.	.

$$26 + 32 + 4$$

d	u
.	.
.	.
+	.
.	.

$$50 + 27 + 18$$

d	u
.	.
.	.
+	.
.	.

$$25 + 25 + 25$$

d	u
.	.
.	.
+	.
.	.

Écris les additions en colonnes et calcule.

$$42 + 25 + 22$$

d	u
.	.
.	.
+	.
.	.

$$26 + 32 + 4$$

d	u
.	.
.	.
+	.
.	.

$$50 + 27 + 18$$

d	u
.	.
.	.
+	.
.	.

$$25 + 25 + 25$$

d	u
.	.
.	.
+	.
.	.

