
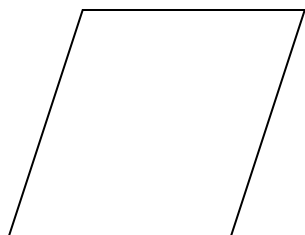



Compétence : Reconnaître, décrire, nommer et reproduire, tracer des figures géométriques : carré, rectangle, losange, triangle rectangle

Objectif : Reconnaître un rectangle

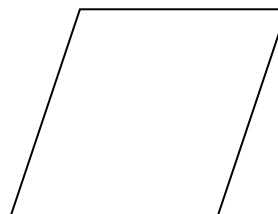
Utilise tes instruments et vérifie s'il s'agit ou non de carré, puis colorie les carrés.




Compétence : Reconnaître, décrire, nommer et reproduire, tracer des figures géométriques : carré, rectangle, losange, triangle rectangle

Objectif : Connaître les propriétés du carré

1/ Explique pourquoi cette figure n'est pas un carré :




2/ Explique pourquoi cette figure est un carré :



Compétence : Reconnaître, décrire, nommer et reproduire, tracer des figures géométriques
: carré, rectangle, losange, triangle rectangle

Objectif : Tracer un carré sur un quadrillage

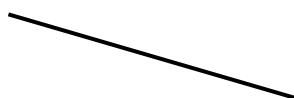
Trace un carré en utilisant ce quadrillage :



Compétence : Reconnaître, décrire, nommer et reproduire, tracer des figures géométriques
: carré, rectangle, losange, triangle rectangle

Objectif : Tracer un carré en utilisant les outils de géométrie

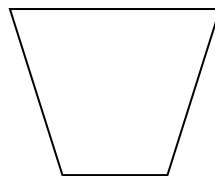

Termine ce carré :



Compétence : Reconnaître, décrire, nommer et reproduire, tracer des figures géométriques : carré, rectangle, losange, triangle rectangle

Objectif : Reconnaître un rectangle

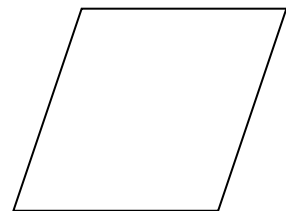
Utilise tes instruments et vérifie s'il s'agit ou non de rectangle. Colorie alors les rectangles.



Compétence : Reconnaître, décrire, nommer et reproduire, tracer des figures géométriques : carré, rectangle, losange, triangle rectangle

Objectif : Connaître les propriétés du rectangle

1/ Est-ce que cette figure est un rectangle ? Pourquoi ?




2/ Est-ce que cette figure est un rectangle ? Pourquoi ?



Compétence : Reconnaître, décrire, nommer et reproduire, tracer des figures géométriques
: carré, rectangle, losange, triangle rectangle

Objectif : Tracer un rectangle sur un quadrillage


Trace un rectangle en utilisant ce quadrillage :



Compétence : Reconnaître, décrire, nommer et reproduire, tracer des figures géométriques
: carré, rectangle, losange, triangle rectangle

Objectif : Tracer un rectangle en utilisant les outils de géométrie


Termine ce rectangle :



Compétence : Reconnaître, décrire, nommer et reproduire, tracer des figures géométriques
: carré, rectangle, losange, triangle rectangle

Objectif : Distinguer carré/rectangle/losange

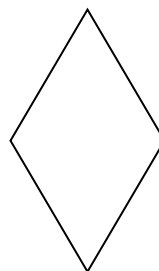
Colorie en jaune les carrés, en vert les rectangles et en rouge les losanges



Compétence : Reconnaître, décrire, nommer et reproduire, tracer des figures géométriques
: carré, rectangle, losange, triangle rectangle

Objectif : Connaître les propriétés du losange


Est-ce que cette figure est un losange ? Pourquoi ?



Compétence : Reconnaître, décrire, nommer et reproduire, tracer des figures géométriques : carré, rectangle, losange, triangle rectangle

Objectif : Tracer un losange sur un quadrillage


Trace un losange en utilisant ce quadrillage :



Compétence : Reconnaître, décrire, nommer et reproduire, tracer des figures géométriques : carré, rectangle, losange, triangle rectangle

Objectif : Reconnaître un triangle rectangle parmi d'autres triangles


Colorie les triangles rectangles :



Compétence : Reconnaître, décrire, nommer et reproduire, tracer des figures géométriques : carré, rectangle, losange, triangle rectangle

Objectif : Tracer un triangle rectangle sur un quadrillage

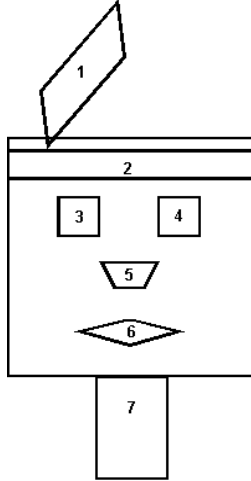
Trace un triangle-rectangle en utilisant ce quadrillage :



Compétence : Reconnaître, décrire, nommer et reproduire, tracer des figures géométriques : carré, rectangle, losange, triangle rectangle

Objectif : Reconnaître, un triangle, un rectangle, un carré et un losange parmi d'autres figures

Complète le tableau en observant la forme :

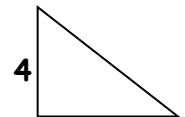
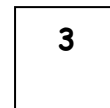
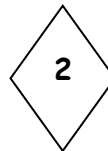



Numéro	Nom de la forme
1	
2	
3	
4	
5	
6	
7	

Compétence : Reconnaître, décrire, nommer et reproduire, tracer des figures géométriques : carré, rectangle, losange, triangle rectangle

Objectif : Connaître, retrouver les propriétés du carré, rectangle, losange et triangle rectangle.



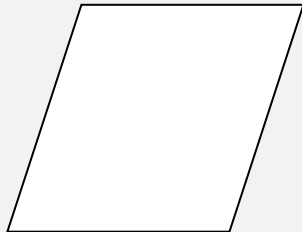

Complète le tableau suivant :



Figures	Nombre de côtés	Nombre de sommets	Nombre d'angles droits	4 côtés de même longueur	Côtés opposés de même longueur	Côtés opposés parallèles	Nom de la figure
1							
2							
3							
4							

CORRECTION

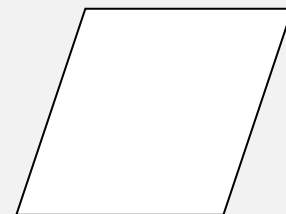
Utilise tes instruments et vérifie s'il s'agit ou non de carré, puis colorie les carrés.



CORRECTION


1/ Explique pourquoi cette figure n'est pas un carré :

Cette figure n'a pas ses 4 côtés de la même longueur ni d'angles droits.



2/ Explique pourquoi cette figure est un carré :

Cette figure a 4 côtés de même longueur et 4 angles droits.



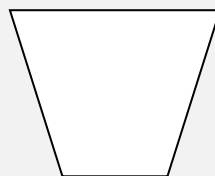

CORRECTION

Trace un carré en utilisant ce quadrillage :

Faire valider par l'enseignant

CORRECTION

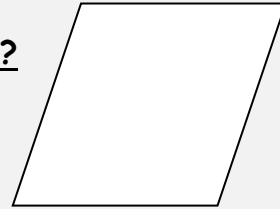
Utilise tes instruments et vérifie s'il s'agit ou non de rectangle. Colorie alors les rectangles.



CORRECTION


1/ Est-ce que cette figure est un rectangle ? Pourquoi ?

Ce n'est pas un rectangle car elle n'a pas d'angles droits.



2/ Est-ce que cette figure est un rectangle ? Pourquoi ?

C'est un rectangle car elle a ses côtés opposés de la même longueur ainsi que 4 angles droits.



CORRECTION

Trace un rectangle en utilisant ce quadrillage :

Faire valider par l'enseignant

MATHEMATIQUES - GEOMETRIE

FICHE GE.19

CORRECTION

Trace un rectangle en utilisant ce quadrillage :

Faire valider par l'enseignant

MATHEMATIQUES - GEOMETRIE

FICHE GE.20


CORRECTION

Termine ce rectangle :

Faire valider par l'enseignant

CORRECTION

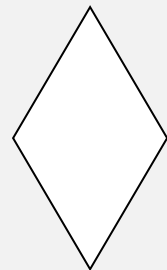
Colorie en jaune les carrés, en vert les rectangles et en rouge les losanges



CORRECTION

Est-ce que cette figure est un losange ? Pourquoi ?

Cette figure est un losange car elle a ses 4 côtés de la même longueur mais aucun angle droit.



MATHEMATIQUES - GEOMETRIE

FICHE GE.23

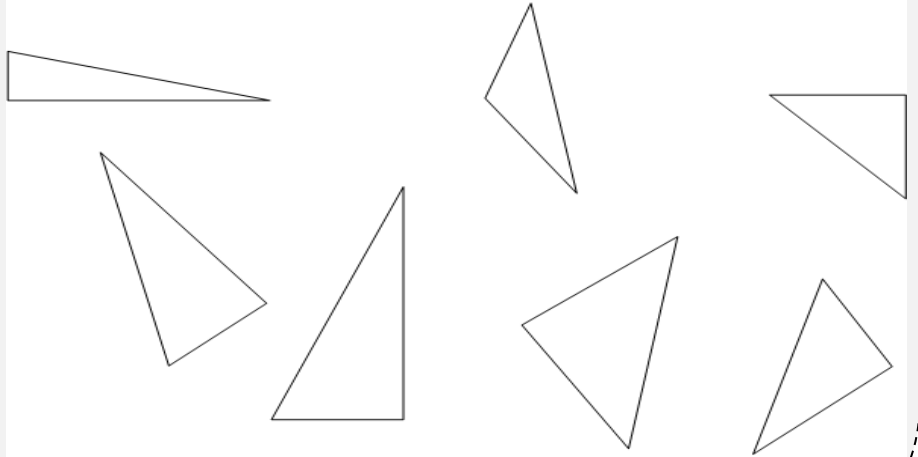
CORRECTION

Trace un losange en utilisant ce quadrillage :

Faire valider par l'enseignant

CORRECTION

Colorie les triangles rectangles :



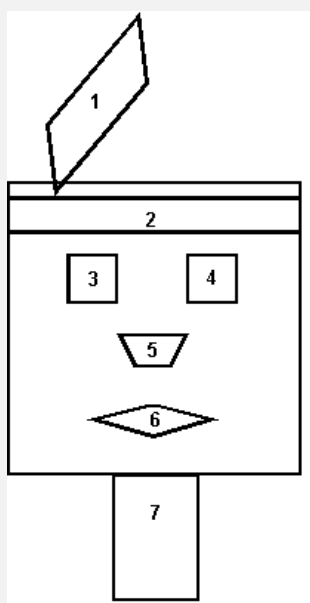
CORRECTION

Trace un triangle rectangle en utilisant ce quadrillage :

Faire valider par l'enseignant

CORRECTION

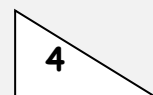

Complète le tableau en observant la forme :



Numéro	Nom de la forme
1	un parallélogramme
2	un rectangle
3	un carré
4	un carré
5	un trapèze
6	un losange
7	un rectangle

CORRECTION

Complète le tableau suivant :



Figures	Nombre de côtés	Nombre de sommets	Nombre d'angles droits	4 côtés de même longueur	Côtés opposés de même longueur	Côtés opposés parallèles	Nom de la figure
1	4	4	4	non	oui	oui	un rectangle
2	4	4	0	oui	oui	oui	un losange
3	4	4	4	oui	oui	oui	un carré
4	3	3	3				un triangle rectangle