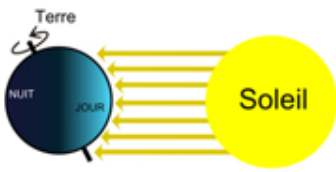


Activité – La Terre et le soleil – CM1

Observe les documents et réponds aux questions.

**Document 1**



1) Quelle est la position de la Terre ?

\_\_\_\_\_

2) Comment la Terre est-elle éclairée ?

\_\_\_\_\_



**Propose une modélisation qui permettrait de représenter le jour et la nuit.**


Matériel : \_\_\_\_\_

Etapes : \_\_\_\_\_

\_\_\_\_\_

\_\_\_\_\_

**Document 2**



3) Vers quelle direction se lève le soleil ?

\_\_\_\_\_


4) Vers quelle direction se couche le soleil ?

\_\_\_\_\_

Activité - La Terre et le soleil - CM1

Observe les documents et réponds aux questions.

**Document 1**



1) Quelle est la position de la Terre ?

\_\_\_\_\_

2) Comment la Terre est-elle éclairée ?

\_\_\_\_\_

**Propose une modélisation qui permettrait de représenter le jour et la nuit.**

Matériel :

\_\_\_\_\_


Etapes :

\_\_\_\_\_

\_\_\_\_\_

\_\_\_\_\_

\_\_\_\_\_



3) Vers quelle direction se lève le soleil ?

\_\_\_\_\_

4) Vers quelle direction se couche le soleil ?

\_\_\_\_\_