

fiche N7 a

Quel nombre correspond à la décomposition ?

1	$300+40+6$	7	$100+100+10+10+10+10+10+1+1+1$
---	------------	---	--------------------------------

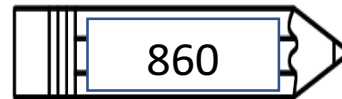
2	$600+70+2$	8	$100+100+100+10+10+10+10+10+10+1+1+1+1+1$
---	------------	---	---

3	$200+2$	9	$100+100+100+100+100+100+10+10+10+1+1+1+1+1+1+1+1$
---	---------	---	--

4	$100+50$	10	$100+100+100+100+100+100+100+100+10+10+10+10+10+10$
---	----------	----	---

5	$800+80+3$	11	$100+100+100+100+100+100+100+100+1+1+1+1+1+1$
---	------------	----	---

6	$400+60+7$	12	$100+100+10+10+10+10+10+10+10+10+10+1+1+1+1+1$
---	------------	----	--



fiche N2 b

Quel nombre correspond à la décomposition ?

1  $3\ 000+500+40+6$

7  $1\ 000+1\ 000+100+100+100+10+10+10+10+10+1+1+1$

2  $(4\times 1\ 000)+(2\times 100)+(7\times 10)+(2\times 1)$

8  $1\ 000+100+100+10+10+10+10+10+10+1+1+1+1+1$

3  $(9\times 1\ 000)+(2\times 10)+(2\times 1)$

9  $1\ 000+1\ 000+1\ 000+1\ 000+10+10+10+1+1+1+1+1+1+1+1$

4  $6\ 000+800+50+9$

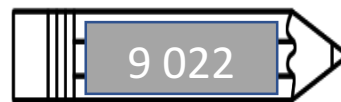
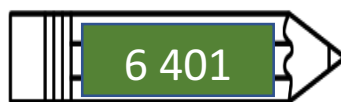
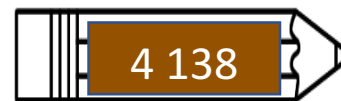
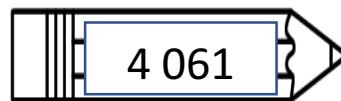

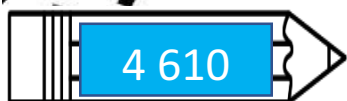
10  $1\ 000+1\ 000+1\ 000+1\ 000+1\ 000+10+10+10+10+10+10+1$

5  $(7\times 1\ 000)+(8\times 100)+(3\times 1)$

11  $1\ 000+1\ 000+1\ 000+1\ 000+1\ 000+1\ 000+100+100+100+100+1$

6  $6000+5$

12  $1\ 000+1\ 000+1\ 000+1\ 000+100+100+100+100+100+100+10$



Fiche N7 a

Prénom : .....

1	2	3	4
5	6	7	8
9	10	11	12

Fiche N7 a

Prénom : .....

1	2	3	4
5	6	7	8
9	10	11	12

Fiche N7 a

Prénom : .....

1	2	3	4
5	6	7	8
9	10	11	12

Fiche N7 a

Prénom : .....

1	2	3	4
5	6	7	8
9	10	11	12

Fiche N7 a

Prénom : .....

1	2	3	4
5	6	7	8
9	10	11	12

Fiche N7 a

Prénom : .....

1	2	3	4
5	6	7	8
9	10	11	12

Fiche N7 a

Prénom : .....

1	2	3	4
5	6	7	8
9	10	11	12

Fiche N7 a

Prénom : .....

1	2	3	4
5	6	7	8
9	10	11	12