




A



B



C



D



E



F

Retrouve les pendules qui indiquent les heures où Max fait ces activités :

Max se lève.

Il entre en classe.


Il va à la cantine.

Il sort de l'école.

Il prend son repas du soir.

Il va se coucher.

Observe les horaires de l'école, puis complète le panneau d'affichage.



	ouverture	fermeture
matin		
après-midi		

Quelle heure est-il ? (le matin)

Quelle heure est-il ? (le soir)





1 ▶ Complète les pendules.



7 : 00

Il est 7 heures.




8 : 30

Il est 8 heures 30.



Il est midi.



Il est 16 heures 30.

2 ▶ Relie.



10 : 00



13 : 30



20 : 00



11 : 30

8 : 00

3 ▶ Mets dans l'ordre de la journée les heures qu'indique la montre de Magalie.

10 : 30

23 : 00

7 : 00

16 : 15

13 : 00

21 : 30

18 : 00



4 ▶ Quelle heure est-il ? Entoure les bonnes réponses.



Il est 9 heures 30.

Il est 6 heures.

Il est 9 heures.



Il est 15 heures.

Il est midi.

Il est 3 heures.



Il est 3 heures 25.

Il est 17 heures 15.

Il est 5 heures 15.