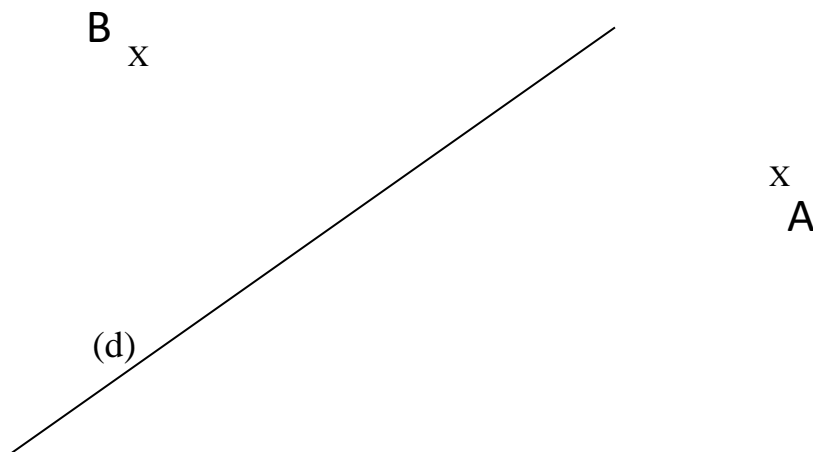


Cm1 : Tracer des droites parallèles et perpendiculaires

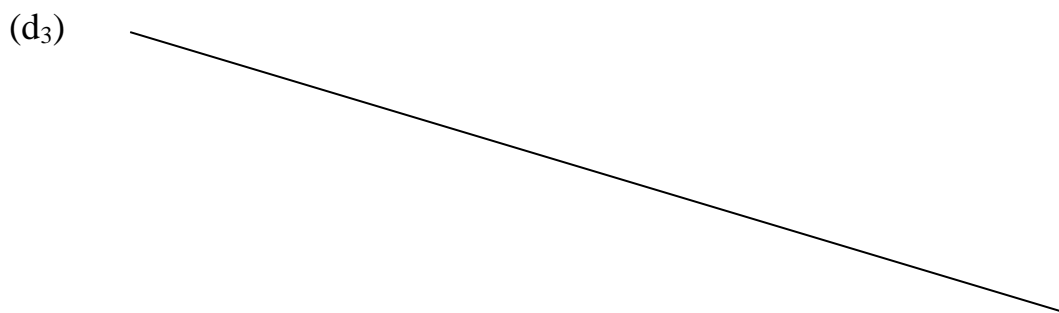
Compétences évaluées :

- | Compétences évaluées : | A | B | C | D |
|--|---|---|---|---|
| 1. Tracer une droite parallèle à une autre passant par un point donné. | | | | |
| 2. Tracer plusieurs droites parallèles entre elles en respectant un programme de construction. | | | | |
| 3. Réaliser une construction géométrique avec soin et précision. | | | | |

1 Trace une droite (d1) parallèle à (d) passant par A et une droite (d2) parallèle à (d) passant par B.



Trace la droite (d4) parallèle à (d3) distance de 2 cm. Trace ensuite la droite (d5) parallèle à (d4) distante de 3 cm.



N'oublie pas de nommer tes droites !!



Nom :

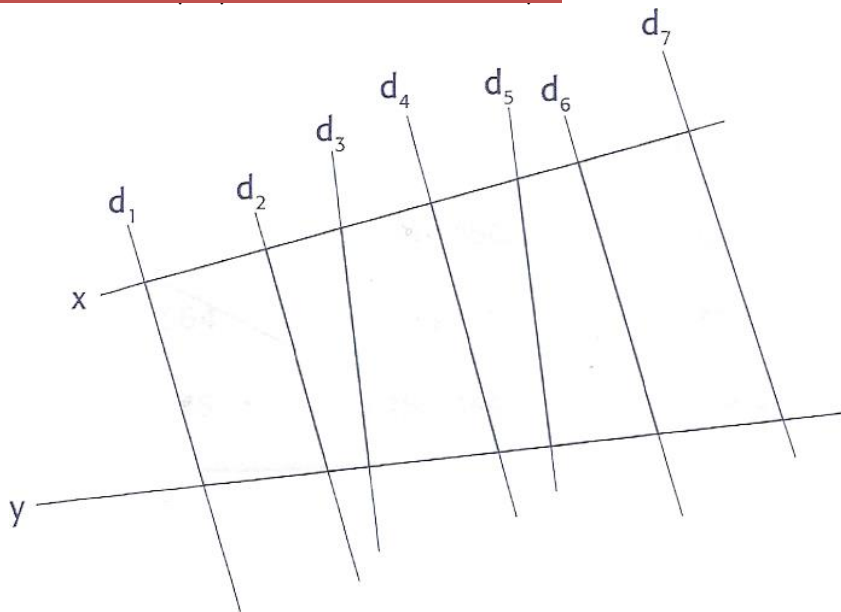
Prénom :

Date :

Compétence évaluée :	A	B	C	D
Vérifier que plusieurs droites sont perpendiculaires.				

1 Quelles sont les droites perpendiculaires à la droite x ?

2 Quelles sont les droites perpendiculaires à la droite y ?

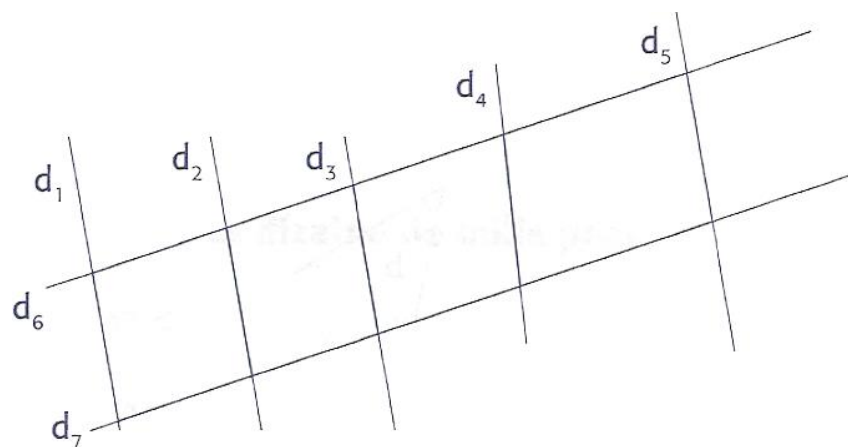


Les droites perpendiculaires à la droite x sont

Les droites perpendiculaires à la droite y sont

Compétence évaluée :	A	B	C	D
Vérifier que plusieurs droites sont parallèles.				

3 Quelles sont les droites parallèles entre elles ?



Les droites parallèles entre elles sont :

.....