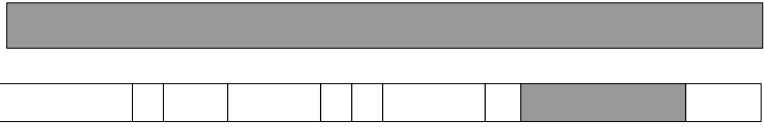
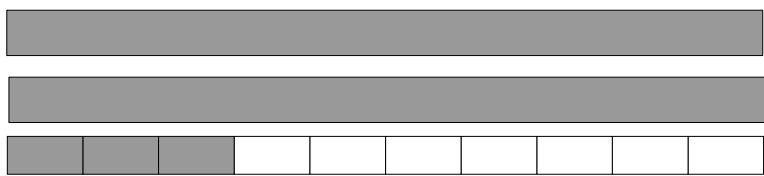
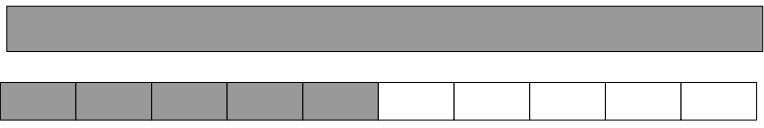
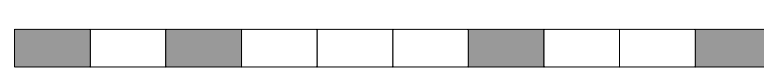


Le nombre de bandes grisées dans la 2ème colonne correspond-il au nombre indiqué dans la 1ère colonne ? Indiquer et justifier la réponse dans la 3ème colonne

Nombre de bandes	Bandes grisées	OUI ou NON et pourquoi ?
$1 + \frac{(1)}{(10)}$		
$2 + \frac{(3)}{(10)}$		
$1 + \frac{(5)}{(10)}$		
$\frac{(4)}{(10)}$		

Bandes grisées	Nombre de bandes grisées
