

NOM :
Prénom :
Classe :

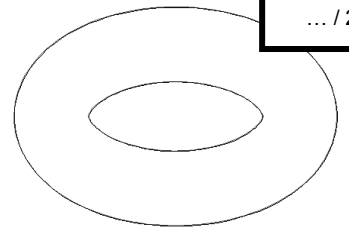
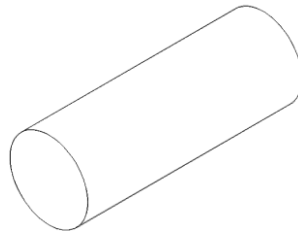
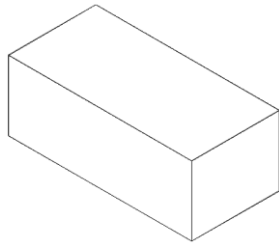
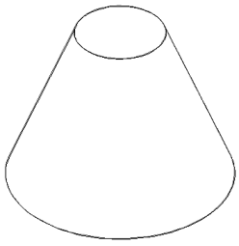
Contrôle
Les volumes / Perspective cavalière



CI 2 : L'analyse morphologique et la représentation du réel

... / 20

Exercice 1 : Nommer les volumes ci dessous :



... / 2

.....

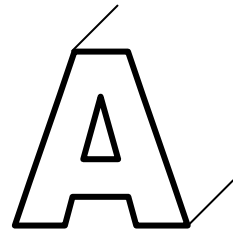
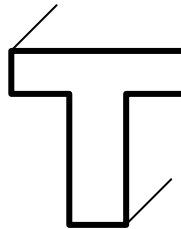
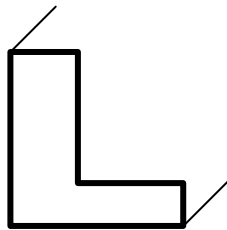
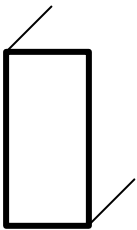
.....

.....

.....

Exercice 2 : Réaliser les perspectives cavalières des lettres ci dessous

... / 6



Exercice 3 : Convertir en mm

10 cm =mm

0.8 cm =mm

2.4 cm =mm

... / 3

Exercice 4 :

Q1 : Déterminer le nom du volume ci dessous.

... / 1

Q2 Déterminer les dimensions de ce volume.

... / 2

Q3 : Colorier les surfaces du volume sur les dessins de définition en fonction des couleurs proposées sur la perspective.

... / 3

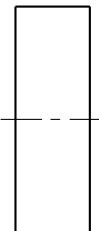
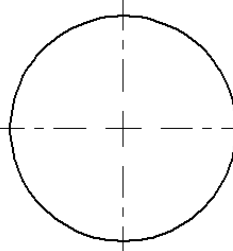
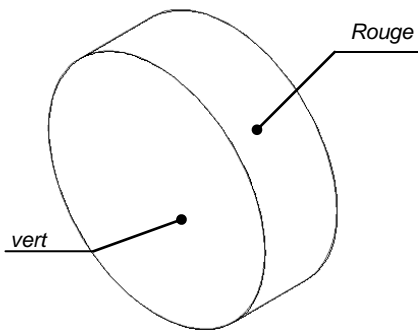
NOM :

.....

Dimensions du volume :

Diamètre : mm

Hauteur : mm



Echelle 1 : 1

Q4 : Réaliser ce volume sur le logiciel informatique et appeler le professeur.

... / 3