










Géométrie 1

Écris où se trouvent  la primevère

 le crocus

	1	2	3	4	5
A					
B					
C					
D					
E					

Dessine les insectes et colorie-les.



B 4



C 1



D 2



E 5

	1	2	3	4	5
A					
B					
C					
D					
E					

