



# Les nombres de 0 à 30 (1)

1 Dictée de nombres.

a

5

b

18

c

9

d

13


e

24

f

11

2 Relie les nombres de 1 en 1 à la règle.



3 Relie.

7 •

12 •

4 •

16 •

20 •

11 •

• vingt

• seize

• quatre

• sept

• onze

• douze

4 Complete. Sur chaque ligne, les nombres doivent se suivre de 1 en 1.

				4	5	6					
--	--	--	--	---	---	---	--	--	--	--	--

19	20	21									
----	----	----	--	--	--	--	--	--	--	--	--

5 Range les nombres du plus petit au plus grand.

10 - 30 - 22 - 16 - 5 - 27 - 14



-----




6 Range les nombres du plus grand au plus petit.

3 - 19 - 28 - 7 - 12 - 15 - 24



-----



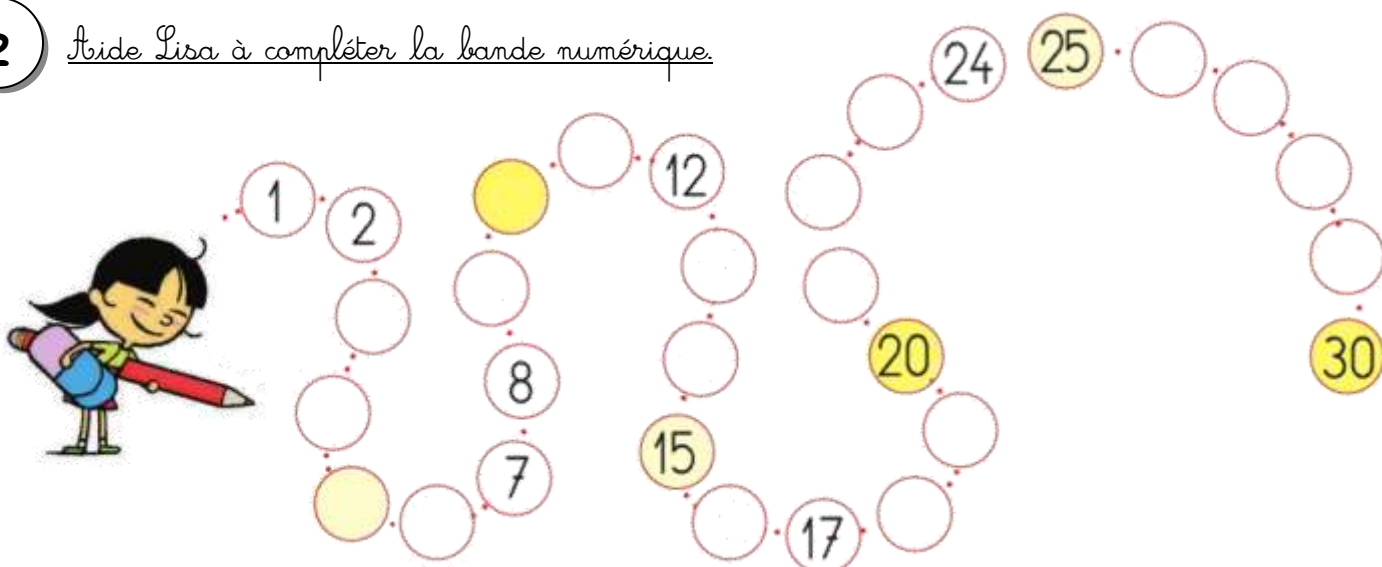


# Les nombres de 0 à 30 (2)

1 Dictée de nombres.

a 17    b 30    c 22    d 19    e 13    f 9

2 Aide Lisa à compléter la bande numérique.

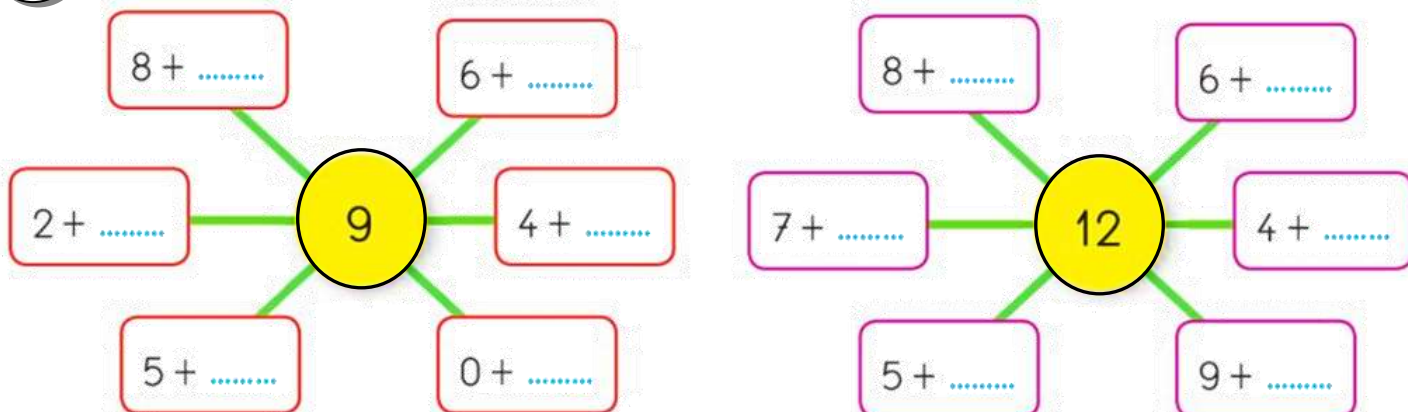


3 Lis les étiquettes et écris-les mots à la bonne place.

cinq    un    quatre    six    dix  
huit    sept    trois    neuf    deux

1 : \_\_\_\_\_    2 : \_\_\_\_\_    3 : \_\_\_\_\_    4 : \_\_\_\_\_  
5 : \_\_\_\_\_    6 : \_\_\_\_\_    7 : \_\_\_\_\_    8 : \_\_\_\_\_  
9 : \_\_\_\_\_    10 : \_\_\_\_\_

4 Complète pour obtenir le nombre écrit au centre





# Les nombres de 0 à 30 (3)

1 Dictée de nombres.

a 18    b 12    c 26    d 10    e 14    f 21


2 Complète. Sur chaque ligne, les nombres doivent se suivre de 1 en 1.

		14				18	19				
--	--	----	--	--	--	----	----	--	--	--	--

3 Compte puis écris le nombre en chiffre et en lettre.



4 ⇒ quatre



⇒



⇒



⇒



⇒



⇒



⇒

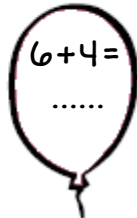
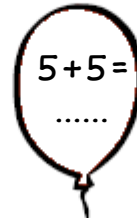
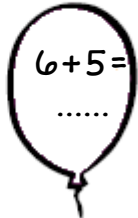
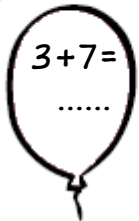
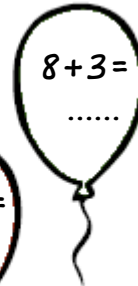


⇒



⇒


4 Calcule, puis colorie uniquement les ballons dont le résultat est égal à 10.



5 Range les nombres du plus petit au plus grand.

8 - 25 - 11 - 4 - 17 - 30 - 28





# Les nombres de 0 à 30 (4)

1 Dictée de nombres en lettres.

a

six

b

sept

c

huit

d

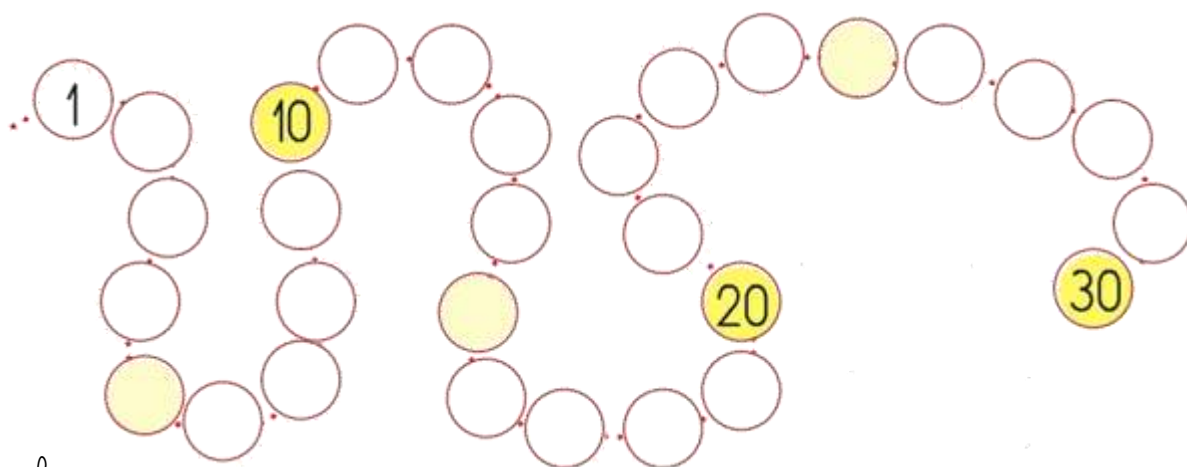
neuf

e

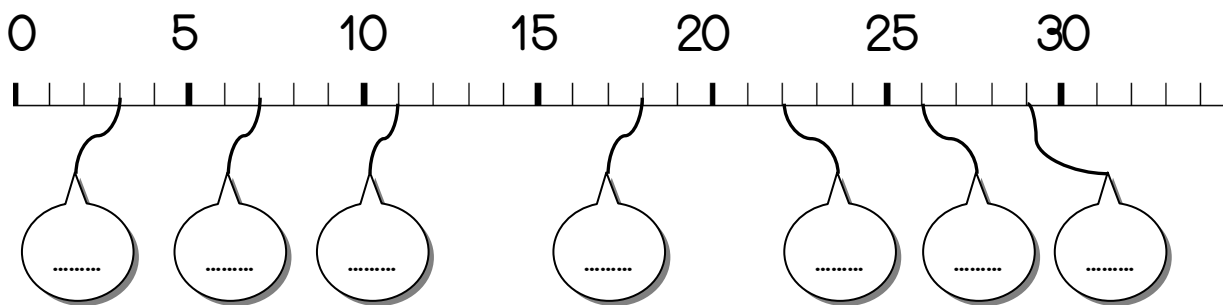
dix

2 Ecris les nombres suivants à leur place :

4 - 8 - 13 - 19 - 25 - 26



3 Complete.



4 Colorie de la même couleur les étiquettes d'un même nombre.

5 Ecris le nombre juste avant et celui juste après.

..... - 10 - .....

..... - 28 - .....

..... - 11 - .....

..... - 24 - .....

..... - 19 - .....

..... - 17 - .....



# Les nombres de 0 à 30 (5)

1 Dictée de nombres

a 11    b 16    c 20    d 18    e 13    f 15

2 Ecris les nombres en chiffres.

dix

quatorze

trente

vingt-neuf

dix-huit

vingt-et-un

3 Complete

5 + ..... = 10

8 + ..... = 10

9 + ..... = 10

7 + ..... = 10

1 + ..... = 10

..... + 3 = 10

..... + 4 = 10

..... + 1 = 10

6 + ..... = 10

4 Ecris les nombres en lettres.



13	
15	
11	

16	
12	
17	

5 Colorie suivant le code.

9 : marron

10 : bleu

12 : vert

15 : jaune

