

## 3

CP

## Bilan du plan de travail :

-  Programme tenu
-  Programme non tenu
-  Programme dépassé

Commentaires :



Copie : Copie ce texte sans erreur.

La décuplette est un vélo sur lequel on pouvait monter à dix. Le tricycle est un vélo à trois roues pour les petits enfants.

[illegible]

**Orthographe** : Cherche les mots dans les textes de ton livre pour les écrire sans erreur.



**Lecture** : Colorie si tu entends [v].



**Orthographe** : Copie ces mots.

naïve que -

quel -

vers -

maintenant -

aujourd'hui -

**Lecture** : Lis ce texte.

Mélanie veut laver l'auto de papa. Elle a pris le pot à eau. Elle lave tout : les carreaux, les roues... mais elle n'arrive pas à faire le haut. Alors, Gafi arrive et porte Mélanie. Le fantôme met de la boue sur l'auto. Il est tout sale car il était dans le pré et il jouait avec le taureau à faire peur aux taupes.

Fais un point vert si c'est vrai, un point rouge si c'est faux.

Mélanie veut laver l'auto de son papa.	Mélanie a pris un seau.
Elle lave les roues de la voiture.	Gafi a mis de la boue sur l'auto.
Gafi jouait dans un pré.	Mélanie a joué avec un taureau.

Réponds par une phrase.

- Que prend Mélanie pour laver l'auto ?

---

- Avec qui Gafi a-t-il joué dans le pré ?

---

**Grammaire** : Remets les mots en ordre pour reconstruire les phrases.



N'oublie pas les majuscules et les points !

Le - colère - taureau - attaque - en - Arthur

Mélanie - trouvé - cadeau - boutique - a - un - dans - une

**Production d'écrit** : Ecris une phrase ou un petit texte puis colorie le dessin.

[illegible]

**Numération** : Range les nombres du plus petit au plus grand.

43	22	47	33	40	39
----	----	----	----	----	----

--	--	--	--	--	--

**Numération** : Range les nombres du plus grand au plus petit.

43	14	35	46	23	32
----	----	----	----	----	----

--	--	--	--	--	--

**Numération** : Relie.

quarante-deux

42

trente-quatre

41

quarante et un

43

quarante-trois

34

**Numération** : Ecris en lettres.

42 : \_\_\_\_\_

46 : \_\_\_\_\_

39 : \_\_\_\_\_

**Calcul** : Calcule ces additions.

	2	5
+	1	3

	1	6
+	2	2

**Calcul mental** : Calcule ces opérations.

25 + 10 = \_\_\_\_\_

26 - 10 = \_\_\_\_\_

34 + 10 = \_\_\_\_\_

34 - 10 = \_\_\_\_\_

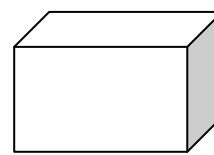
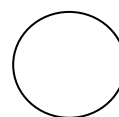
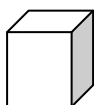

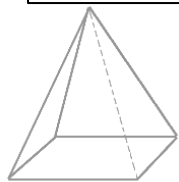
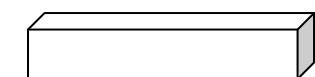
11 + 10 = \_\_\_\_\_

47 - 10 = \_\_\_\_\_

48 + 10 = \_\_\_\_\_

12 - 10 = \_\_\_\_\_

**Géométrie** : Colorie les pavés en bleu, les sphères en rouge et les pyramides en vert.



**Problème**

Julien a 25 ans. Son papa a 21 ans de plus.

Quel âge a le père de Julien ?


Schéma

Calcul :

Phrase réponse :

## Pour aller plus loin...

**Orthographe** : Ecris les mots sous les dessins.



**Production d'écrit** : Lis le texte puis invente une suite.

Mélanie a lavé la voiture de son papa,  
mais Gafi a mis de la boue partout.

[illegible]

**Grammaire** : Remets les mots dans l'ordre.

Mélanie - lavé - auto - de - papa - l' - a - son

**Numération** : Relie les points de 1 à 48.



**Géométrie** : Reproduis ce dessin sur le quadrillage de droite.

