


Le périmètre d'un polygone

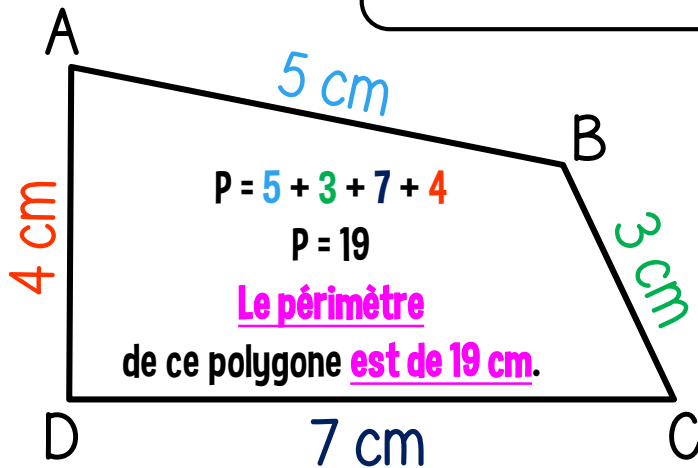


MÉMO


① La longueur
du contour d'une figure s'appelle le périmètre.

MÉMO

② On calcule
le périmètre d'un polygone en
additionnant la longueur de tous ses côtés.



Le périmètre



On utilise des "formules magiques" pour mesurer le périmètre des carrés et des rectangles.

3 cm



$$P = \text{côté} \times 4$$

$$P = c \times 4$$

$$P = 3 \times 4$$

$$P = 12 \text{ cm}$$

7 cm



$$P = (\text{Longueur} + \text{largeur}) \times 2$$

$$P = (L + l) \times 2$$

$$P = (7 + 3) \times 2$$

$$P = 20 \text{ cm}$$