

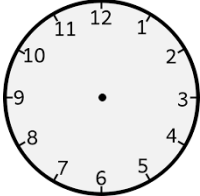
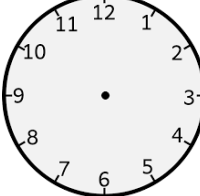
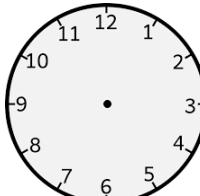
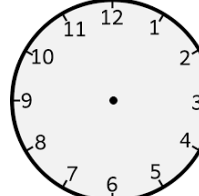
Mathématiques au CP : mon défi de fin d'année

- est ce que je sais écrire les nombres de plusieurs manières ?
- est ce que je sais afficher l'heure sur une horloge ?
- est ce que je sais reproduire une figure sur le quardillage ?

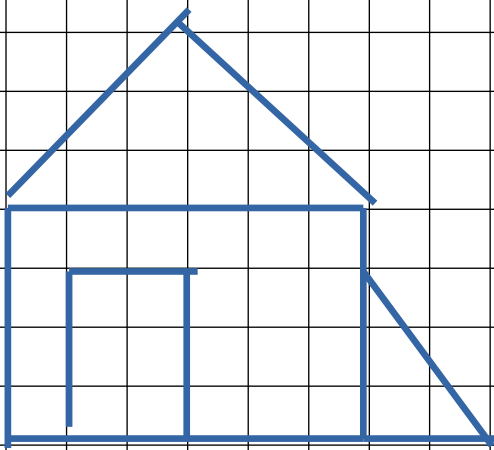
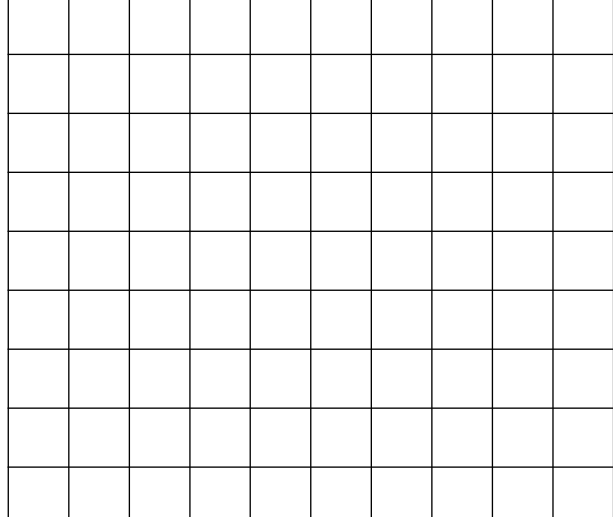
1. Ecris les nombres de différentes manières.

42	quarante deux	$40 + 2$
62		
57		
75		

2. Place les aiguilles sur l'horloge.

 10h00	 4h00	 6:00	 13:00
--	---	--	--

3. Reproduis la figure avec la règle.

	
---	--